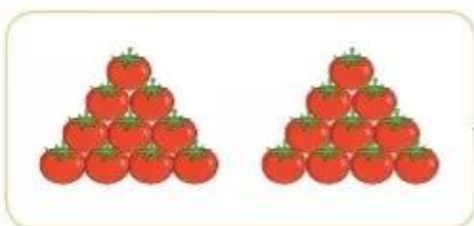


ÔN TẬP  
PHÉP NHÂN, PHÉP CHIA



luyện tập

1 Tìm phép nhân thích hợp.



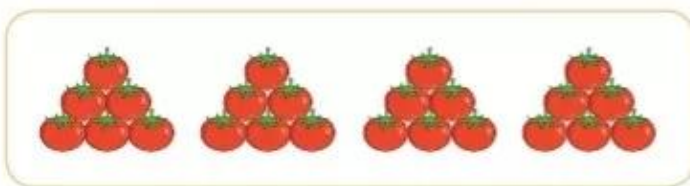
$4 \times 5 = 20$



$6 \times 4 = 24$



$10 \times 2 = 20$



$3 \times 6 = 18$

2 Viết tích thành tổng rồi tính (theo mẫu).

a)  $3 \times 4$

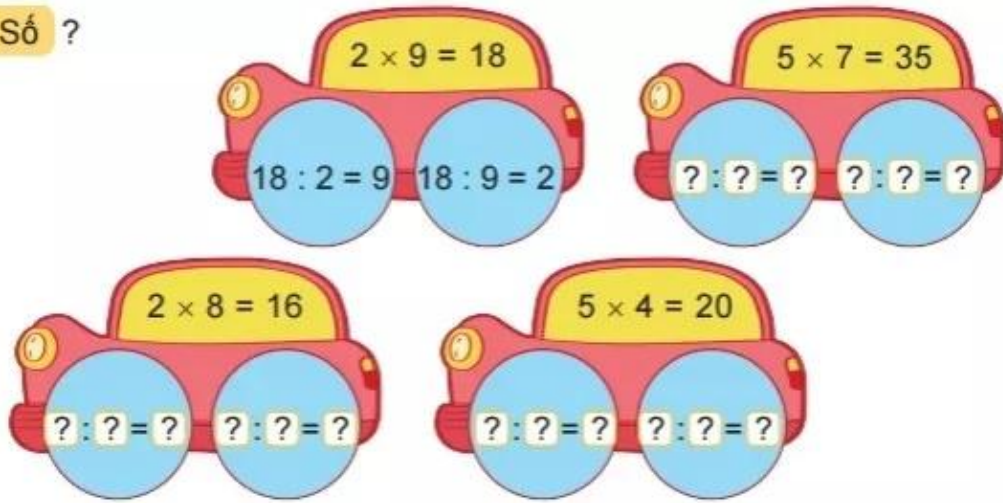
b)  $9 \times 2$

c)  $6 \times 5$

Mẫu:  $3 \times 4 = 3 + 3 + 3 + 3 = 12$

$3 \times 4 = 12$

**3** Số ?



**4** Mỗi chùm có 5 quả dứa. Hỏi 4 chùm dứa như vậy có bao nhiêu quả?

**5** Liên hoan tết Trung thu, cô giáo mua về cho lớp 15 hộp bánh. Cô chia đều bánh cho 5 tổ. Hỏi mỗi tổ được mấy hộp bánh?



**luyện tập**

**1** Số ?


a)

×	2	2	2	5	5	5
	3	7	9	2	4	8
	6	?	?	?	?	?

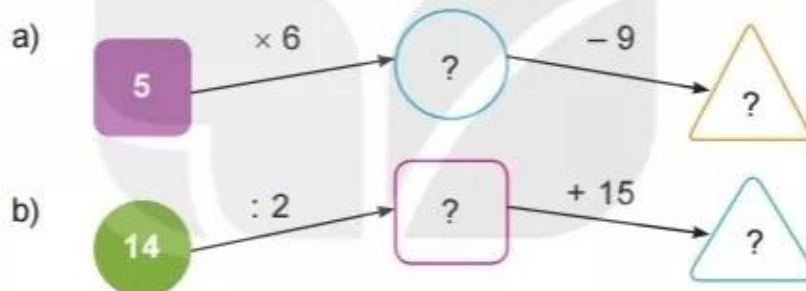
b)

:	6	10	16	20	35	40
	2	2	2	5	5	5
	3	?	?	?	?	?


2 Mỗi con ong sẽ đậu vào bông hoa nào?



3 Số ?



4 Mỗi đợt thi múa rồng có 2 đội tham gia. Hỏi 4 đợt thi múa rồng như vậy có bao nhiêu đội tham gia?



5 Bác thợ mộc chia một thanh gỗ dài 20 dm thành 5 đoạn bằng nhau. Hỏi mỗi đoạn dài bao nhiêu đề-xi-mét?



**1** Số ?


a)

Thừa số	5	5	5	5	2	2	2
Thừa số	3	2	4	7	5	8	9
Tích	15	?	?	?	?	?	?

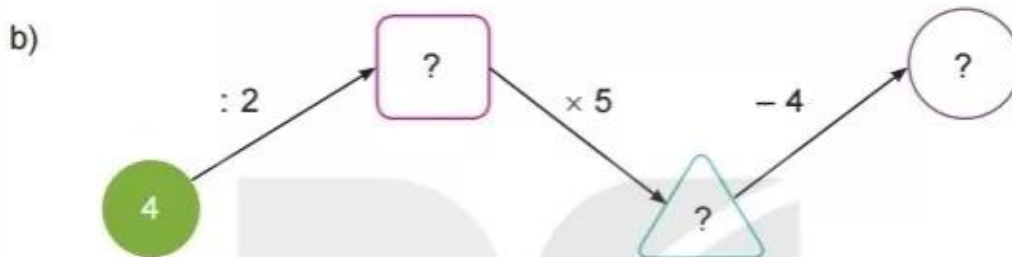
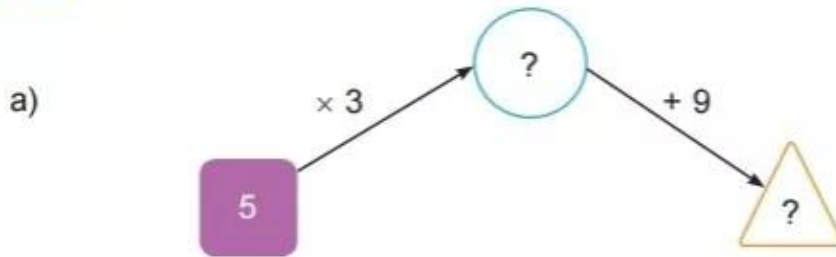
b)

Số bị chia	15	18	20	35	16	20	40
Số chia	5	2	5	5	2	2	5
Thương	3	?	?	?	?	?	?

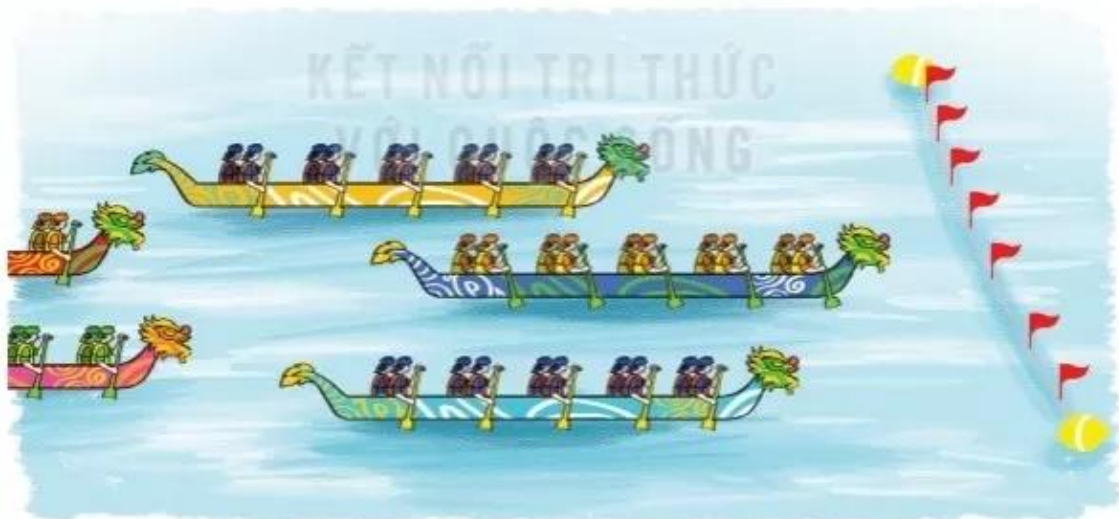
**2** Mỗi con thỏ được lấy các củ cà rốt ghi phép tính có kết quả là số ghi trên con thỏ đó. Hỏi con thỏ nào lấy được nhiều củ cà rốt nhất?



**3** Số ?



**4** Trong ngày hội đua thuyền, mỗi đợt đua có 5 thuyền tham gia. Hỏi 3 đợt đua như vậy có tất cả bao nhiêu thuyền tham gia?



**5** Rô-bốt đếm trong chuồng cả gà và thỏ có 8 cái chân. Hỏi trong chuồng có mấy con thỏ?