

ÔN TẬP CHUNG



1 a) Viết số theo cách đọc.

- Năm trăm hai mươi lăm.
- Bốn trăm bốn mươi tư.
- Bảy trăm linh bảy.
- Một nghìn.

b) Viết số, biết số đó gồm:

- 3 trăm, 5 chục và 7 đơn vị.
- 6 trăm, 6 chục và 6 đơn vị.
- 1 trăm, 0 chục và 8 đơn vị.
- 8 trăm và 8 chục.

2 Mỗi số được viết thành tổng nào?

666	$600 + 60 + 6$	$300 + 7$	365
440	$200 + 50 + 1$	$800 + 20 + 4$	307
251	$400 + 40$	$300 + 60 + 5$	824

3 Số học sinh của Trường Thăng Lợi như sau:

Khối lớp	Một	Hai	Ba	Bốn	Năm
Số học sinh	325	340	316	295	306

- a) Viết số học sinh các khối lớp Hai, Ba, Bốn và Năm theo thứ tự từ bé đến lớn.
- b) Trong các khối lớp Một, Hai, Ba và Bốn:
- Khối lớp nào có nhiều học sinh nhất?
 - Khối lớp nào có ít học sinh nhất?

4 Số ?

a)

Thừa số	2	2	5	2	5	5	2
Thừa số	5	6	9	3	10	7	10
Tích	10	?	?	?	?	?	?

b)

Số bị chia	10	16	30	8	35	40	50
Số chia	2	2	5	2	5	5	5
Thương	5	?	?	?	?	?	?

5 Bà Năm ra cửa hàng mua 5 chai nước mắm, mỗi chai 2 l. Hỏi bà Năm đã mua bao nhiêu lít nước mắm?



1 a) Đặt tính rồi tính.

$$47 + 35$$

$$82 - 47$$

$$526 + 147$$

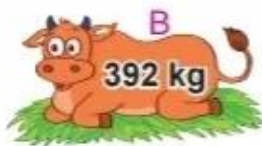
$$673 - 147$$

b) Tính.

$$350 + 42 - 105$$

$$1\ 000 - 300 + 77$$

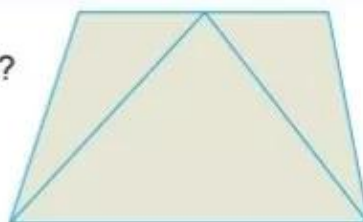
2 Cân nặng của mỗi con bò được cho như sau:



a) Con bò A và con bò C cân nặng tất cả bao nhiêu ki-lô-gam?

b) Con bò B nặng hơn con bò D bao nhiêu ki-lô-gam?

3 a) Có mấy hình tứ giác trong hình bên?



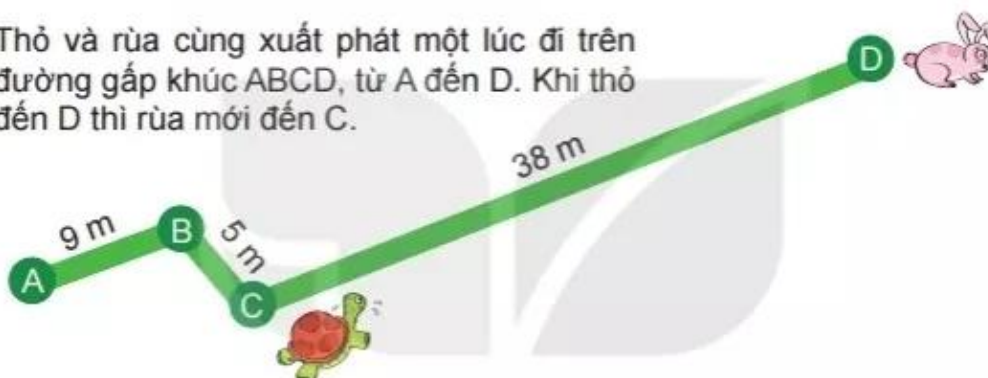
b) Chọn câu trả lời đúng.



Hình thích hợp đặt vào dấu "?" là:



4 Thỏ và rùa cùng xuất phát một lúc đi trên đường gấp khúc ABCD, từ A đến D. Khi thỏ đến D thì rùa mới đến C.



- a) Tính độ dài đường đi của rùa từ A đến C.
b) Tính độ dài đường đi của thỏ từ A đến D.

5 Khu vườn A có 345 cây vải. Khu vườn B có ít hơn khu vườn A là 108 cây vải. Hỏi khu vườn B có bao nhiêu cây vải?

