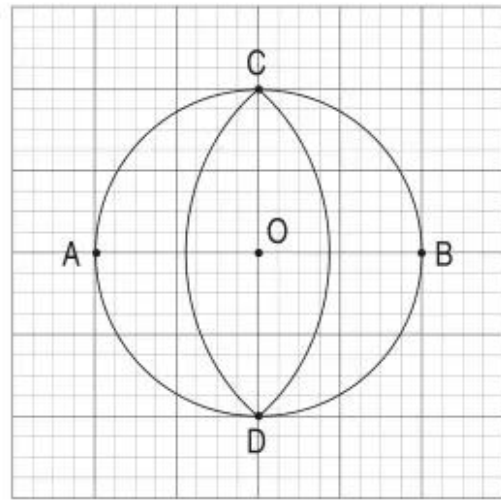
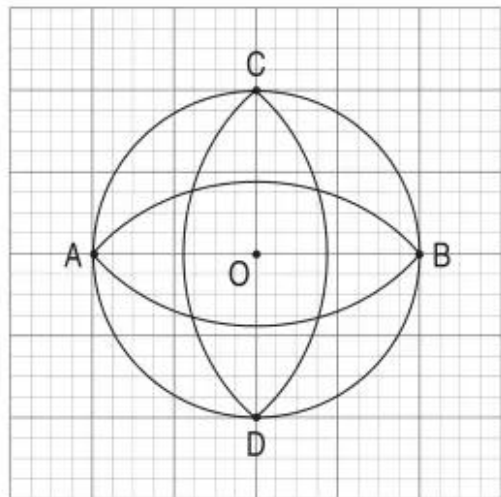


Bước 2 : Dựa trên hình mẫu, HS vẽ phần hình tròn tâm A, bán kính AC và phần hình tròn tâm B, bán kính BC (tạo ra hình như hình bên).

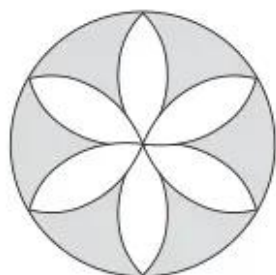


Bước 3 : Dựa trên hình mẫu, HS vẽ tiếp phần hình tròn tâm C, bán kính CA và phần hình tròn tâm D, bán kính DA (tạo ra hình như hình bên).

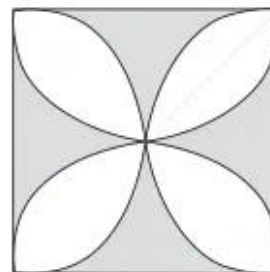


Bài 2 : Cho HS tô màu (theo ý thích của mỗi em) vào hình ở bài 1. GV có thể cho cả lớp xem một vài hình đẹp (để động viên HS).

Có thể khuyến khích HS về nhà tự vẽ lấy các hình trang trí bằng hình tròn mà các em thích, chẳng hạn :



Hình hoa thị



Hình viên gạch hoa

● 109. NHÂN SỐ CÓ BỐN CHỮ SỐ VỚI SỐ CÓ MỘT CHỮ SỐ

A – MỤC TIÊU

Giúp HS :

- Biết thực hiện phép nhân số có bốn chữ số với số có một chữ số (có nhớ một lần).
- Vận dụng phép nhân để làm tính và giải toán.

B – CÁC HOẠT ĐỘNG DẠY HỌC CHỦ YẾU

1. Hướng dẫn trường hợp nhân không nhớ

– GV giới thiệu phép nhân số có bốn chữ số với số có một chữ số và viết lên bảng : $1034 \times 2 = ?$

– Gọi HS nêu cách thực hiện phép nhân và vừa nói, vừa viết như SGK :

• Đặt tính :

$$\begin{array}{r} 1034 \\ \times \quad 2 \\ \hline \end{array}$$