



# Bài

# 33


## An toàn khi đi xe đạp



Chỉ và nói người nào đi đúng, người nào đi sai luật giao thông trong các hình dưới đây :




1



2




3



4



5



6



7



Theo bạn, người đi xe đạp phải đi như thế nào cho đúng luật giao thông ?



“Đèn xanh, đèn đỏ”.



Khi đi xe đạp cần đi bên phải, đúng phần đường dành cho xe đạp, không đi vào đường ngược chiều.