

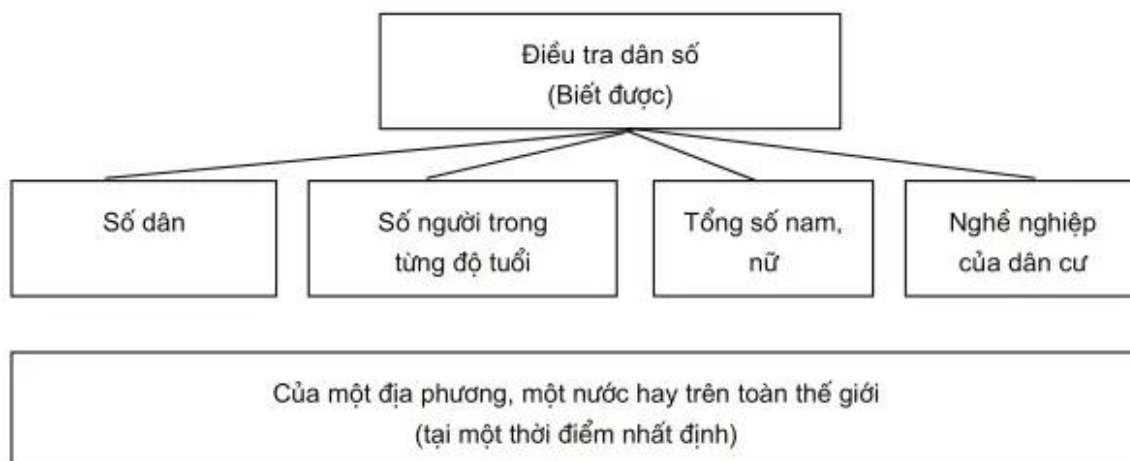
## Phân một

# THÀNH PHẦN NHÂN VĂN CỦA MÔI TRƯỜNG

## Bài 1

### DÂN SỐ


1. Dựa vào sơ đồ dưới đây, em hãy nêu tác dụng của việc điều tra dân số.



2. Căn cứ vào bảng số liệu dưới đây :

Năm	Số dân thế giới (triệu người)	Năm	Số dân thế giới (triệu người)
1000	288	1960	3.010
1500	463	1980	4.415
1850	1.181	1990	5.292
1900	1.647	1995	5.716
1940	2.265	2005	6.477

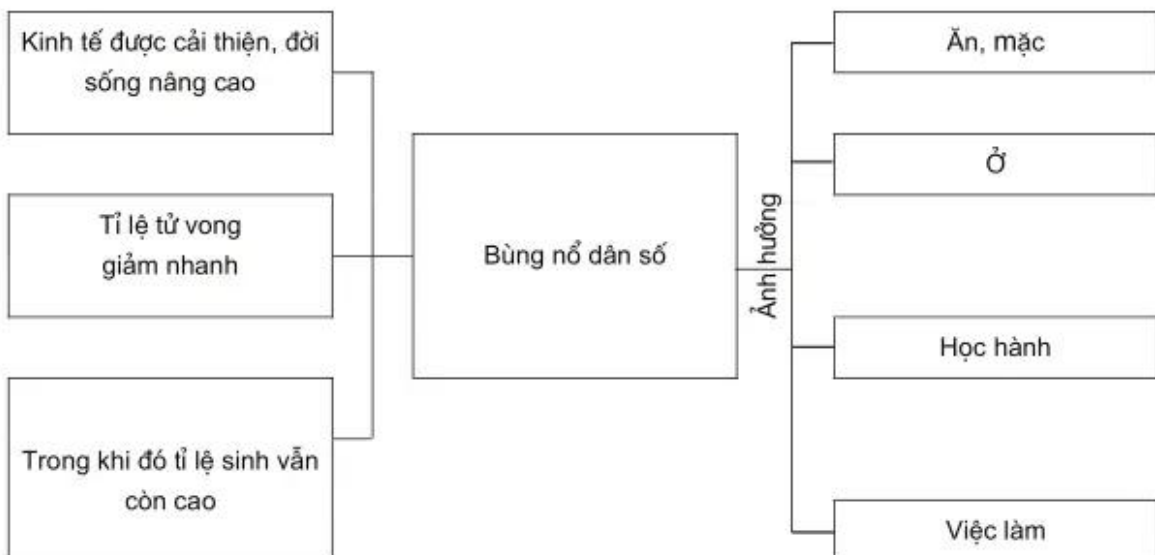
a) Hãy vẽ biểu đồ hình cột, biểu diễn sự phát triển của số dân thế giới từ năm 1000 đến năm 2005.



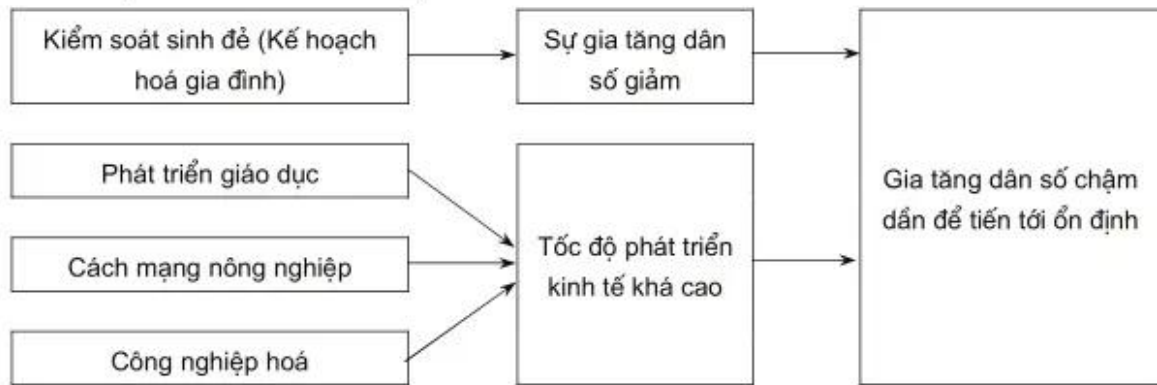
b) Qua biểu đồ đã vẽ, rút ra những nhận xét bằng cách điền vào chỗ (...) trong các câu sau :

- Từ năm ..... đến năm ..... số dân thế giới ngày càng .....
- Trong khoảng thời gian ..... năm, số dân thế giới tăng là ..... triệu người.
- Trung bình một năm tăng ..... triệu người (tăng ..... %/năm).

3. Hoàn thành sơ đồ dưới đây để nêu rõ nguyên nhân và hậu quả của sự bùng nổ dân số :



4. Dựa vào sơ đồ dưới đây :



Hãy nêu những biện pháp để giảm sự gia tăng dân số và ngăn chặn sự bùng nổ dân số.

Trả lời : .....

.....

.....

.....

.....