

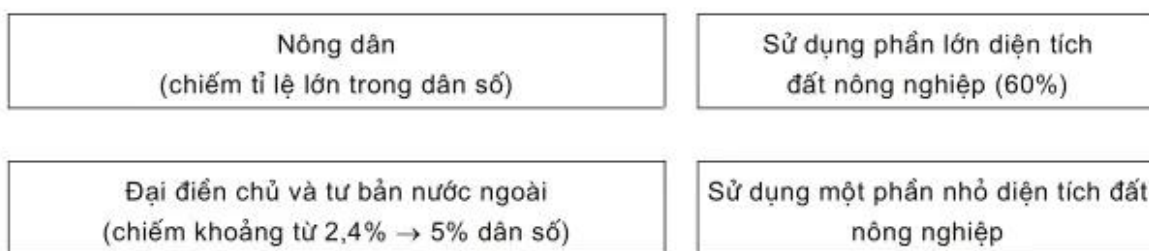
**Bài 44**

**KINH TẾ TRUNG VÀ NAM MĨ**

1. Dựa vào SGK, hoàn thành sơ đồ dưới đây :



2. Hãy nối ô chữ ở bên trái với ô chữ ở bên phải sao cho đúng :



Sự phân chia quyền sử dụng đất đai ở Trung và Nam Mĩ như vậy có ảnh hưởng gì đến sản xuất nông nghiệp và đời sống của người nông dân ?

Trả lời : .....

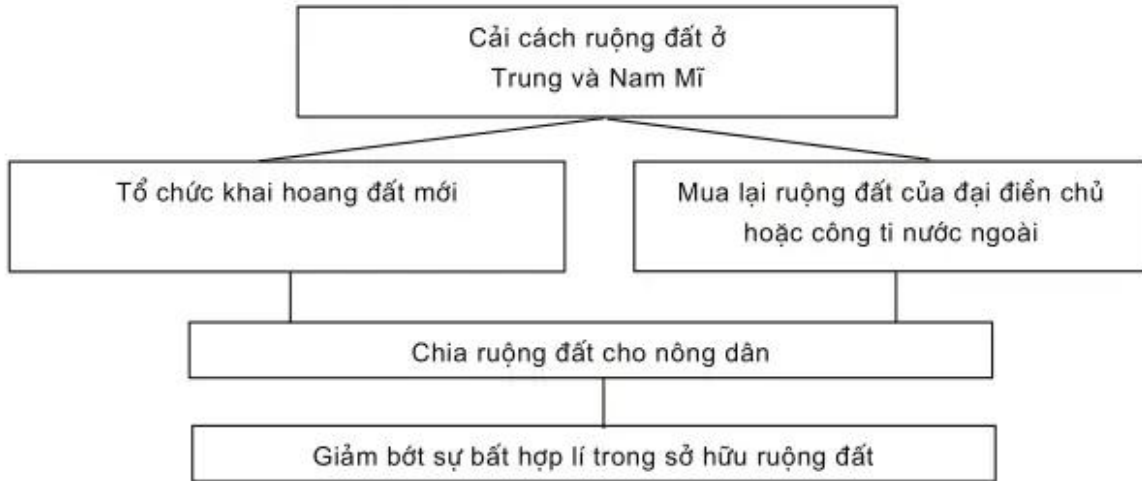
.....

.....

.....

.....

3. Dựa vào sơ đồ dưới đây :



Hãy giải thích tại sao kết quả của cải cách ruộng đất ở Trung và Nam Mĩ lại hạn chế.

Trả lời : .....

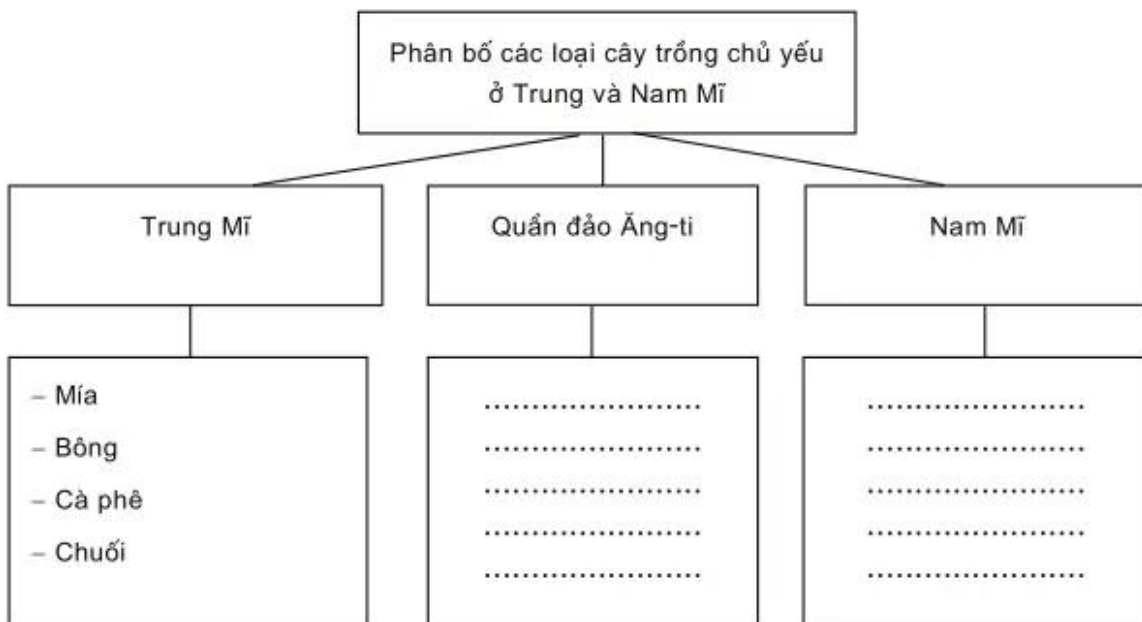
.....

.....

.....

.....

4. Hoàn thành sơ đồ sau :



**Bài 45**

**KINH TẾ TRUNG VÀ NAM MĨ**  
(tiếp theo)

1. Hãy nối các ô chữ ở bên trái với các ô chữ ở bên phải sao cho đúng :

<b>A</b> (Các nước)	<b>B</b> (Các ngành công nghiệp chủ yếu)
Bra-xin, Ac-hen-ti-na, Chi-lê, Vê-nê-xu-ê-la	Khai khoáng
Các nước ở An-đét và Trung Mĩ	Sơ chế nông sản, chế biến thực phẩm
Các nước ở vùng biển Ca-ri-bê	Cơ khí, chế tạo, lọc dầu, hoá chất, dệt, thực phẩm

2. Dựa vào sơ đồ dưới đây :



a) Hãy phân tích giá trị kinh tế của vùng rừng A-ma-dôn.

Trả lời : .....

.....

.....

.....

.....

b) Kết hợp với SGK và kiến thức đã học, giải thích tại sao vùng rừng A-ma-dôn cần được bảo vệ.