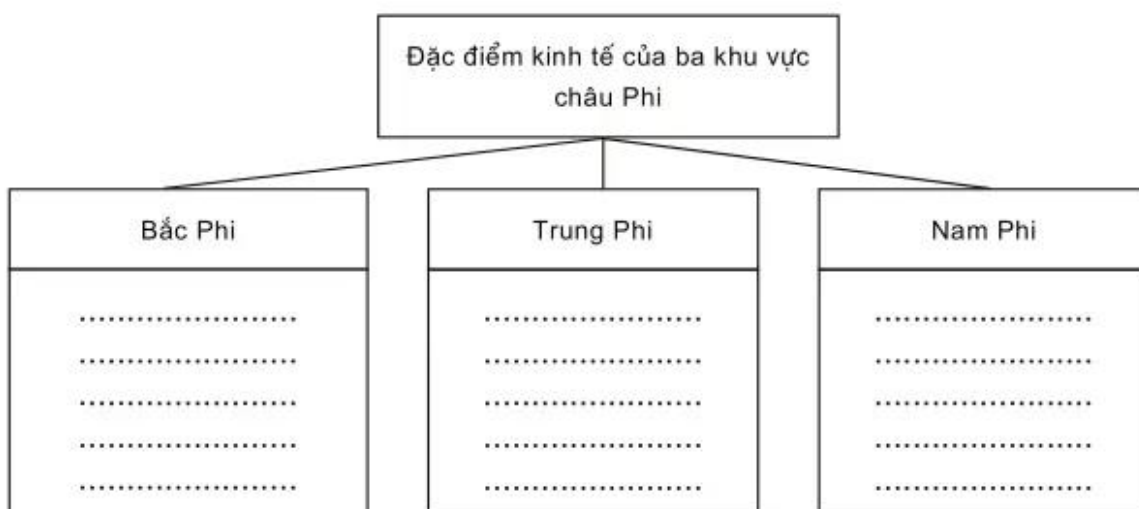


– Các quốc gia có thu nhập bình quân đầu người thấp dưới 200 USD/năm tập trung chủ yếu ở khu vực :.....

– Như vậy, châu Phi có sự phân hoá thu nhập bình quân đầu người giữa ba khu vực :

.....  
.....  
.....

4. So sánh đặc điểm kinh tế của ba khu vực châu Phi bằng cách hoàn thành sơ đồ sau :



## CHÂU MĨ

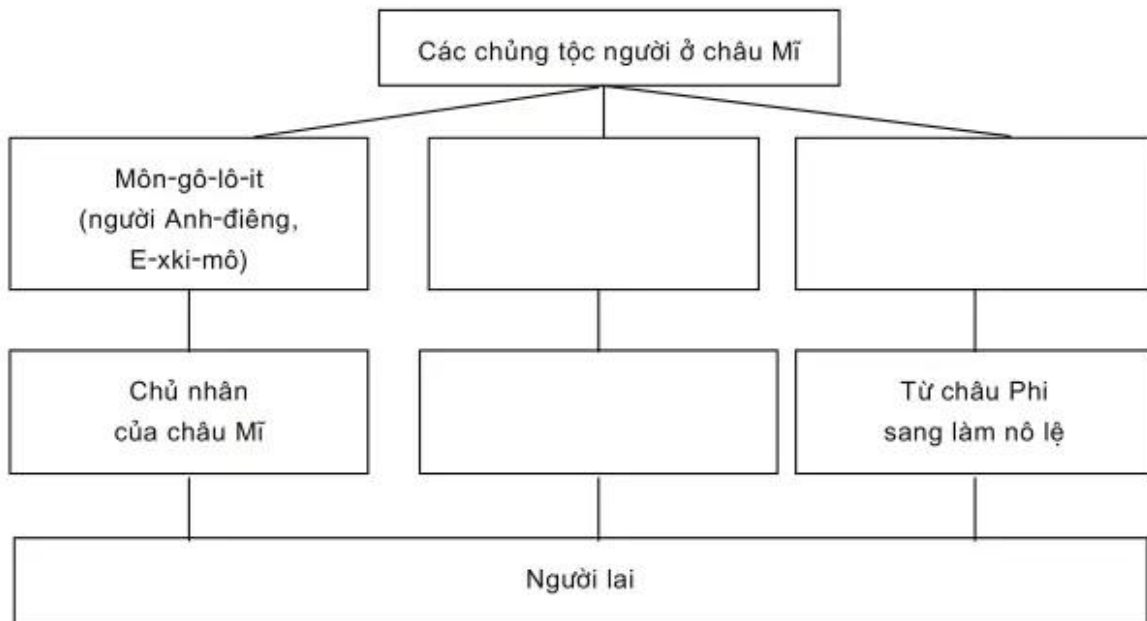
### Bài 35

#### KHÁI QUÁT CHÂU MĨ

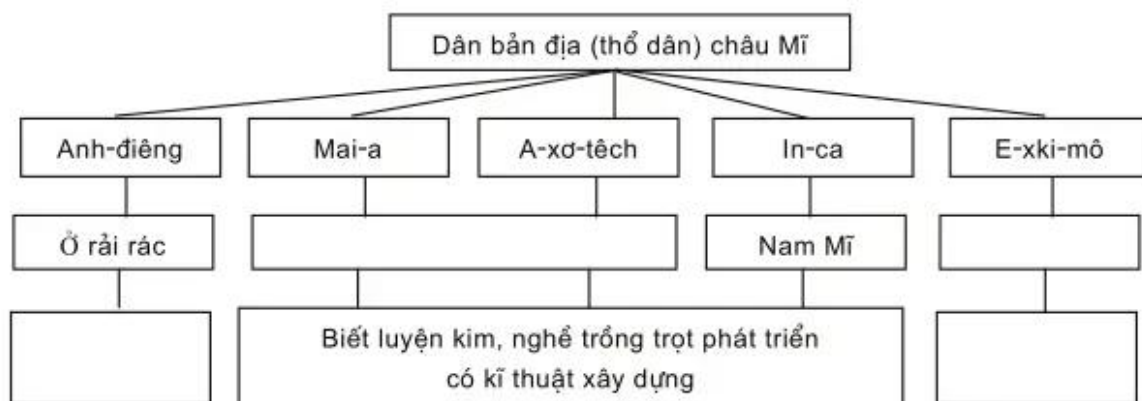
1. Quan sát hình 35.1 – *Lược đồ tự nhiên châu Mỹ*, tr.110 SGK, hãy hoàn thành bảng sau :

| Diện tích | Giới hạn<br>(kinh, vĩ độ) | Tên các biển<br>tiếp giáp | Các miền địa hình   | Giá trị kênh đào<br>Pa-na-ma |
|-----------|---------------------------|---------------------------|---|------------------------------|
|           |                           |                           | Ba miền :<br>- Phía tây : .....<br>.....<br>- Giữa : .....<br>.....<br>- Phía đông : .....<br>..... |                              |

2. Hoàn thành sơ đồ dưới đây để nêu rõ các thành phần chủng tộc người ở châu Mỹ



3. Hoàn thành sơ đồ dưới đây để nêu rõ sự phân bố của các tộc người bản địa ở châu Mỹ và hoạt động kinh tế chính của họ :



4. Hãy nối những ý ở cột A với những ý ở cột B để được những câu đúng.

A

B

- |   |  |
|---|--|
| <ul style="list-style-type: none"> <li>– Người châu Âu di cư sang châu Mĩ</li> <li>– Họ tiêu diệt người bản địa</li> <li>– Cường bức người da đen từ châu Phi sang</li> </ul> | <ul style="list-style-type: none"> <li>– để xâm chiếm đất đai.</li> <li>– làm nô lệ trong các đồn điền.</li> <li>– từ thế kỉ XVI.</li> </ul> |
|---|--|