

Bài 57

KHU VỰC TÂY VÀ TRUNG ÂU

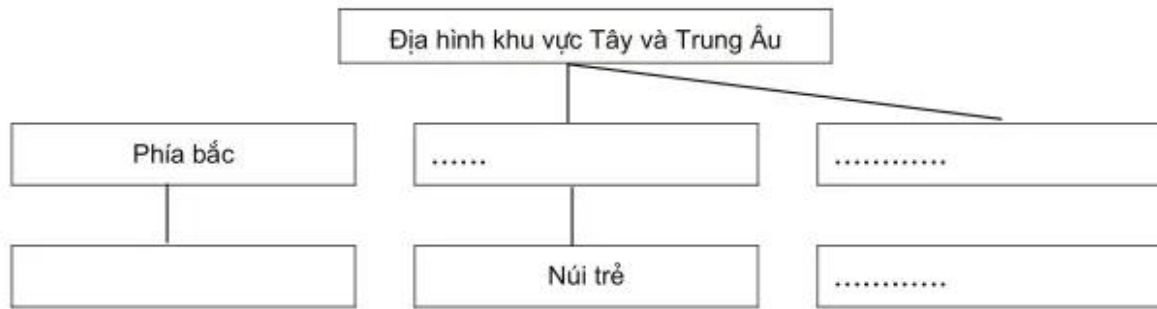
I. Dựa vào hình 13 dưới đây :



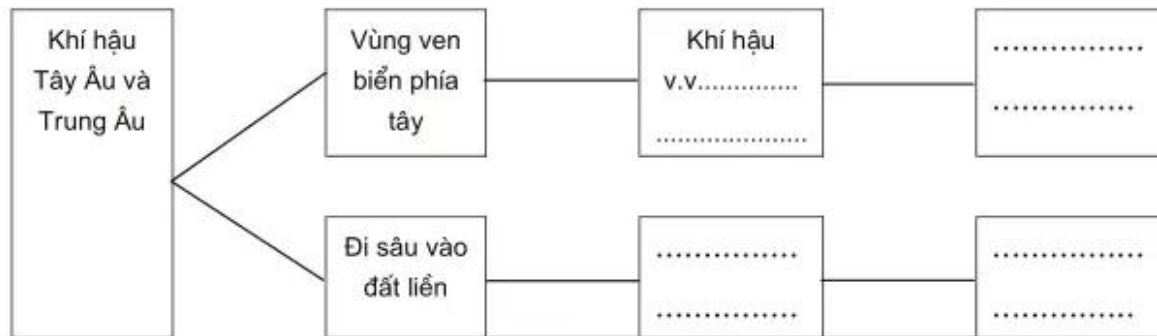
Hình 13 - Lược đồ các nước châu Âu

Em hãy điền tên các nước ở Tây và Trung Âu lên bản đồ.

2. Dựa vào SGK, kết hợp với quan sát hình 57.1 - *Lược đồ tự nhiên khu vực Tây và Trung Âu*, tr. 172 SGK, hoàn thành sơ đồ dưới đây :

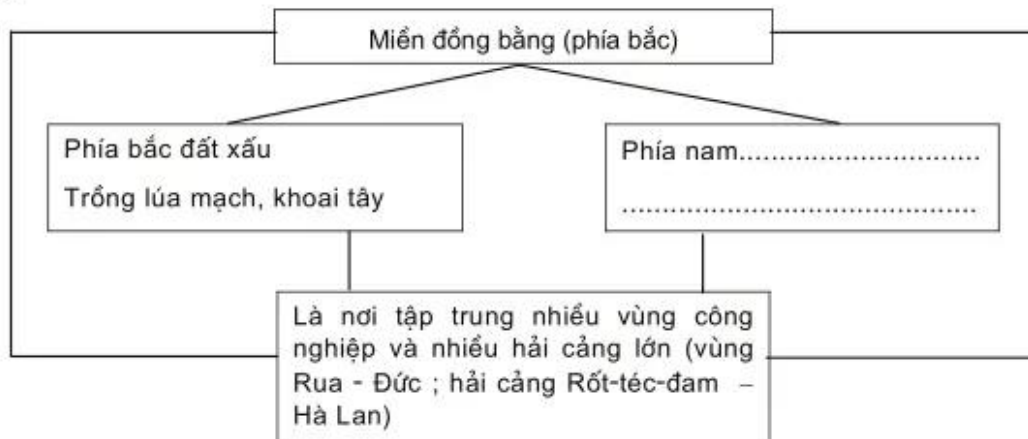


3. Hoàn thành sơ đồ : Khí hậu Tây và Trung Âu

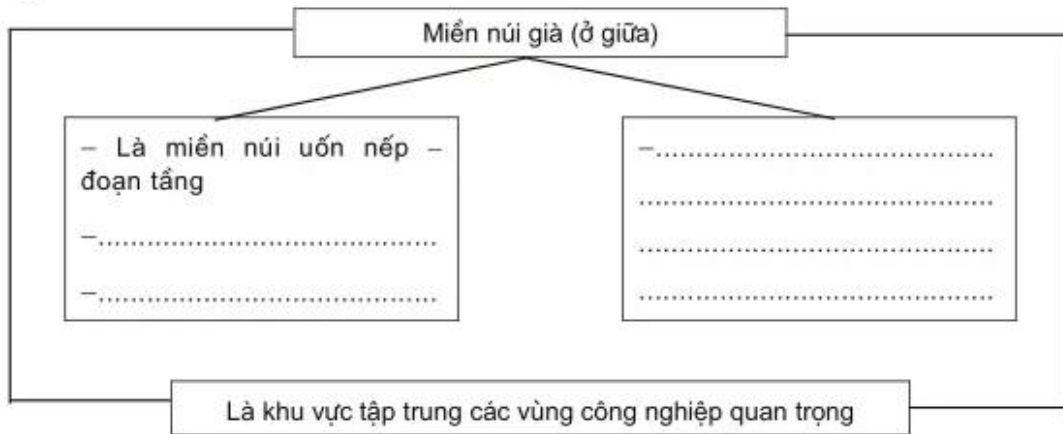


4. Hãy nối các ô chữ và điền nội dung vào các ô còn trống để được sơ đồ về mối quan hệ giữa địa hình và sự phát triển kinh tế ở các miền thuộc Tây và Trung Âu.

a)



b)



c)

