

- + Như vậy, ở đây nhiệt độ (cao hay thấp) ... quanh năm.
- Nhận xét về lượng mưa :
- + Lượng mưa tháng thấp nhất là ... mm (tháng ...).
- + Lượng mưa tháng cao nhất là ... mm (tháng ...).
- + Lượng mưa cả năm là ... mm.
- + Như vậy, ở đây quanh năm mưa (nhiều hay ít) ...
- Kết luận : biểu đồ khí hậu này thuộc môi trường ...

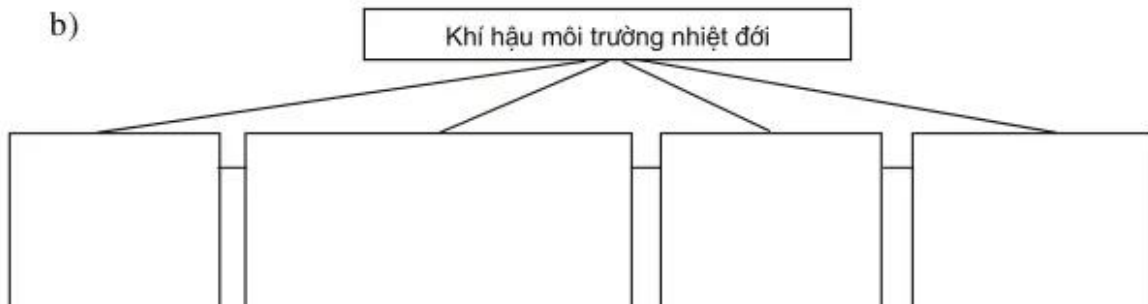
**3. Hoàn thành sơ đồ dưới đây :**

a)

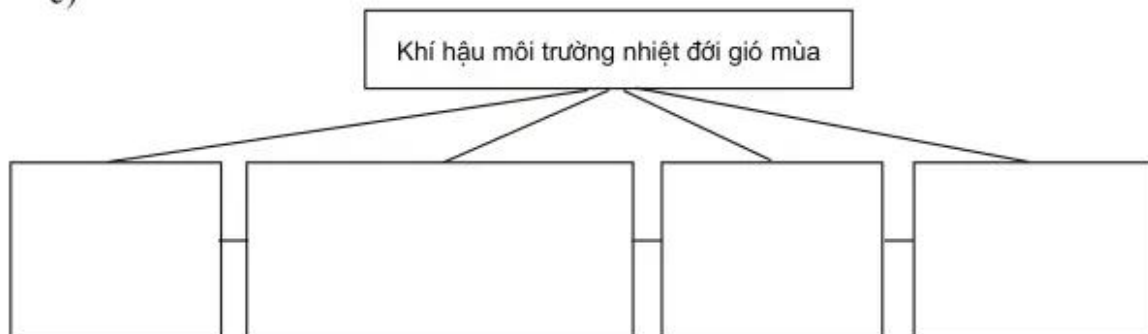


$t^o$  : nhiệt độ ;  $t_{tb}^o$  : nhiệt độ trung bình

b)



c)



## MÔI TRƯỜNG ĐỐI ÔN HOÀ. HOẠT ĐỘNG KINH TẾ CỦA CON NGƯỜI Ở ĐỐI ÔN HOÀ

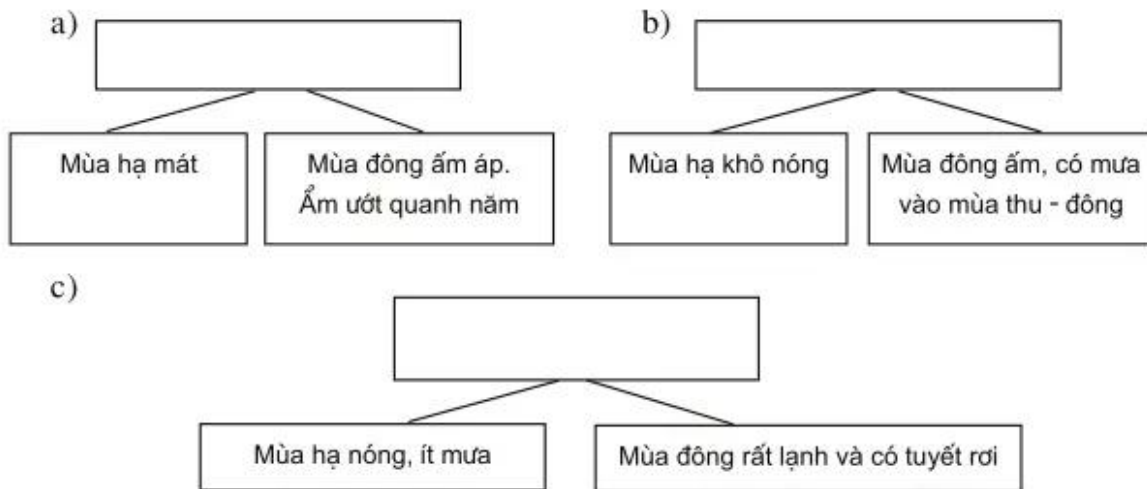
### Bài 13

### MÔI TRƯỜNG ĐỐI ÔN HOÀ

1. Hoàn thành sơ đồ dưới đây :



2. Chọn các cụm từ : khí hậu ôn đới hải dương, khí hậu ôn đới lục địa, khí hậu địa trung hải ; ghi vào các sơ đồ dưới đây sao cho chính xác :



3. Hãy đánh dấu × vào  ý em cho là đúng nhất.

Những yếu tố gây biến động thời tiết ở đới ôn hoà là

- a) đợt không khí lạnh.
- b) đợt không khí nóng.
- c) gió Tây ôn đới.