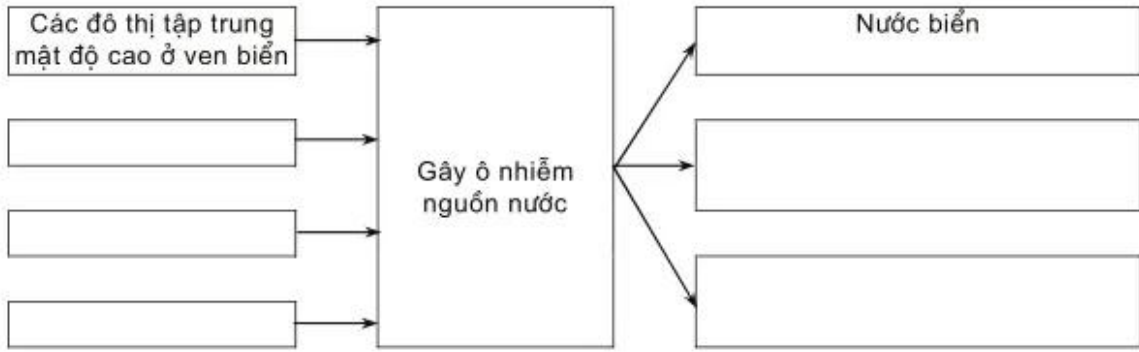


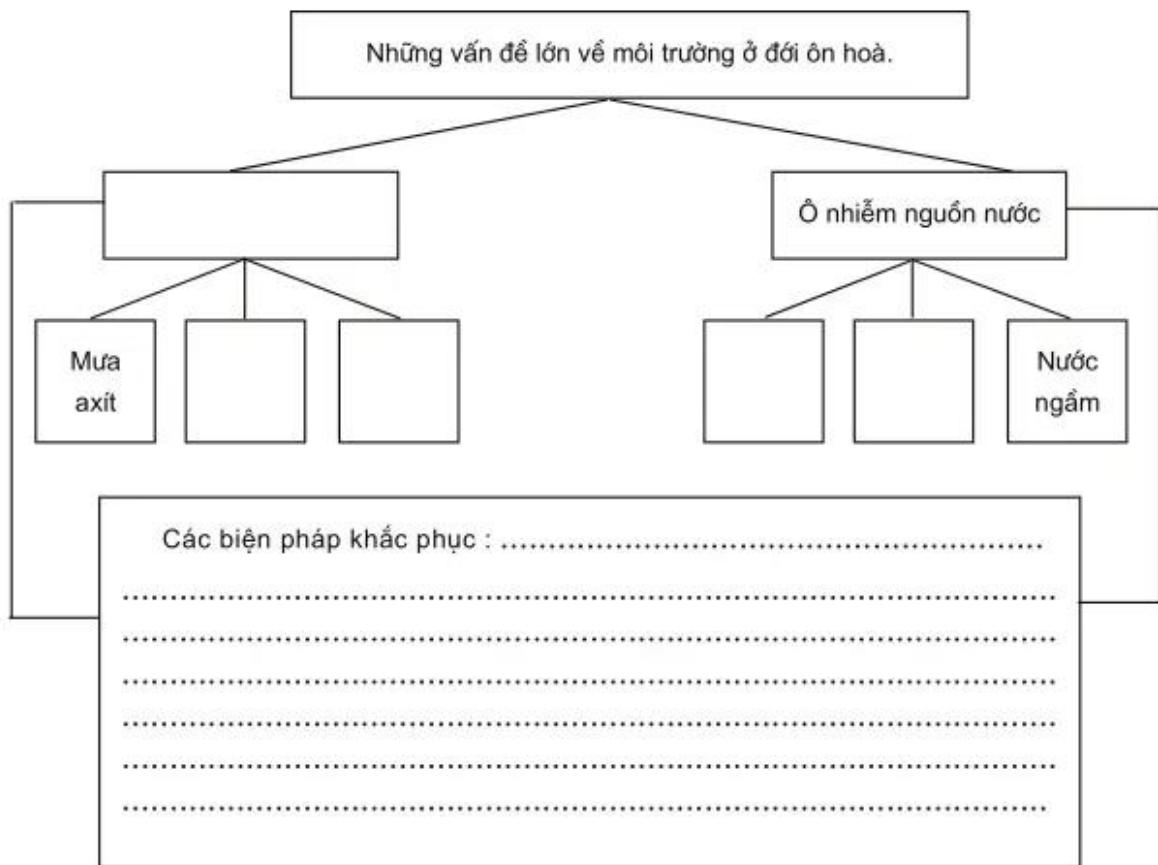
2. Dựa vào SGK và kiến thức đã học, hoàn thành sơ đồ dưới đây :



3. Hãy nối ô chữ bên trái với ô chữ bên phải sao cho đúng.

Thủy triều đỏ	Dầu bị dò rỉ hoặc tràn ra từ các tàu bị tai nạn trên biển.
Thủy triều đen	Hiện tượng các loại tảo phát triển quá nhanh trong nước biển, làm chết ngạt các sinh vật sống trong nước.

4. Dựa vào SGK, kiến thức đã học, hoàn thành sơ đồ dưới đây :



Bài 18 – Thực hành

NHẬN BIẾT ĐẶC ĐIỂM MÔI TRƯỜNG ĐỐI ÔN HOÀ

1. Quan sát ba biểu đồ tương quan nhiệt ẩm A, B, C tr. 59 SGK, hãy nêu các nhận xét và kết luận theo các gợi ý cụ thể dưới đây :

a) Nhận xét về nhiệt độ, lượng mưa ở biểu đồ A

– Về nhiệt độ :

+ Nhiệt độ tháng cao nhất khoảng °C (tháng).

+ Nhiệt độ tháng thấp nhất xuống đến °C (tháng).

+ Như vậy, nhiệt độ ở đây (cao hay thấp) quanh năm.

– Về lượng mưa :

+ Lượng mưa tháng thấp nhất là khoảng mm (tháng).

+ Lượng mưa tháng cao nhất khoảng mm (tháng).

+ Như vậy, ở đây lượng mưa (nhiều hay ít), mưa nhiều vào mùa

– Kết luận : Biểu đồ nhiệt độ, lượng mưa này thuộc đới khí hậu (nóng, ôn hoà hay thuộc đới khí hậu nào đã học).

b) Nhận xét về nhiệt độ, lượng mưa ở biểu đồ B

– Về nhiệt độ :

+ Nhiệt độ tháng cao nhất khoảng °C (tháng).

+ Nhiệt độ tháng thấp nhất khoảng °C (tháng).

+ Như vậy, ở đây nhiệt độ quanh năm trên °C, mùa hạ nóng, mùa đông ấm.

– Về lượng mưa :

+ Lượng mưa tháng thấp nhất khoảng mm (tháng).

+ Lượng mưa tháng cao nhất khoảng mm (tháng).

+ Như vậy, ở đây mùa thu đông mưa, khô hạn vào mùa

– Kết luận : Biểu đồ nhiệt độ, lượng mưa này thuộc đới khí hậu

c) Nhận xét về nhiệt độ, lượng mưa ở biểu đồ C

– Về nhiệt độ :

+ Nhiệt độ tháng cao nhất khoảng °C (tháng).

+ Nhiệt độ tháng thấp nhất khoảng °C (tháng).

+ Như vậy, ở đây nhiệt độ tương đối ấm quanh năm.

– Về lượng mưa :

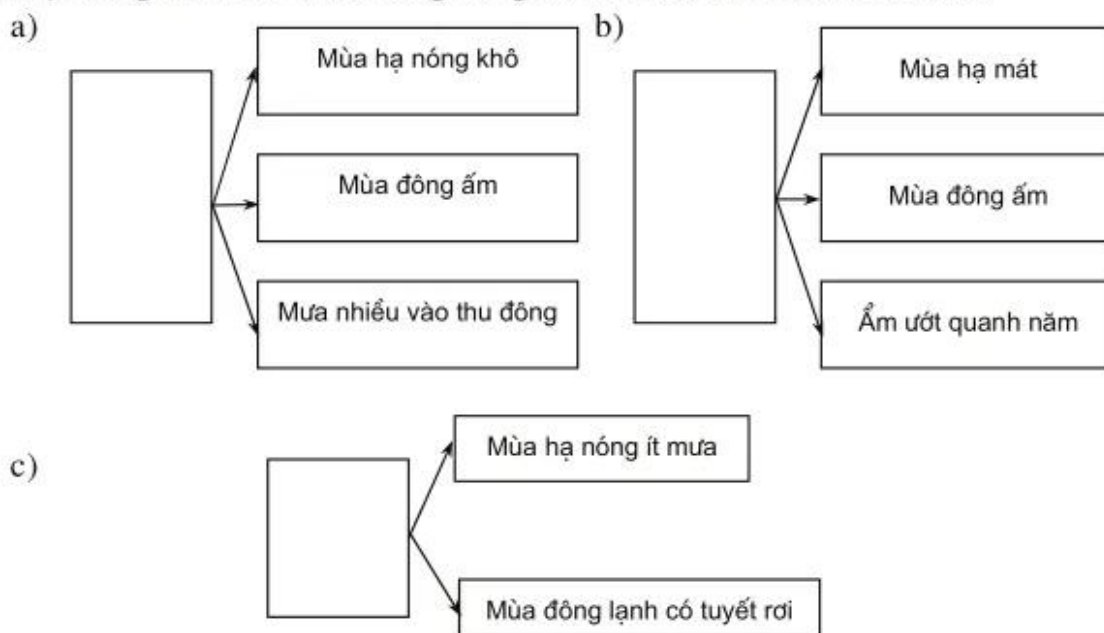
+ Lượng mưa tháng thấp nhất khoảng mm (tháng).

+ Lượng mưa tháng cao nhất khoảngmm (tháng).

+ Như vậy ở đây mưa quanh năm, mưa nhiều vào mùa

- Kết luận : Biểu đồ nhiệt độ, lượng mưa này thuộc đới khí hậu

2. Hãy chọn các cụm từ : khí hậu ôn đới đại dương, khí hậu ôn đới lục địa, khí hậu địa trung hải ; Ghi vào ô trống trong các sơ đồ sau sao cho chính xác.



3. Hãy nối các ô chữ dưới đây để được một sơ đồ đúng về các kiểu rừng đới ôn hoà.

Rừng lá kim	Cây lá rộng xen lẫn cây lá kim	Nơi phát triển : t° tháng lạnh nhất ít khi xuống < -10°C ; t° tháng nóng nhất ít khi lên > 10°C ; mưa trên 600mm/năm.
Rừng lá rộng	Thông, tùng, bách (xanh quanh năm)	Phát triển ở nơi mưa tập trung vào mùa hạ.
Rừng hỗn giao	Cỏ thân mềm (nở hoa vào mùa xuân)	Phát triển ở nơi gần biển, mưa quanh năm, t° tháng thấp nhất ít khi xuống đến 0°C.
Thảo nguyên	Sồi, dẻ... (cây có lá bản rộng, rụng lá về mùa đông)	Phát triển ở nơi có mùa hạ nóng > 20°C, mùa đông lạnh < 0°C. Mưa : 400 - 600 mm/năm.