

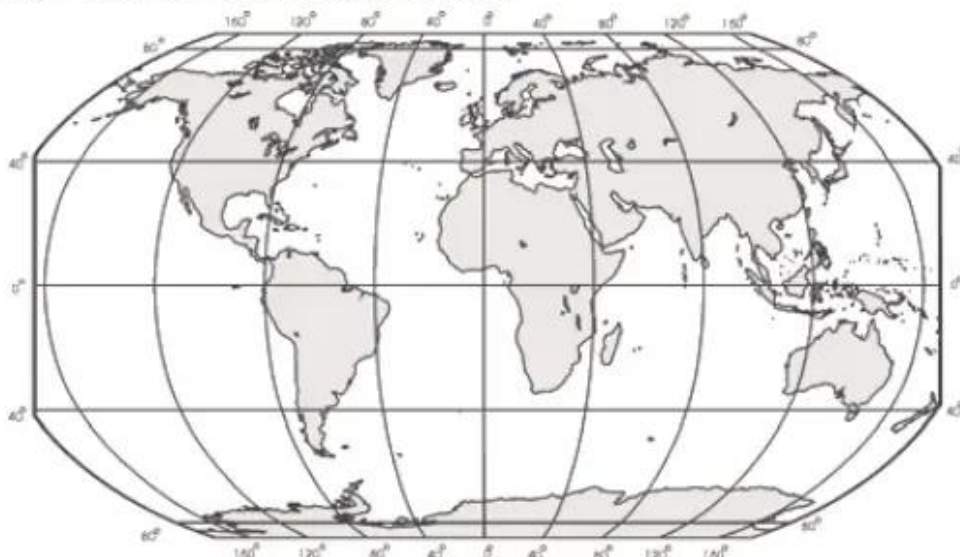
Phần ba

THIÊN NHIÊN VÀ CON NGƯỜI Ở CÁC CHÂU LỤC

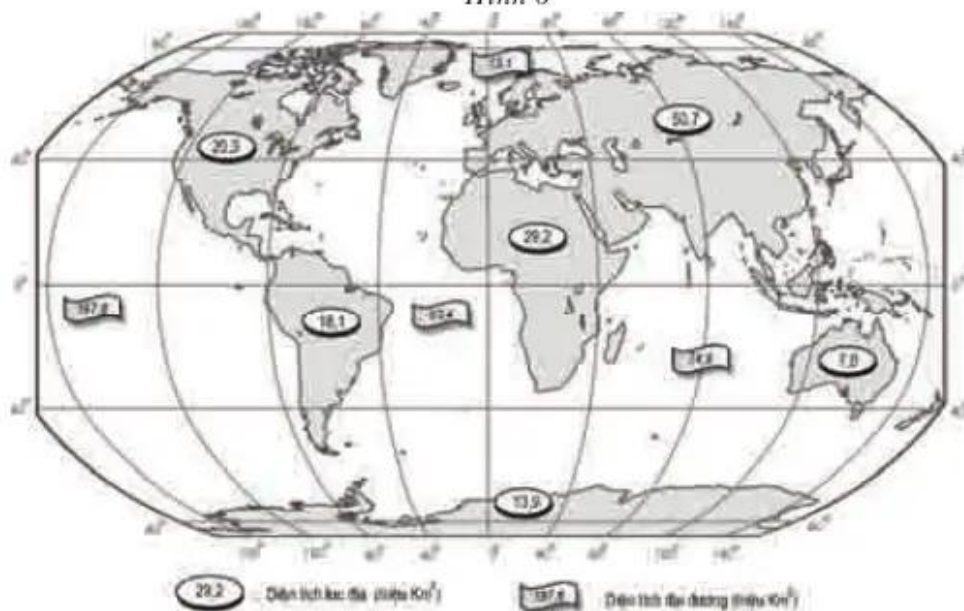
Bài 25

THẾ GIỚI RỘNG LỚN VÀ ĐA DẠNG

1. Dựa vào SGK và kiến thức đã học :



Hình 6



Hình 7

Em hãy :

- a) Điền tên các lục địa, vào hình 7.
- b) Điền tên các châu lục vào hình 6.
- c) Điền tên các đại dương vào cả hai hình (6 và 7).
- d) Nêu sự khác nhau giữa lục địa và châu lục.

Trả lời :

.....

.....

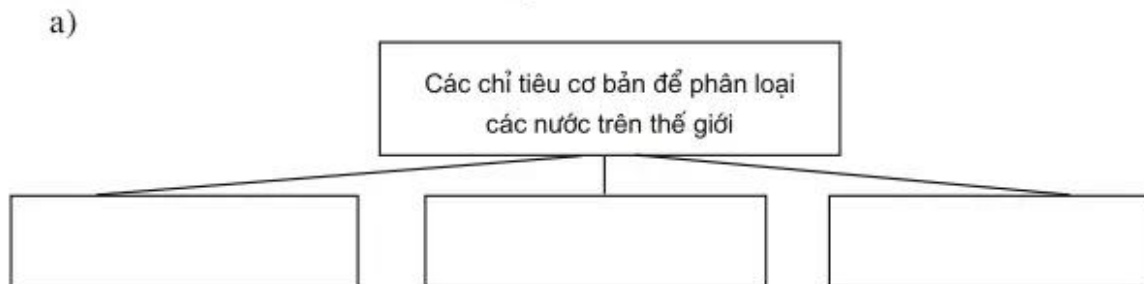
.....

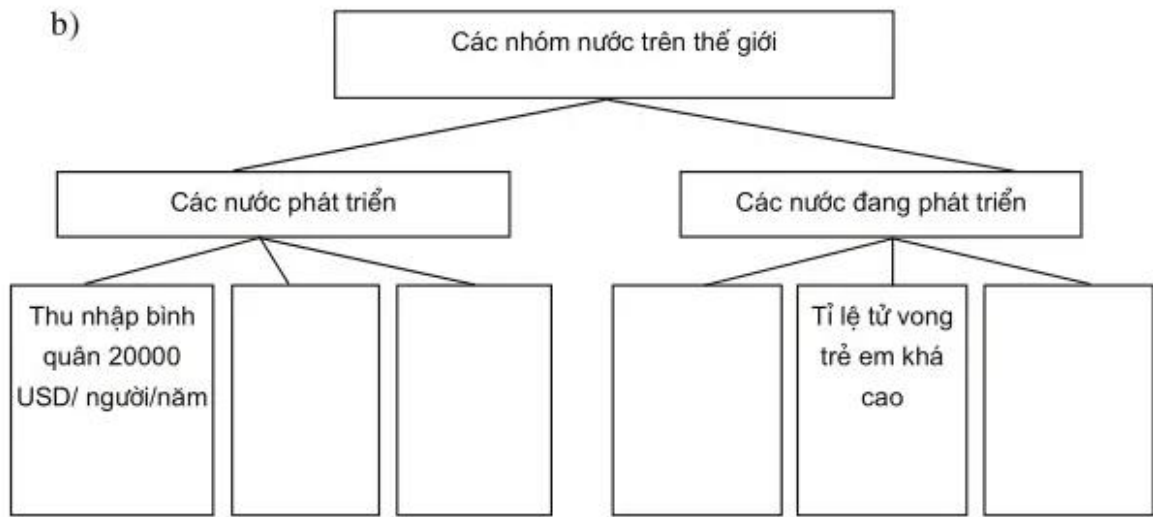
.....

2. Dựa vào hình 25.1 – *Lược đồ thu nhập bình quân đầu người của các quốc gia trên thế giới (năm 2000)*, tr.80 SGK ; kết hợp với bản đồ các nước trên thế giới, em hãy hoàn thành bảng dưới đây :

	Thu nhập bình quân đầu người (USD/người)				
	Trên 20000	Từ 10000 đến 20000	Từ 5001 đến 10000	Từ 1000 đến 5000	Dưới 1000
Tên các quốc gia	– Ca-na-đa – Hoa Kỳ			– Trung Quốc – Ấn Độ – Việt Nam


3. Hoàn thành các sơ đồ dưới đây :





4. Căn cứ vào bảng thống kê ở bài tập 2. tr. 81 SGK :

a) Vẽ biểu đồ biểu diễn thu nhập bình quân đầu người của các nước trong bảng (theo thứ tự từ thấp lên cao).



b) Sắp xếp các nước trong bảng thành hai nhóm nước : phát triển và đang phát triển.

Trả lời :

.....

.....

.....

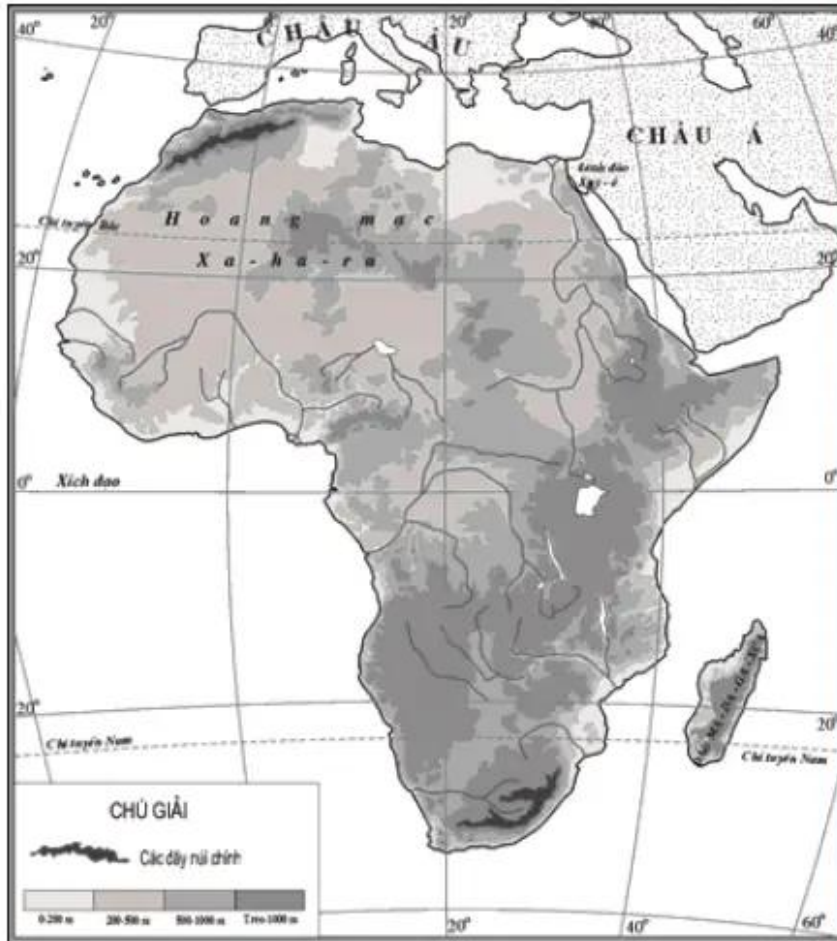
.....

CHÂU PHI

Bài 26

THIÊN NHIÊN CHÂU PHI

1. Dựa vào hình 26.1, tr. 83 trong SGK :



Hình 8

Em hãy :

- Ghi lên lược đồ tên những biển và đại dương tiếp giáp với châu Phi.
- Chọn một trong những cụm từ (kéo dài theo hướng đông – tây, kéo dài theo hướng bắc – nam ; hình khối) để mô tả hình dạng châu Phi.
– Châu Phi có dạng :