

Bài 6
MÔI TRƯỜNG NHIỆT ĐỚI

1. Quan sát hình 5.1 tr.16 SGK, kết hợp với SGK và vốn hiểu biết, hãy nêu giới hạn của môi trường nhiệt đới.

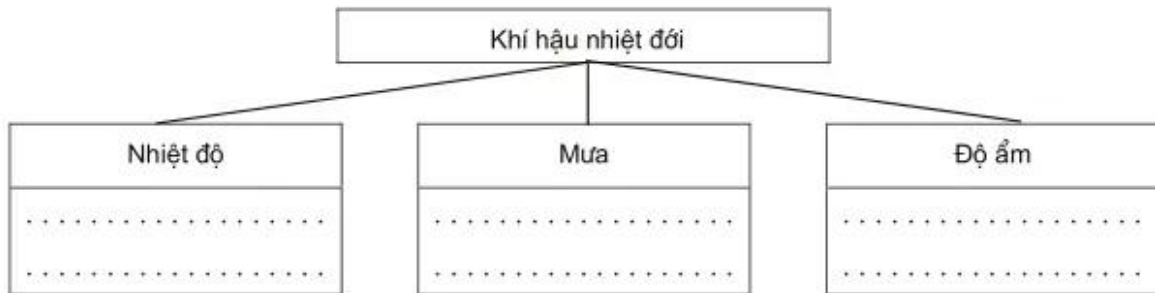
Trả lời :

.....

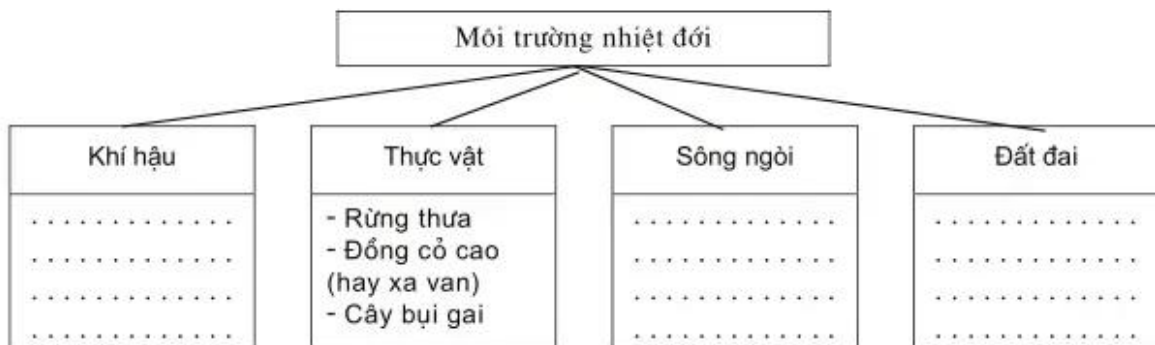
.....

2. Dựa vào SGK, kiến thức đã học hãy hoàn thành các sơ đồ dưới đây :

a)



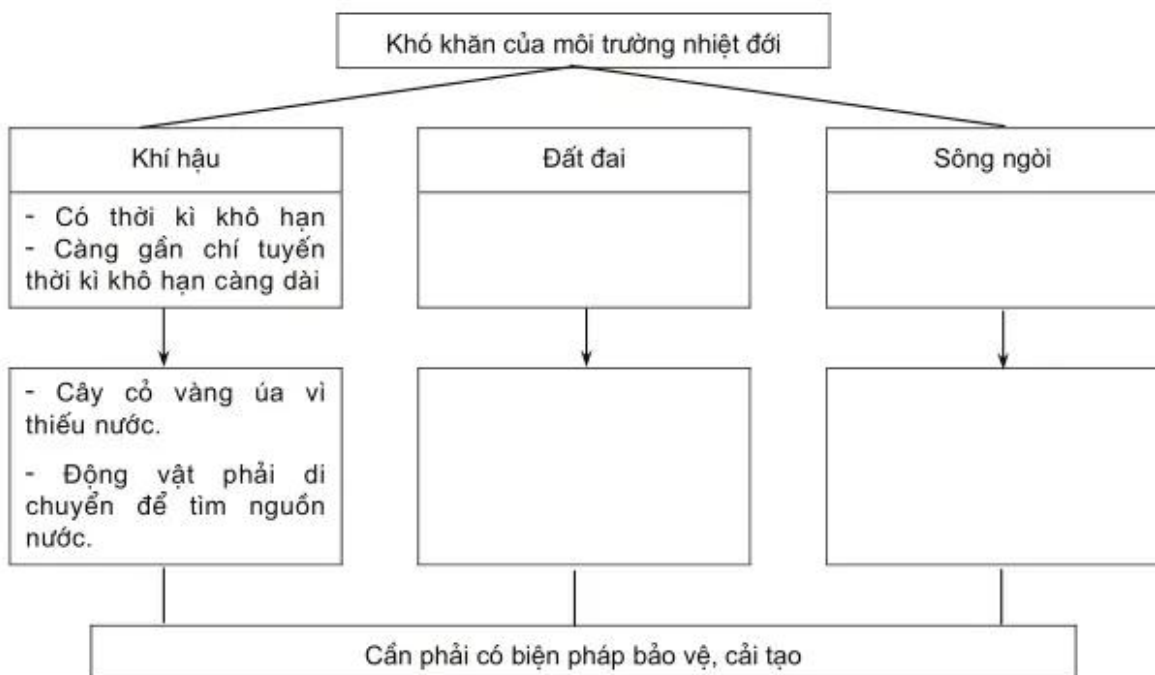
b)



3. Nối các ô dưới đây bằng mũi tên hay gạch nối và điền nội dung vào các ô còn trống để được một sơ đồ hoàn chỉnh :



4. Hoàn thành sơ đồ dưới đây :



Kết hợp với SGK và vốn hiểu biết, nêu các biện pháp khắc phục khó khăn, bảo vệ môi trường nhiệt đới để phát triển sản xuất.

Trả lời :
.....
.....
.....