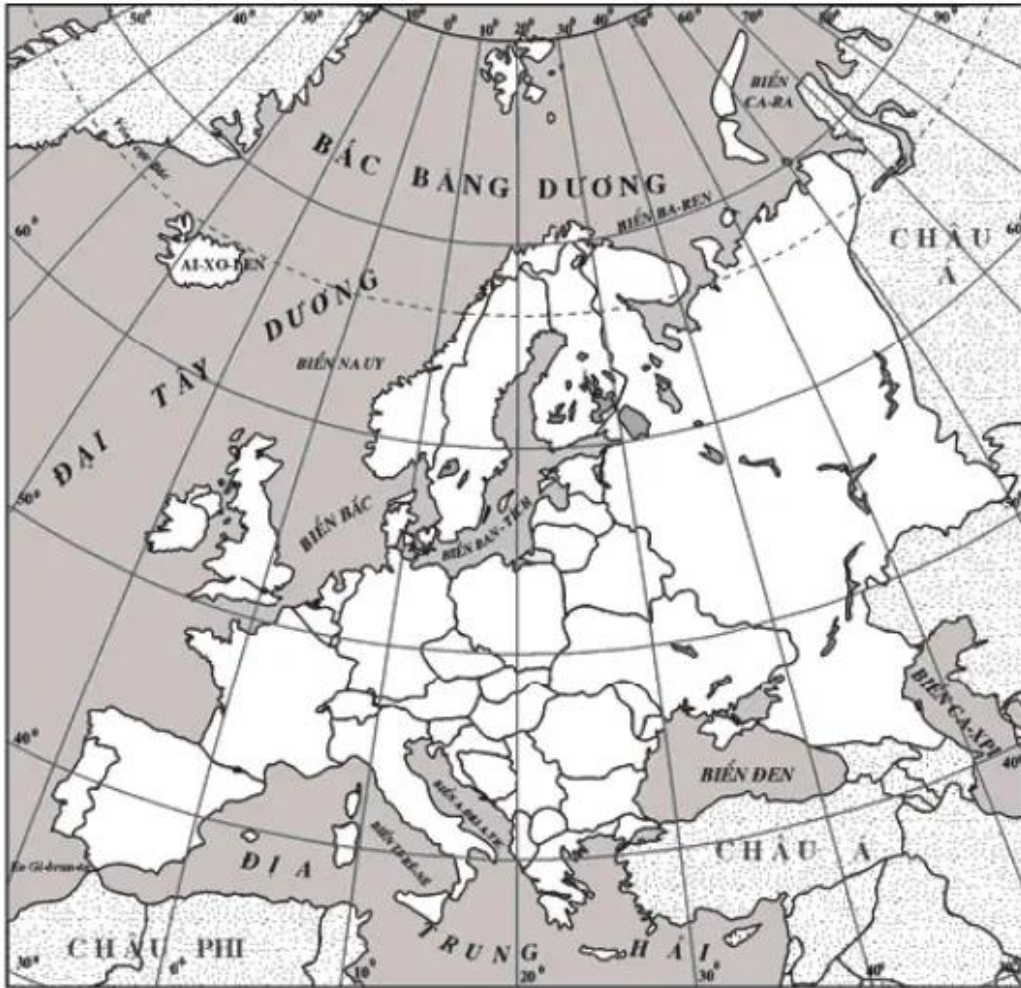


Bài 60

LIÊN MINH CHÂU ÂU

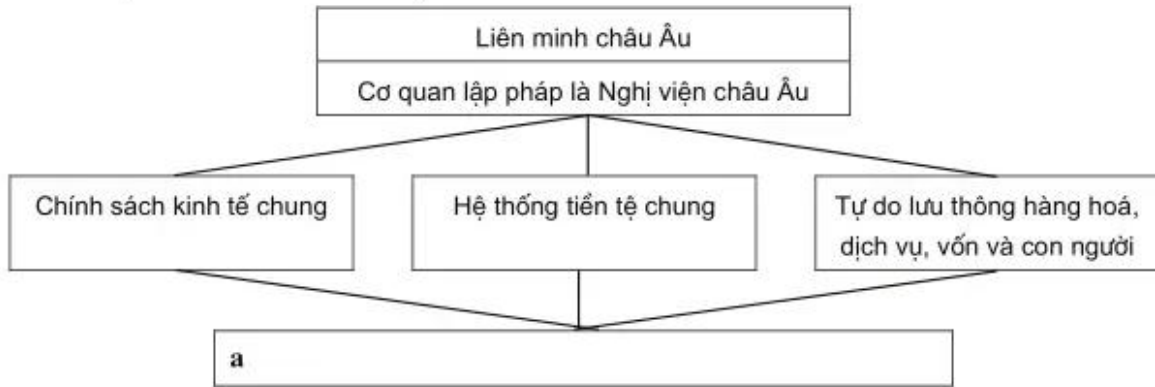
1. Dựa vào hình 14 – *Lược đồ các nước châu Âu* (để trống), em hãy :



Hình 14 - Lược đồ các nước châu Âu

- Ghi tên các quốc gia thành viên trong Liên minh châu Âu lên bản đồ.
- Tô màu đỏ vào 6 nước là thành viên từ năm 1958.
- Tô màu xanh vào các nước là thành viên từ năm 1973.
- Tô màu vàng vào các nước là thành viên từ năm 1986.
- Tô màu hồng vào các nước là thành viên từ năm 1995.

2. Dựa vào sơ đồ dưới đây :



Hãy ghi nhận xét của mình về Liên minh châu Âu vào ô **a** trong sơ đồ và giải thích cho lời nhận xét đó.

Trả lời :

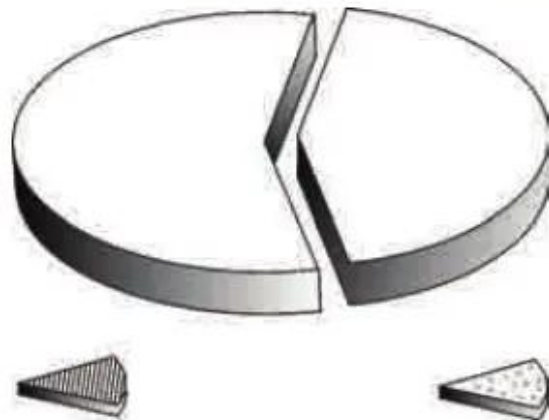
.....

.....

.....

.....

3. Hãy tô màu xanh vào phần biểu diễn tỉ trọng hoạt động thương mại của Liên minh châu Âu so với thế giới trong biểu đồ dưới đây :



4. Tại sao nói : Liên minh châu Âu là tổ chức thương mại hàng đầu thế giới ?

Trả lời :

.....

.....

.....

.....