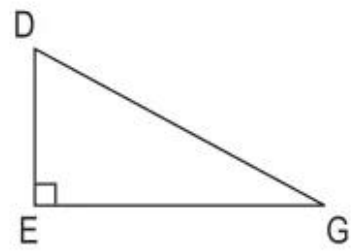
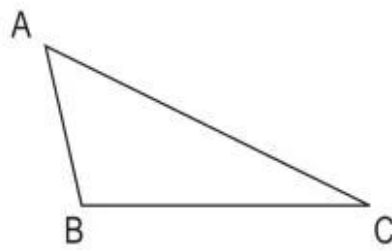
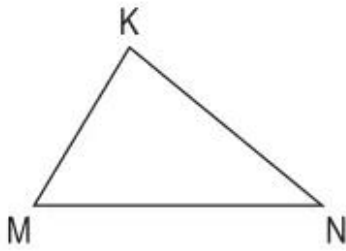


**Bài 85.**

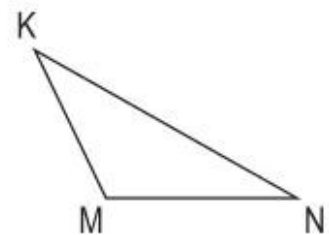
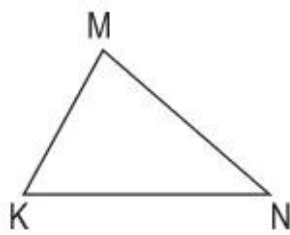
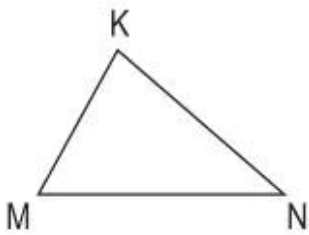
**HÌNH TAM GIÁC**

1. Viết tiếp vào chỗ chấm cho thích hợp (theo mẫu) :

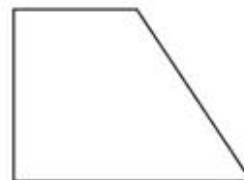
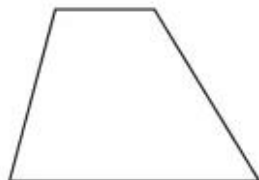
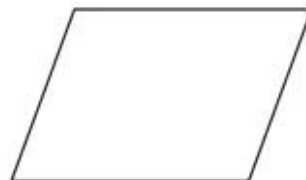


Hình tam giác có .....  
ba góc nhọn. ....

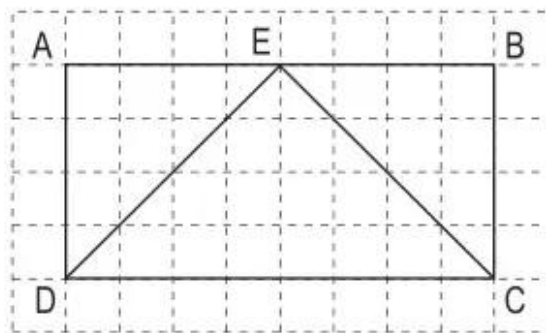
2. Vẽ đường cao của mỗi hình tam giác ứng với đáy MN :



3. Trong mỗi hình, hãy vẽ một đoạn thẳng để tạo thành hai hình tam giác :



4. Viết số thích hợp vào chỗ chấm :



- Hình chữ nhật ABCD có ... ô vuông.
- Hình tam giác EDC có ... ô vuông (cứ 2 nửa ô vuông gộp lại thành 1 ô vuông).
- Hình chữ nhật ABCD có số ô vuông gấp ... lần số ô vuông của hình tam giác EDC.
- Hình tam giác EDC có số ô vuông bằng ... số ô vuông của hình chữ nhật ABCD.