

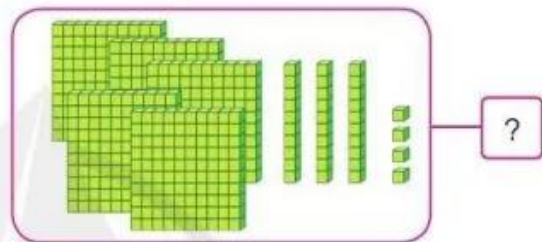
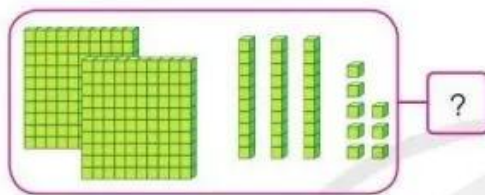
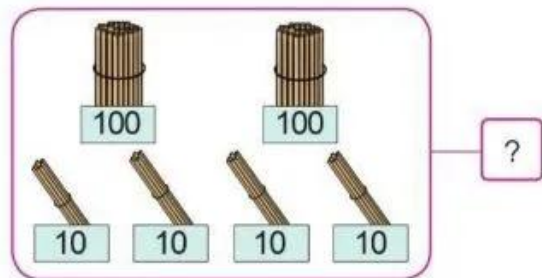
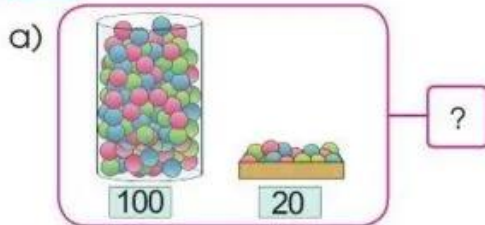
# 1

## BẢNG NHÂN, BẢNG CHIA



# ÔN TẬP VỀ CÁC SỐ TRONG PHẠM VI 1 000

## 1 Số ?



c) Số liền trước của số 470 là . Số liền sau của số 489 là .

d) 715 gồm  trăm  chục  đơn vị, ta viết  $715 = \text{?} + \text{?} + \text{?}$ .

## 2 Quan sát tranh, thực hiện các yêu cầu sau:



a) Nêu tên bạn thu gom được nhiều vỏ chai nhựa nhất.

b) Nêu tên các bạn thu gom số lượng vỏ chai nhựa theo thứ tự từ nhiều đến ít.

