


2


NHÂN, CHIA CÁC SỐ TRONG PHẠM VI 1 000



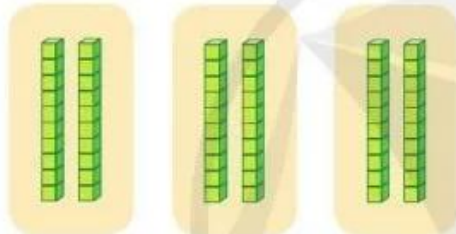
NHÂN SỐ TRÒN CHỤC VỚI SỐ CÓ MỘT CHỮ SỐ

Mỗi khay có 20 chiếc bánh.
Hỏi 3 khay có bao nhiêu
chiếc bánh?

Để tìm số bánh ta tính:
 $20 + 20 + 20 = ?$
hay $20 \times 3 = ?$



Tính $20 \times 3 = ?$



2 chục khối lập phương
được lấy 3 lần.

Tính nhẩm:

$$2 \text{ chục} \times 3 = 6 \text{ chục}$$

$$\text{Vậy } 20 \times 3 = 60$$



1 Tính nhẩm:

