



## BẢNG NHÂN 4

- Mỗi tấm thẻ có 4 chấm tròn. Lần lượt lấy ra 1, 2, 3 tấm thẻ rồi nêu các phép nhân tương ứng:


  $4 \times 1 = 4$   
4 được lấy 1 lần

  $4 \times 2 = 8$   
4 được lấy 2 lần

  $4 \times 3 = 12$   
4 được lấy 3 lần



- Mỗi tấm thẻ có 4 chấm tròn. Lần lượt lấy ra 4, 5, 6, 7, 8, 9, 10 tấm thẻ rồi nêu các phép nhân tương ứng:



$4 \times 4 = 16$

$4 \times 5 = ?$

$4 \times 6 = ?$

$4 \times 7 = ?$

$4 \times 8 = ?$

$4 \times 9 = ?$

$4 \times 10 = ?$

### BẢNG NHÂN 4

$4 \times 1 = 4$

$4 \times 2 = 8$

$4 \times 3 = 12$

$4 \times 4 = 16$

$4 \times 5 = 20$

$4 \times 6 = 24$

$4 \times 7 = 28$

$4 \times 8 = 32$

$4 \times 9 = 36$

$4 \times 10 = 40$

Đây là bảng nhân 4



**1** Tính nhẩm:

$$\begin{array}{cccccc} 4 \times 3 & 4 \times 1 & 4 \times 8 & 4 \times 9 & 4 \times 2 & 4 \times 5 \\ 4 \times 6 & 4 \times 7 & 4 \times 4 & 4 \times 10 & 2 \times 4 & 5 \times 4 \end{array}$$

**2** Chọn kết quả đúng với mỗi phép tính:



$4 \times 3$     $4 \times 6$     $4 \times 5$     $4 \times 9$     $4 \times 2$     $4 \times 8$

**3** Nêu phép nhân thích hợp với mỗi tranh vẽ:



$$\boxed{?} \times \boxed{?} = \boxed{?}$$


$$\boxed{?} \times \boxed{?} = \boxed{?}$$

**4** a) Hãy đếm thêm 4:

4	8	?	?	?	?	?	?	?	?
---	---	---	---	---	---	---	---	---	---

b) Xếp các chấm tròn thích hợp với mỗi phép nhân  $4 \times 3$ ;  $4 \times 7$ .

**5** a) Mỗi bàn có 4 chỗ ngồi. Hỏi 9 bàn như thế có tất cả bao nhiêu chỗ ngồi?



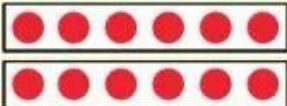
b) Kể một tình huống sử dụng phép nhân  $4 \times 5$  trong thực tế.




## BẢNG NHÂN 6

- Mỗi tấm thẻ có 6 chấm tròn. Lần lượt lấy ra 1, 2, 3 tấm thẻ rồi nêu các phép nhân tương ứng:


  $6 \times 1 = 6$   
6 được lấy 1 lần

  $6 \times 2 = 12$   
6 được lấy 2 lần

  $6 \times 3 = 18$   
6 được lấy 3 lần



- Mỗi tấm thẻ có 6 chấm tròn. Lần lượt lấy ra 4, 5, 6, 7, 8, 9, 10 tấm thẻ rồi nêu các phép nhân tương ứng:



$6 \times 4 = 24$

$6 \times 5 = ?$

$6 \times 6 = ?$

$6 \times 7 = ?$

$6 \times 8 = ?$

$6 \times 9 = ?$

$6 \times 10 = ?$

### BẢNG NHÂN 6

$6 \times 1 = 6$

$6 \times 2 = 12$

$6 \times 3 = 18$

$6 \times 4 = 24$

$6 \times 5 = 30$

$6 \times 6 = 36$

$6 \times 7 = 42$

$6 \times 8 = 48$

$6 \times 9 = 54$

$6 \times 10 = 60$

Đây là bảng nhân 6

