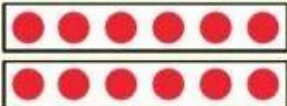



## BẢNG NHÂN 6

- Mỗi tấm thẻ có 6 chấm tròn. Lần lượt lấy ra 1, 2, 3 tấm thẻ rồi nêu các phép nhân tương ứng:


  $6 \times 1 = 6$   
6 được lấy 1 lần

  $6 \times 2 = 12$   
6 được lấy 2 lần

  $6 \times 3 = 18$   
6 được lấy 3 lần



- Mỗi tấm thẻ có 6 chấm tròn. Lần lượt lấy ra 4, 5, 6, 7, 8, 9, 10 tấm thẻ rồi nêu các phép nhân tương ứng:



$6 \times 4 = 24$

$6 \times 5 = ?$

$6 \times 6 = ?$

$6 \times 7 = ?$

$6 \times 8 = ?$

$6 \times 9 = ?$

$6 \times 10 = ?$

### BẢNG NHÂN 6

$6 \times 1 = 6$

$6 \times 2 = 12$

$6 \times 3 = 18$

$6 \times 4 = 24$

$6 \times 5 = 30$

$6 \times 6 = 36$

$6 \times 7 = 42$

$6 \times 8 = 48$

$6 \times 9 = 54$

$6 \times 10 = 60$


Đây là bảng nhân 6



**1** Tính nhẩm:

$6 \times 2$        $6 \times 1$        $6 \times 8$        $6 \times 9$        $6 \times 3$        $6 \times 4$   
 $6 \times 6$        $6 \times 7$        $6 \times 5$        $6 \times 10$        $3 \times 6$        $4 \times 6$

**2** Số ?



Số hộp bánh	1	2	3	4	5	6	7	8	9	10
Số chiếc bánh	6	12	?	?	?	?	?	?	?	?

**3** Nêu phép nhân thích hợp với mỗi tranh vẽ:



$?$   $\times$   $?$  =  $?$



$?$   $\times$   $?$  =  $?$

**4** Vẽ vào bảng con 3 nhóm, mỗi nhóm 6 chấm tròn. Nêu phép nhân để tìm tất cả số chấm tròn đó.


**5** a) Mỗi luống cô Hoa trồng 6 cây. Hỏi 4 luống như thế có tất cả bao nhiêu cây?



b) Kể một tình huống thực tế sử dụng phép nhân trong bảng nhân 6.

# GẤP MỘT SỐ LÊN MỘT SỐ LẦN

Đoạn thẳng AB dài 2 cm.



Tôi muốn lấy một đoạn dây dài gấp 3 lần đoạn thẳng AB.

**Bài toán:** Đoạn thẳng AB dài 2 cm, đoạn thẳng CD dài **gấp 3 lần** đoạn thẳng AB. Hỏi đoạn thẳng CD dài bao nhiêu xăng-ti-mét?

**Em hiểu**



AB = 2 cm.  
CD dài **gấp 3 lần** AB.

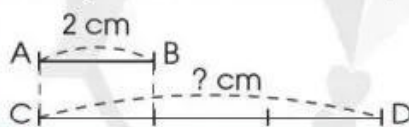
Tính độ dài đoạn thẳng CD.



**Em nghĩ**



Tôi dựa vào hình minh họa:



Tôi làm phép nhân.



**Em trả lời**

*Bài giải*

Độ dài đoạn thẳng CD là:

$$2 \times 3 = 6 \text{ (cm)}$$

Đáp số: 6 cm.

**Nhận xét:** Muốn gấp một số lên một số lần, ta lấy số đó nhân với số lần.

Ví dụ 1: Gấp 6 lên 5 lần ta được:

$$6 \times 5 = 30$$

Ví dụ 2: Gấp 2 lên 4 lần ta được:

$$2 \times 4 = 8$$