

# CHIA CHO SỐ CÓ MỘT CHỮ SỐ

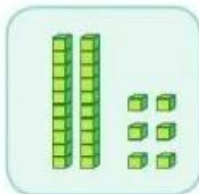
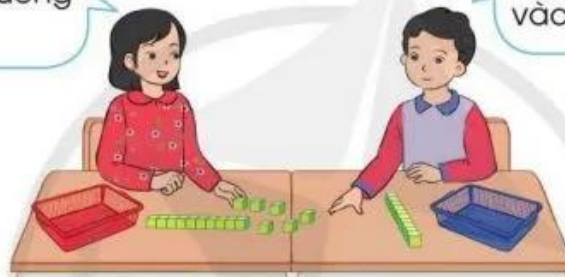
Có 26 quyển sách xếp đều vào 2 ngăn tủ. Hỏi mỗi ngăn có bao nhiêu quyển sách?



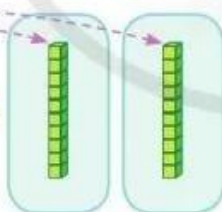
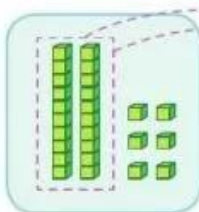
Tính  $26 : 2 = ?$

Đầu tiên ta chia đều 20 khối lập phương vào 2 rổ.

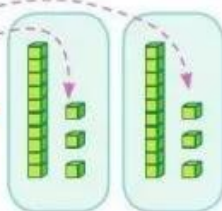
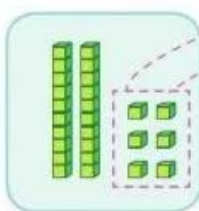
Tiếp theo chia đều 6 khối lập phương vào 2 rổ.



$$\begin{array}{r} 26 \quad | \quad 2 \\ \hline \end{array} \quad \bullet \text{ Đặt tính}$$



$$\begin{array}{r} 26 \quad | \quad 2 \\ 2 \quad | \quad 1 \\ \hline 0 \end{array} \quad \bullet \text{ 2 chia 2 được 1, viết 1.} \\ \text{1 nhân 2 bằng 2,} \\ \text{2 trừ 2 bằng 0.}$$



$$\begin{array}{r} 26 \quad | \quad 2 \\ 2 \quad | \quad 13 \\ \hline 06 \\ 6 \\ \hline 0 \end{array} \quad \bullet \text{ Hạ 6,} \\ \text{6 chia 2 được 3, viết 3.} \\ \text{3 nhân 2 bằng 6,} \\ \text{6 trừ 6 bằng 0.}$$

Vậy  $26 : 2 = 13$

1 Tính:


$$\begin{array}{r} 28 \\ | \\ \hline 2 \end{array}$$

$$\begin{array}{r} 93 \\ | \\ \hline 3 \end{array}$$

$$\begin{array}{r} 88 \\ | \\ \hline 4 \end{array}$$

$$\begin{array}{r} 66 \\ | \\ \hline 6 \end{array}$$

2 Đặt tính rồi tính:



3 Có 84 quả cà chua xếp đều vào 4 rổ. Hỏi mỗi rổ có bao nhiêu quả cà chua?



# LUYỆN TẬP

1 Đặt tính rồi tính:

$$36 : 3$$

$$48 : 2$$

$$96 : 3$$

$$88 : 8$$

2 Tính (theo mẫu):

**Mẫu:**

$$\begin{array}{r} 246 \overline{) 2} \\ \underline{2} \phantom{00} 123 \\ 04 \\ \underline{4} \\ 06 \\ \underline{6} \\ 0 \end{array}$$

Vậy  $246 : 2 = 123$

$$624 \overline{) 2}$$

$$448 \overline{) 4}$$

$$999 \overline{) 9}$$



3 Tính (theo mẫu):

a) **Mẫu:**

$$\begin{array}{r} 87 \overline{) 4} \\ \underline{8} \phantom{00} 21 \\ 07 \\ \underline{4} \\ 3 \end{array}$$

Vậy  $87 : 4 = 21$  (dư 3)

$$65 \overline{) 3}$$

$$49 \overline{) 2}$$

$$58 \overline{) 5}$$

b) **Mẫu:**

$$\begin{array}{r} 938 \overline{) 3} \\ \underline{9} \phantom{00} 312 \\ 03 \\ \underline{3} \\ 08 \\ \underline{6} \\ 2 \end{array}$$

Vậy  $938 : 3 = 312$  (dư 2)

$$463 \overline{) 2}$$

$$695 \overline{) 3}$$

$$846 \overline{) 4}$$

4 Vũ xếp 44 bức ảnh gia đình vào quyển sưu tập ảnh, biết rằng mỗi trang xếp được 4 bức ảnh. Hỏi Vũ cần chọn quyển sưu tập ảnh có ít nhất bao nhiêu trang?