

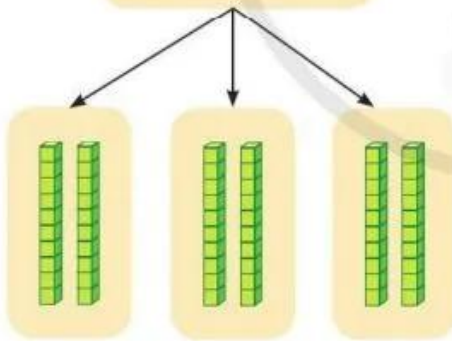
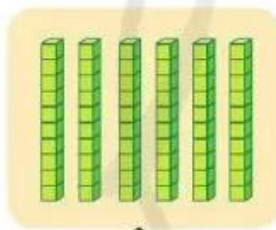
CHIA SỐ TRÒN CHỤC, TRÒN TRĂM CHO SỐ CÓ MỘT CHỮ SỐ



Có 60 tờ giấy màu
chia đều cho 3 bạn.
Hỏi mỗi bạn có bao
nhiều tờ giấy màu?



Tính $60 : 3 = ?$



6 chục khối lập phương
chia đều thành 3 phần.

Tính nhẩm:

6 chục : 3 = 2 chục


Vậy $60 : 3 = 20$



1 Tính nhẩm:

a) $60 : 2$ $70 : 7$ $40 : 2$ $90 : 3$

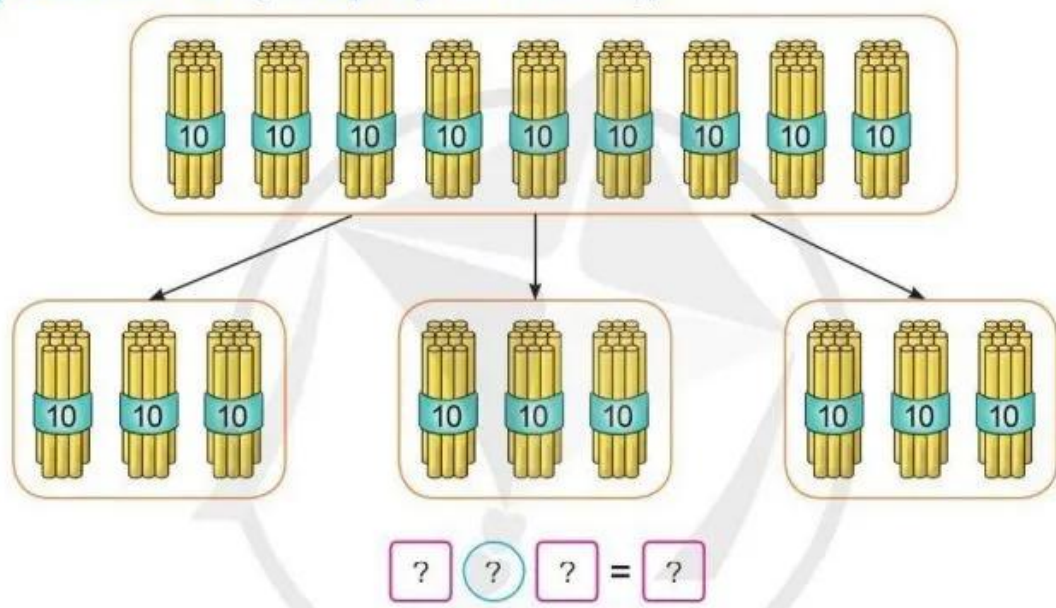
b)



Mẫu: 6 trăm : 3 = 2 trăm
Vậy $600 : 3 = 200$

$800 : 4$
 $400 : 2$
 $500 : 5$

2 Quan sát tranh, nêu phép tính thích hợp:



3 Bác Sáng thu hoạch được 80 quả bí ngô, bác chia đều vào 4 chuyến xe để chở hết số quả bí ngô về nhà. Hỏi mỗi chuyến xe chở bao nhiêu quả bí ngô?



CHIA CHO SỐ CÓ MỘT CHỮ SỐ

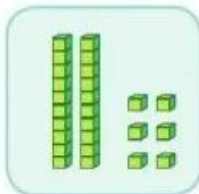
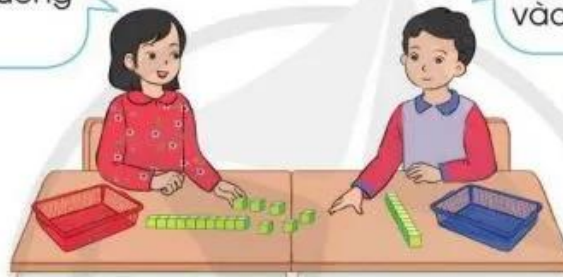
Có 26 quyển sách xếp đều vào 2 ngăn tủ. Hỏi mỗi ngăn có bao nhiêu quyển sách?



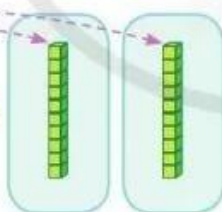
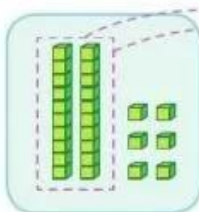
Tính $26 : 2 = ?$

Đầu tiên ta chia đều 20 khối lập phương vào 2 rổ.

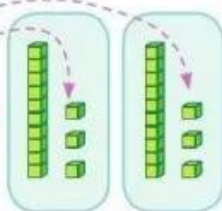
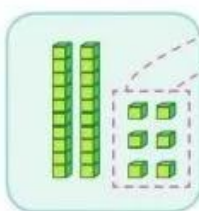
Tiếp theo chia đều 6 khối lập phương vào 2 rổ.



$$\begin{array}{r} 26 \quad | \quad 2 \\ \hline \end{array} \quad \bullet \text{ Đặt tính}$$



$$\begin{array}{r} 26 \quad | \quad 2 \\ 2 \quad | \quad 1 \\ \hline 0 \end{array} \quad \bullet \text{ 2 chia 2 được 1, viết 1.} \\ \text{1 nhân 2 bằng 2,} \\ \text{2 trừ 2 bằng 0.}$$



$$\begin{array}{r} 26 \quad | \quad 2 \\ 2 \quad | \quad 13 \\ \hline 06 \\ 6 \\ \hline 0 \end{array} \quad \bullet \text{ Hạ 6,} \\ \text{6 chia 2 được 3, viết 3.} \\ \text{3 nhân 2 bằng 6,} \\ \text{6 trừ 6 bằng 0.}$$

Vậy $26 : 2 = 13$