

# EM ÔN LẠI NHỮNG GÌ ĐÃ HỌC

## 1 Tính nhẩm:

$$\begin{array}{l} 2 \times 6 \\ 6 \times 2 \\ 12 : 2 \\ 12 : 6 \end{array}$$

$$\begin{array}{l} 7 \times 4 \\ 4 \times 7 \\ 28 : 7 \\ 28 : 4 \end{array}$$

$$\begin{array}{l} 9 \times 3 \\ 3 \times 9 \\ 27 : 9 \\ 27 : 3 \end{array}$$

$$\begin{array}{l} 8 \times 5 \\ 5 \times 8 \\ 40 : 8 \\ 40 : 5 \end{array}$$

## 2 Chọn thẻ tương ứng với phần đã tô màu trong mỗi hình sau:



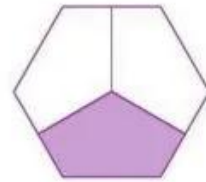
A



B



C



D



$$\frac{1}{2}$$

$$\frac{1}{3}$$

$$\frac{1}{4}$$

$$\frac{1}{5}$$

$$\frac{1}{6}$$

$$\frac{1}{8}$$

## 3 Chọn dấu (+, -, ×, :) thích hợp:



$$8 \text{ ? } 1 = 9$$

$$6 \text{ ? } 3 = 2$$

$$1 \text{ ? } 9 = 9$$



$$7 \text{ ? } 7 = 1$$

$$0 \text{ ? } 3 = 3$$

$$5 \text{ ? } 0 = 0$$



$$1 \text{ ? } 4 = 4$$

$$1 \text{ ? } 1 = 0$$

$$1 \text{ ? } 0 = 1$$



$$6 \text{ ? } 0 = 0$$

$$0 \text{ ? } 6 = 6$$

$$8 \text{ ? } 8 = 1$$

4 Số ?

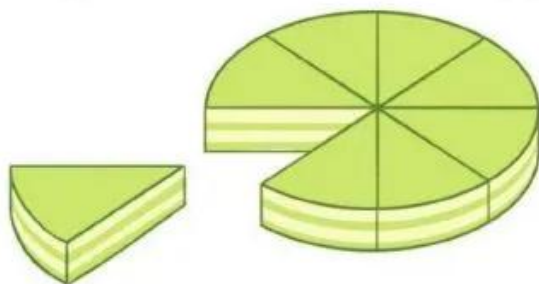
Số đã cho	6	3	9
Thêm 3 đơn vị	9	?	?
Gấp 3 lần	18	?	?
Bớt 3 đơn vị	3	?	?
Giảm 3 lần	2	?	?

5 Chú Nam vắt được 5 xô sữa bò, mỗi xô có 8 l sữa. Hỏi chú Nam vắt được tất cả bao nhiêu lít sữa bò?



6 Ước lượng rồi nêu cân nặng phù hợp với mỗi trường hợp sau:

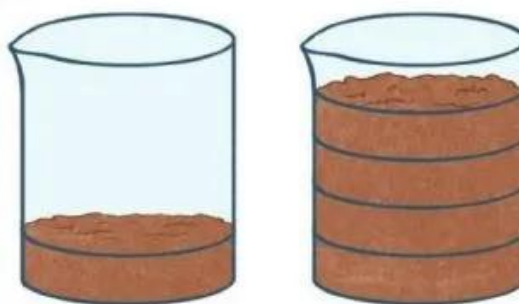
a)



100 g

?

b)



100 g

?



# EM VUI HỌC TOÁN

- 1 a) Thảo luận nhóm để thiết kế một công cụ học nhân, chia thú vị.



- b) Thiết kế một lời nhắn để nhắc các bạn chú ý khi thực hiện nhân, chia với số 0, số 1.

- 2 Góc sáng tạo: Một phần mấy của tôi.

