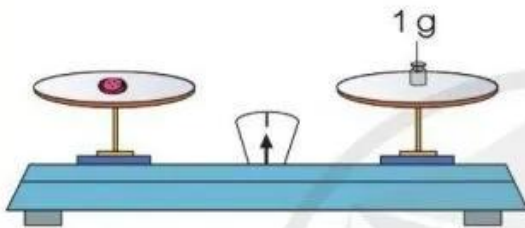


GAM



- Gam là đơn vị đo khối lượng.
- Gam viết tắt là g.
- $1 \text{ kg} = 1\,000 \text{ g}$; $1\,000 \text{ g} = 1 \text{ kg}$.



500 g



200 g



100 g



50 g



20 g



10 g



5 g




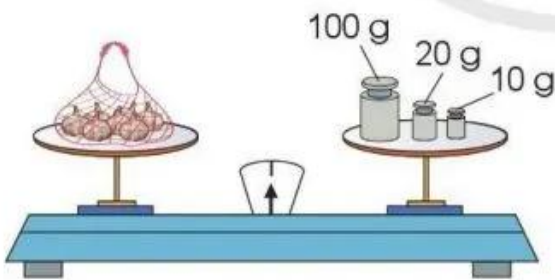
2 g



1 g

1

a) Mỗi túi sau cân nặng bao nhiêu gam?

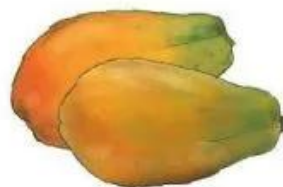


b) Hãy cho biết túi nào ở câu a cân nặng nhất.

2 a) Số ? $1 \text{ kg} = \text{?} \text{ g}$ $1\ 000 \text{ g} = \text{?} \text{ kg}$

b) Tính: $356 \text{ g} + 400 \text{ g}$ $8 \text{ g} \times 6$
 $1\ 000 \text{ g} - 500 \text{ g}$ $30 \text{ g} : 5$

- 3 Có hai quả đu đủ, quả thứ nhất cân nặng 1 kg, quả thứ hai nhẹ hơn quả thứ nhất 100 g. Hỏi quả đu đủ thứ hai cân nặng bao nhiêu gam?



- 4 Chọn đơn vị đo khối lượng (g, kg) để đặt vào ô ? cho thích hợp:



100 ?



850 ?



12 ?



10 ?

- 5 **Thực hành:** Ước lượng cân nặng của một số đồ vật rồi dùng cân để kiểm tra lại.

Khối lập phương cân nặng khoảng 150 g.

Quyển sách cân nặng khoảng 300 g.


Quyển sách cân được 330 g. Bạn đoán gần đúng.



ÔN TẬP VỀ PHÉP CHIA, BẢNG CHIA 2, BẢNG CHIA 5

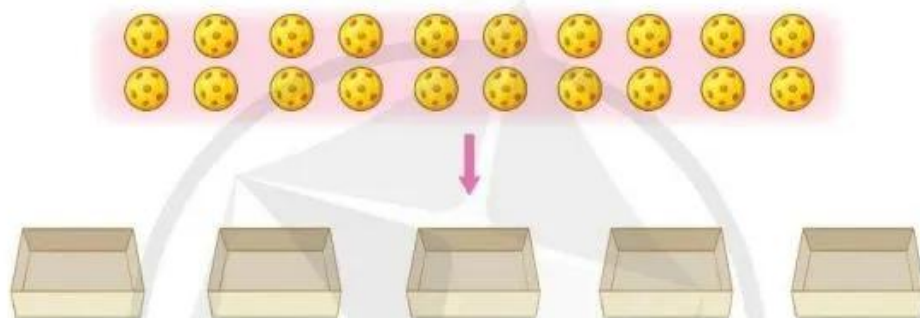
1) Nêu phép chia thích hợp với mỗi tranh vẽ:

a)




$$\boxed{?} \div \boxed{?} = \boxed{?}$$

b)



$$\boxed{?} \div \boxed{?} = \boxed{?}$$

2) Quan sát tranh, nêu các phép tính thích hợp:



$$\boxed{?} \times \boxed{?} = \boxed{?}$$

$$\boxed{?} \div \boxed{?} = \boxed{?}$$

$$\boxed{?} \div \boxed{?} = \boxed{?}$$

3) Tính nhẩm:

$18 : 2$

$14 : 2$

$30 : 5$

$50 : 5$

$10 : 2$

$20 : 2$

$10 : 5$

$35 : 5$

$4 : 2$

$2 : 2$

$25 : 5$

$45 : 5$