

LUYỆN TẬP CHUNG

1 a) Tính:

$$\begin{array}{r} 69 \\ | \\ \hline \end{array} 6$$

$$\begin{array}{r} 85 \\ | \\ \hline \end{array} 2$$

$$\begin{array}{r} 394 \\ | \\ \hline \end{array} 3$$

$$\begin{array}{r} 886 \\ | \\ \hline \end{array} 4$$

b) Đặt tính rồi tính:



$$86 : 2$$



$$57 : 5$$



$$939 : 3$$



$$668 : 6$$

2 Chọn kết quả đúng với mỗi phép tính:


$$60 : 2$$


$$80 : 4$$

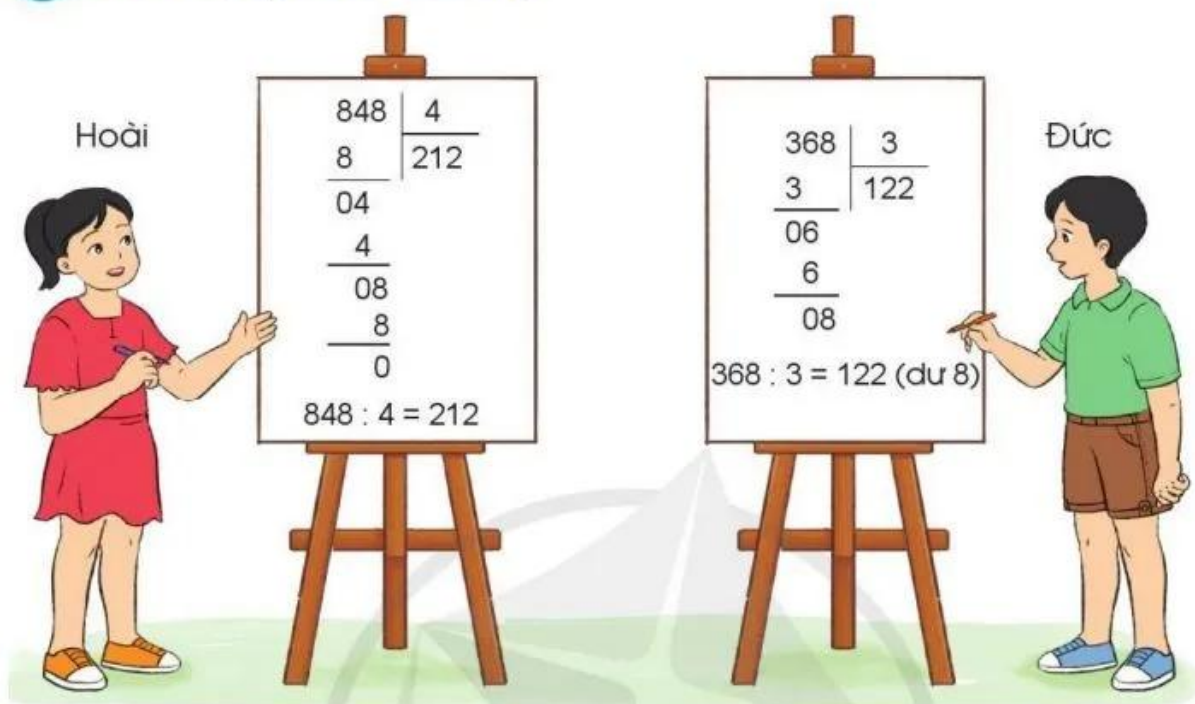

$$900 : 3$$


$$20 : 2$$


$$500 : 5$$



3 Theo em, bạn nào tính đúng?

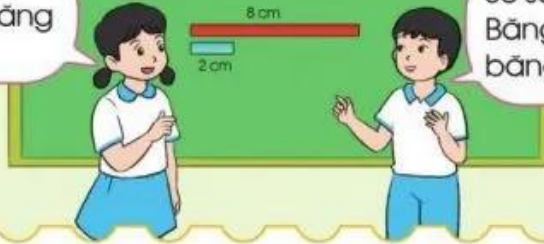


4 Chú Lộc chia đều 800 g cá cơm thành 2 phần bằng nhau. Hỏi mỗi phần có bao nhiêu gam cá cơm?



SO SÁNH SỐ LỚN GẤP MẤY LẦN SỐ BÉ

Băng giấy đỏ dài gấp mấy lần băng giấy xanh?



So sánh độ dài hai băng giấy. Băng giấy đỏ dài gấp 4 lần băng giấy xanh.

Bài toán: Đoạn thẳng AB dài 8 cm, đoạn thẳng CD dài 2 cm. Hỏi đoạn thẳng AB dài gấp mấy lần đoạn thẳng CD?

Em hiểu



$AB = 8 \text{ cm}$
 $CD = 2 \text{ cm}$

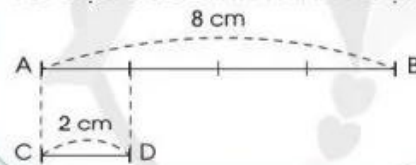
Đoạn thẳng AB dài gấp mấy lần đoạn thẳng CD?



Em nghĩ



Tôi dựa vào hình minh họa:



Tôi làm phép chia.



Em trả lời

Bài giải

Độ dài đoạn thẳng AB gấp độ dài đoạn thẳng CD một số lần là:

$$8 : 2 = 4 \text{ (lần)}$$

Đáp số: 4 lần.

Nhận xét: Muốn biết số lớn gấp mấy lần số bé, ta lấy số lớn chia cho số bé.

- 1 Ngăn trên có 6 quyển sách, ngăn dưới có 24 quyển sách. Hỏi số quyển sách ở ngăn dưới gấp mấy lần số quyển sách ở ngăn trên?