



MỘT PHẦN BA. MỘT PHẦN NĂM. MỘT PHẦN SÁU



Ta có: $\frac{1}{3}$

Đọc là: **Một phần ba**



Ta có: $\frac{1}{5}$

Đọc là: **Một phần năm**




Ta có: $\frac{1}{6}$

Đọc là: **Một phần sáu**

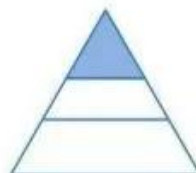
1 Đã tô màu $\frac{1}{3}$ hình nào?



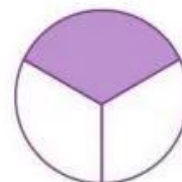
Hình 1



Hình 2

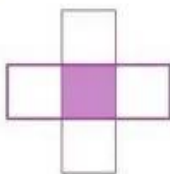


Hình 3



Hình 4

2 a) Đã tô màu $\frac{1}{5}$ những hình nào?



Hình 1



Hình 2

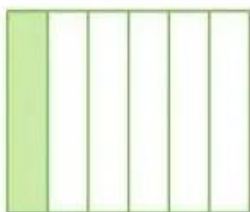


Hình 3

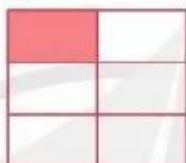


Hình 4


b) Đã tô màu $\frac{1}{6}$ những hình nào?



Hình 1



Hình 2




Hình 3

3 **Thực hành:** Gấp hình để tạo thành $\frac{1}{3}$, $\frac{1}{5}$, $\frac{1}{6}$.



4 Tuấn đã ăn $\frac{1}{3}$ chiếc bánh, Khang đã ăn $\frac{1}{5}$ chiếc bánh, Minh đã ăn $\frac{1}{6}$ chiếc bánh. Theo em, mỗi bạn đó đã ăn phần bánh của chiếc bánh nào dưới đây?



A




B



C

MỘT PHẦN BẢY. MỘT PHẦN TÁM. MỘT PHẦN CHÍN



Ta có: $\frac{1}{7}$

Đọc là: **Một phần bảy**



Ta có: $\frac{1}{8}$

Đọc là: **Một phần tám**



Ta có: $\frac{1}{9}$

Đọc là: **Một phần chín**

1 Chọn thẻ tương ứng với phần đã tô màu trong mỗi băng giấy sau:

$$\frac{1}{4}$$

$$\frac{1}{2}$$

$$\frac{1}{3}$$

$$\frac{1}{8}$$

