


MỘT PHẦN BẢY. MỘT PHẦN TÁM. MỘT PHẦN CHÍN



Ta có: $\frac{1}{7}$

Đọc là: **Một phần bảy**



Ta có: $\frac{1}{8}$

Đọc là: **Một phần tám**



Ta có: $\frac{1}{9}$

Đọc là: **Một phần chín**


1 Chọn thẻ tương ứng với phần đã tô màu trong mỗi băng giấy sau:

$$\frac{1}{4}$$


$$\frac{1}{2}$$

$$\frac{1}{3}$$

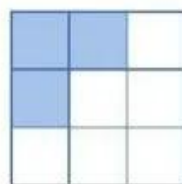
$$\frac{1}{8}$$



2 Đả tô màu $\frac{1}{9}$ hình nào?




Hình A



Hình B

3 Hình nào đã khoanh:


a) $\frac{1}{7}$ số cây nấm?



b) $\frac{1}{8}$ số quả cà chua?




c) $\frac{1}{9}$ số hạt dẻ?



4 Thực hiện các hoạt động sau:

a) Lấy ra 14 hình tròn, chia thành 7 phần bằng nhau.

b) Chỉ ra $\frac{1}{7}$ số hình tròn ở câu a.



EM ÔN LẠI NHỮNG GÌ ĐÃ HỌC

1 Tính nhẩm:

$$\begin{array}{l} 2 \times 6 \\ 6 \times 2 \\ 12 : 2 \\ 12 : 6 \end{array}$$

$$\begin{array}{l} 7 \times 4 \\ 4 \times 7 \\ 28 : 7 \\ 28 : 4 \end{array}$$

$$\begin{array}{l} 9 \times 3 \\ 3 \times 9 \\ 27 : 9 \\ 27 : 3 \end{array}$$

$$\begin{array}{l} 8 \times 5 \\ 5 \times 8 \\ 40 : 8 \\ 40 : 5 \end{array}$$

2 Chọn thẻ tương ứng với phần đã tô màu trong mỗi hình sau:



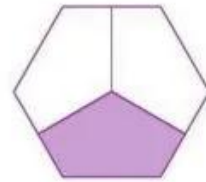
A



B



C



D



$$\frac{1}{2}$$

$$\frac{1}{3}$$

$$\frac{1}{4}$$

$$\frac{1}{5}$$

$$\frac{1}{6}$$

$$\frac{1}{8}$$

3 Chọn dấu (+, -, ×, :) thích hợp:



$$8 \text{ ? } 1 = 9$$

$$6 \text{ ? } 3 = 2$$

$$1 \text{ ? } 9 = 9$$



$$7 \text{ ? } 7 = 1$$

$$0 \text{ ? } 3 = 3$$

$$5 \text{ ? } 0 = 0$$



$$1 \text{ ? } 4 = 4$$

$$1 \text{ ? } 1 = 0$$

$$1 \text{ ? } 0 = 1$$



$$6 \text{ ? } 0 = 0$$

$$0 \text{ ? } 6 = 6$$

$$8 \text{ ? } 8 = 1$$