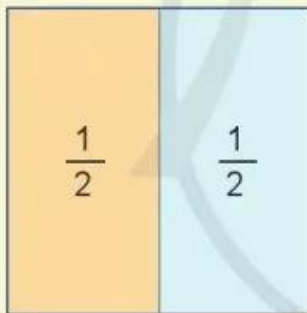


## MỘT PHẦN HAI. MỘT PHẦN TƯ

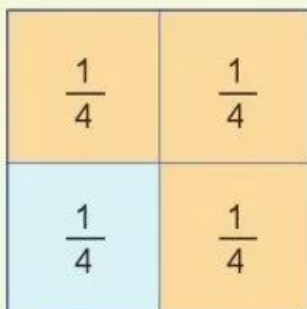


Chia hình vuông thành hai phần bằng nhau.

Lấy một phần, được **một phần hai** hình vuông.

Một phần hai viết là  $\frac{1}{2}$ .

Một phần hai còn gọi là một nửa.



Chia hình vuông thành bốn phần bằng nhau.

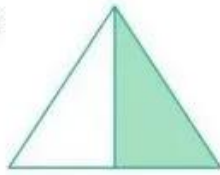
Lấy một phần, được **một phần tư** hình vuông.

Một phần tư viết là  $\frac{1}{4}$ .

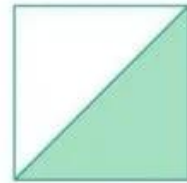

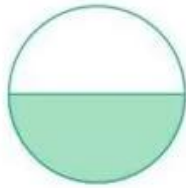
1 Nói (theo mẫu):

a)

Mẫu:



Đã tô màu vào một phần hai hình tam giác.



b)

Mẫu:



Hình A

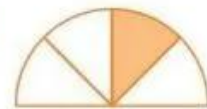
Đã tô màu vào một phần tư hình A.



Hình B




Hình C



Hình D

2 a) Đã tô màu  $\frac{1}{2}$  hình nào?



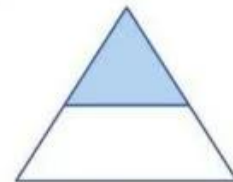
Hình 1



Hình 2

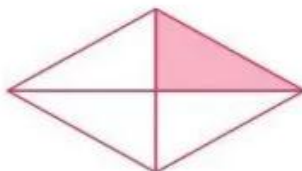


Hình 3




Hình 4

b) Đã tô màu  $\frac{1}{4}$  hình nào?



Hình 1



Hình 2




Hình 3

3 a) **Thực hành:** Gấp hình để tạo thành  $\frac{1}{2}$ .

– Gấp đôi một tờ giấy rồi trải tờ giấy ra.

– Tô màu vào  $\frac{1}{2}$  tờ giấy.



b) **Thực hành:** Gấp hình để tạo thành  $\frac{1}{4}$ .


– Gấp đôi một tờ giấy rồi lại gấp đôi tiếp.

– Vuốt thẳng góc rồi trải tờ giấy ra.


– Tô màu vào  $\frac{1}{4}$  tờ giấy.



4 Trang muốn ăn  $\frac{1}{2}$  chiếc bánh, Nguyễn muốn ăn  $\frac{1}{4}$  chiếc bánh. Em hãy chỉ giúp hai bạn phần bánh thích hợp ở hình bên.




# MỘT PHẦN BA. MỘT PHẦN NĂM. MỘT PHẦN SÁU



Ta có:  $\frac{1}{3}$

Đọc là: **Một phần ba**



Ta có:  $\frac{1}{5}$

Đọc là: **Một phần năm**




Ta có:  $\frac{1}{6}$

Đọc là: **Một phần sáu**

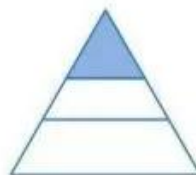
1 Đã tô màu  $\frac{1}{3}$  hình nào?



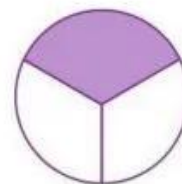
Hình 1



Hình 2



Hình 3



Hình 4