


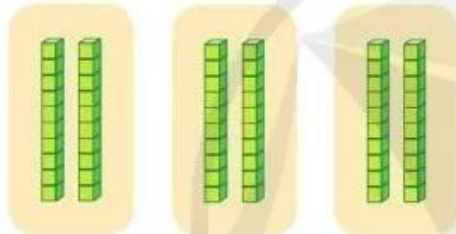
# NHÂN SỐ TRÒN CHỤC VỚI SỐ CÓ MỘT CHỮ SỐ

Mỗi khay có 20 chiếc bánh.  
Hỏi 3 khay có bao nhiêu  
chiếc bánh?

Để tìm số bánh ta tính:  
 $20 + 20 + 20 = ?$   
hay  $20 \times 3 = ?$



Tính  $20 \times 3 = ?$



2 chục khối lập phương  
được lấy 3 lần.


Tính nhẩm:

$$2 \text{ chục} \times 3 = 6 \text{ chục}$$

$$\text{Vậy } 20 \times 3 = 60$$

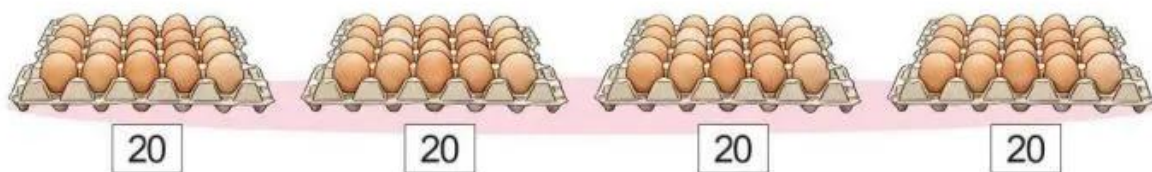


1 Tính nhẩm:



**2** Quan sát tranh, nêu phép nhân thích hợp:

a)



$$\boxed{?} \times \boxed{?} = \boxed{?}$$

b)



$$\boxed{?} \times \boxed{?} = \boxed{?}$$

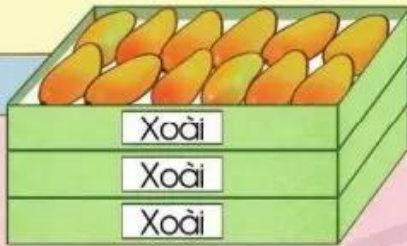
**3** Mỗi sọt có 20 kg khoai lang. Hỏi 5 sọt có tất cả bao nhiêu ki-lô-gam khoai lang?



# NHÂN VỚI SỐ CÓ MỘT CHỮ SỐ (KHÔNG NHỚ)

Mỗi hộp có 12 quả xoài.  
Hỏi 3 hộp có bao nhiêu  
quả xoài?

Để tìm số quả xoài  
ta tính:  $12 \times 3 = ?$



Tính  $12 \times 3 = ?$

Đặt tính:

$$\begin{array}{r} 12 \\ \times 3 \\ \hline \square \\ \square \end{array}$$

Tính:

$$\begin{array}{r} 12 \\ \times 3 \\ \hline 36 \end{array}$$



• 3 nhân 2 bằng 6, viết 6.

• 3 nhân 1 bằng 3, viết 3.

Vậy  $12 \times 3 = 36$

1 Tính:

$$\begin{array}{r} 23 \\ \times 3 \\ \hline \square \\ \square \end{array}$$

$$\begin{array}{r} 34 \\ \times 2 \\ \hline \square \\ \square \end{array}$$

$$\begin{array}{r} 42 \\ \times 2 \\ \hline \square \\ \square \end{array}$$

$$\begin{array}{r} 11 \\ \times 5 \\ \hline \square \\ \square \end{array}$$