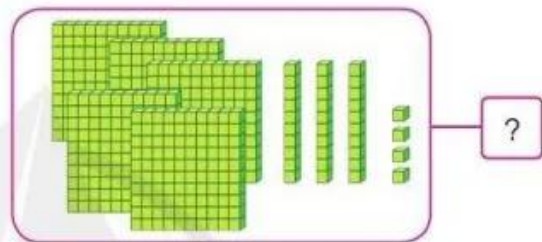
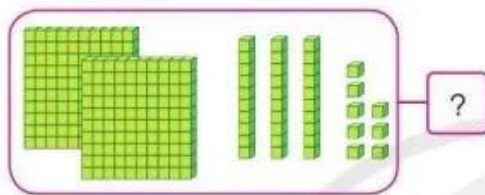
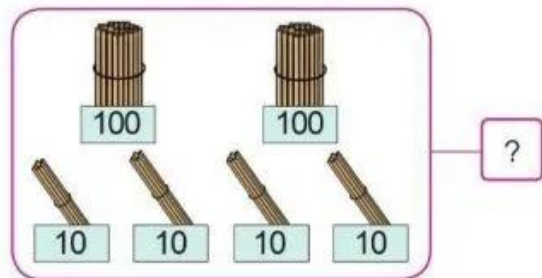
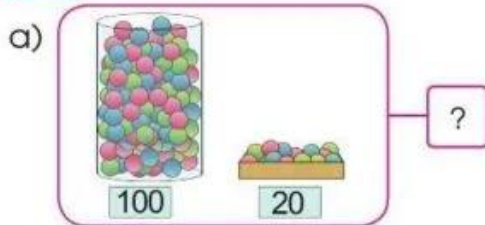


ÔN TẬP VỀ CÁC SỐ TRONG PHẠM VI 1 000

1 Số ?



c) Số liền trước của số 470 là . Số liền sau của số 489 là .

d) 715 gồm trăm chục đơn vị, ta viết $715 = \text{?} + \text{?} + \text{?}$.

2 Quan sát tranh, thực hiện các yêu cầu sau:



a) Nêu tên bạn thu gom được nhiều vỏ chai nhựa nhất.

b) Nêu tên các bạn thu gom số lượng vỏ chai nhựa theo thứ tự từ nhiều đến ít.




3 a) Em hãy ước lượng số con ong, số bông hoa trong hình sau:



b) Em hãy đếm số con ong, số bông hoa ở hình trên để kiểm tra lại.

4 Số ghế ghi trên vé xem biểu diễn ca nhạc của bố và Ngọc là 231 và 232. Em hãy chỉ dẫn giúp hai bố con Ngọc tìm được ghế của mình.



ÔN TẬP VỀ PHÉP CỘNG, PHÉP TRỪ TRONG PHẠM VI 1 000

1 Tính nhẩm:

$8 + 2$

$9 + 5$

$13 - 4$

$10 - 3$

$38 + 2$

$19 + 5$

$23 - 4$

$50 - 3$

$98 + 2$

$29 + 5$

$83 - 4$

$100 - 3$

2 Đặt tính rồi tính:

$49 + 25$

$63 - 58$

$37 + 63$

$637 + 151$

$524 - 219$

$362 + 418$

3 Quyển sách có 148 trang. Minh đã đọc được 75 trang. Hỏi còn bao nhiêu trang sách Minh chưa đọc?

4 Ngày thứ nhất đội công nhân làm được 457 m đường, ngày thứ hai đội công nhân đó làm được nhiều hơn ngày thứ nhất 125 m đường. Hỏi ngày thứ hai đội công nhân đó làm được bao nhiêu mét đường?

