

ÔN TẬP VỀ HÌNH HỌC VÀ ĐO LƯỜNG

- 1 Xem các hình sau rồi chỉ ra những đồ vật có dạng khối lập phương, khối hộp chữ nhật, khối trụ, khối cầu:



- 2 a) Đo rồi đọc tên đoạn thẳng dài nhất trong các đoạn thẳng sau:



b) Vẽ đoạn thẳng MN có độ dài 1 dm.

- 3 Quay kim trên mặt đồng hồ để đồng hồ chỉ:

- a) 7 giờ, 1 giờ rưỡi, 12 giờ 15 phút.
b) 14 giờ 30 phút, 22 giờ, 16 giờ 15 phút.



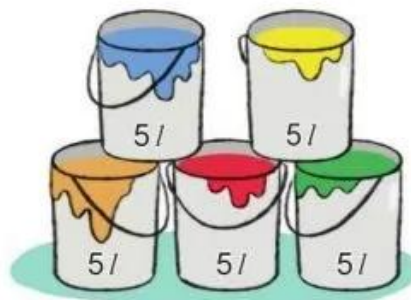
4 Số ?



? l

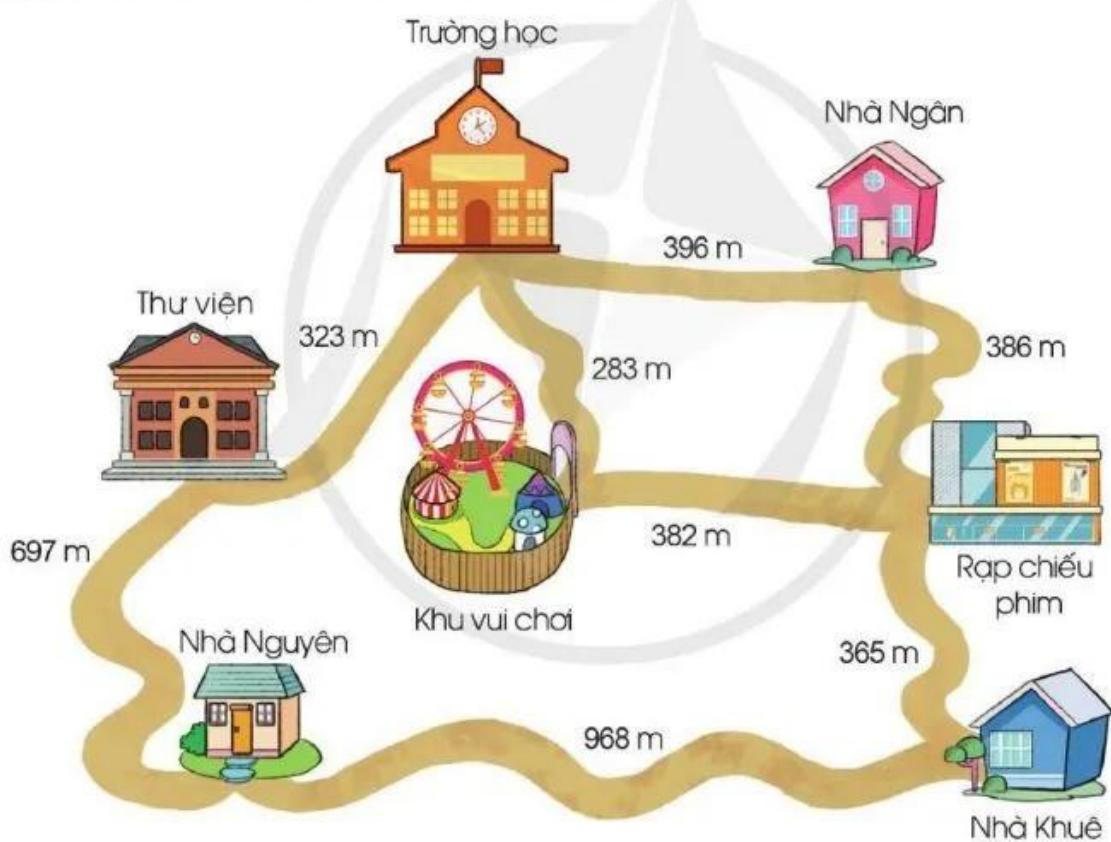


? l



? l

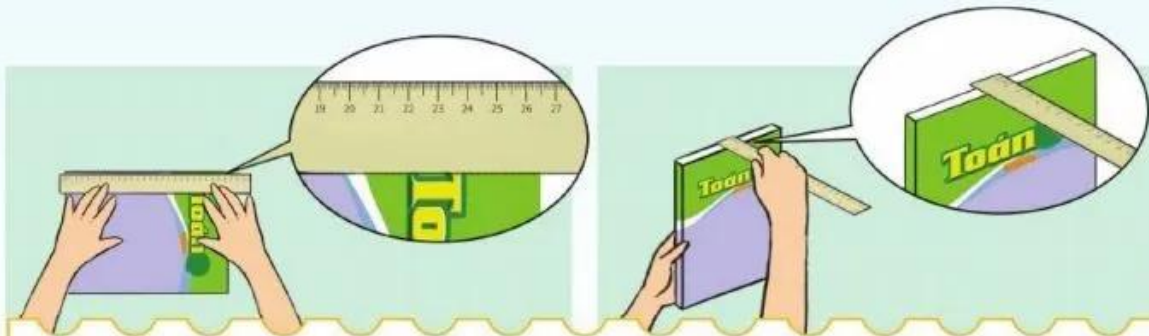
5 Quan sát sơ đồ sau, trả lời các câu hỏi:



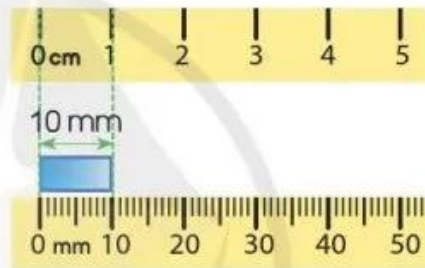
a) Quảng đường từ nhà Nguyên đến nhà Khuê dài hơn quảng đường từ nhà Nguyên đến thư viện bao nhiêu mét?

b) Theo em, nếu đi từ nhà Ngân đến khu vui chơi thì đi đường nào gần hơn?

MI-LI-MÉT





Băng giấy dài
mười mi-li-mét.



- Mi-li-mét là một đơn vị đo độ dài.
- Mi-li-mét viết tắt là mm.
- $1 \text{ cm} = 10 \text{ mm}$; $10 \text{ mm} = 1 \text{ cm}$.

1 a) Mỗi đoạn dây sau dài bao nhiêu mi-li-mét?



b) Đoạn dây nào ở câu a dài hơn?