


# ÔN TẬP VỀ PHÉP CHIA, BẢNG CHIA 2, BẢNG CHIA 5

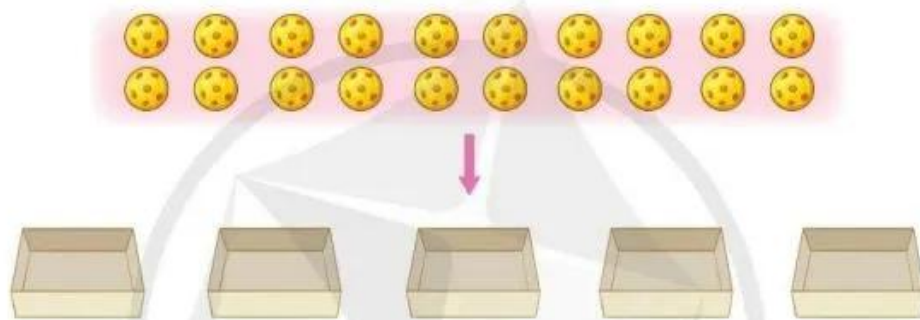
1) Nêu phép chia thích hợp với mỗi tranh vẽ:

a)




$$\boxed{?} \div \boxed{?} = \boxed{?}$$

b)



$$\boxed{?} \div \boxed{?} = \boxed{?}$$

2) Quan sát tranh, nêu các phép tính thích hợp:



$$\boxed{?} \times \boxed{?} = \boxed{?}$$

$$\boxed{?} \div \boxed{?} = \boxed{?}$$

$$\boxed{?} \div \boxed{?} = \boxed{?}$$

3) Tính nhẩm:

$18 : 2$

$14 : 2$

$30 : 5$

$50 : 5$

$10 : 2$

$20 : 2$

$10 : 5$

$35 : 5$

$4 : 2$

$2 : 2$

$25 : 5$

$45 : 5$

**4** Giải bài toán sau (theo mẫu):

**Mẫu:** Mẹ làm được 10 chiếc bánh, Đức giúp mẹ xếp đều vào 2 đĩa.  
Hỏi mỗi đĩa có mấy chiếc bánh?



*Bài giải*

Số chiếc bánh ở mỗi đĩa là:

$$10 : 2 = 5 \text{ (chiếc)}$$

Đáp số: 5 chiếc bánh.

**Bài toán:** Đoàn tham quan có 15 người được chia thành các nhóm, mỗi nhóm 5 người. Hỏi đoàn tham quan đó đã được chia thành mấy nhóm?



## BẢNG CHIA 3

$12 : 3 = ?$

$3 \times 4 = 12$   
 $12 : 3 = 4$

**BẢNG CHIA 3**

$3 : 3 = 1$	$18 : 3 = 6$
$6 : 3 = 2$	$21 : 3 = 7$
$9 : 3 = 3$	$24 : 3 = 8$
$12 : 3 = 4$	$27 : 3 = 9$
$15 : 3 = 5$	$30 : 3 = 10$

Đây là bảng chia 3

### 1 Tính nhẩm:

$6 : 3$

$15 : 3$

$30 : 3$

$9 : 3$

$3 : 3$

$27 : 3$

$12 : 3$

$21 : 3$

$18 : 3$

### 2 Tính:

$3 \times 5$

$3 \times 6$

$3 \times 8$

$15 : 3$

$18 : 3$

$24 : 3$

$15 : 5$

$18 : 6$

$24 : 8$