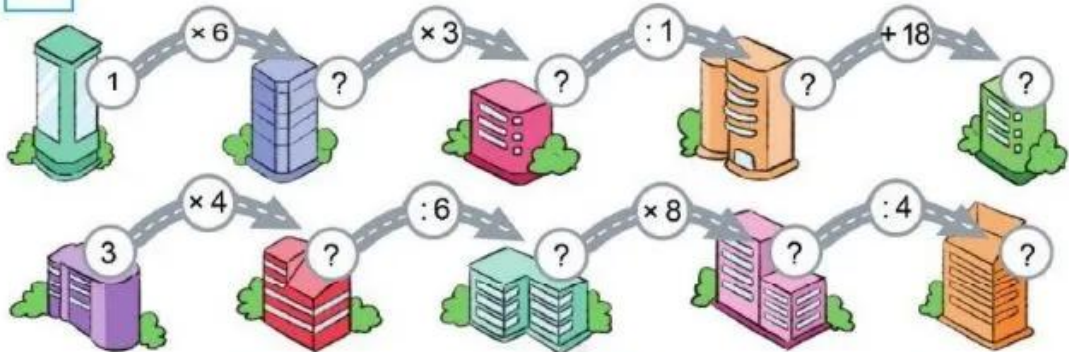


ÔN TẬP VỀ PHÉP NHÂN, PHÉP CHIA TRONG PHẠM VI 1 000

1 a) Số ?



b) Tính: $3 \times 4 + 8$ $48 : 8 + 7$ $9 : 9 \times 0$
 $7 \times 10 - 14$ $72 : 9 - 6$ $0 : 6 + 37$

2 a) Tìm phép chia sai rồi sửa lại cho đúng:

$32 : 6 = 5$ (dư 1)

$63 : 8 = 7$ (dư 6)

$8 : 5 = 1$ (dư 3)

$9 : 8 = 1$ (dư 0)

b) Đặt dấu ngoặc () vào các biểu thức sau để được các biểu thức có giá trị đúng:

$3 + 4 \times 9 = 63$

$9 : 3 + 6 = 1$

$16 - 16 : 2 = 0$

$12 : 3 \times 2 = 2$

3 Số ?

Số đã cho	8	4	12	20
Thêm 4 đơn vị	12	?	?	?
Gấp 4 lần	32	?	?	?
Bớt 4 đơn vị	4	?	?	?
Giảm 4 lần	2	?	?	?

- 4 Cây phong ba và cây bàng vuông là loài cây có ở quần đảo Trường Sa của Việt Nam. Nhân dịp Tết trồng cây, người ta trồng 9 cây phong ba và trồng số cây bàng vuông nhiều gấp 4 lần số cây phong ba. Hỏi tổng số cây phong ba và cây bàng vuông đã được trồng trong dịp này là bao nhiêu cây?



- 5 Đặt tính rồi tính:

a) 32×3 41×2 124×2 312×3

b) $39 : 3$ $85 : 4$ $336 : 3$ $487 : 2$

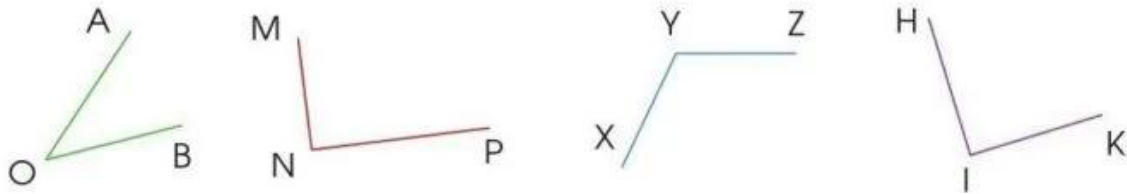
- 6 Mẹ may mỗi chiếc rèm hết 6 m vải. Hỏi:

- a) Có 24 m vải mẹ may được mấy chiếc rèm như thế?
b) Mẹ may 11 chiếc rèm như thế hết bao nhiêu mét vải?

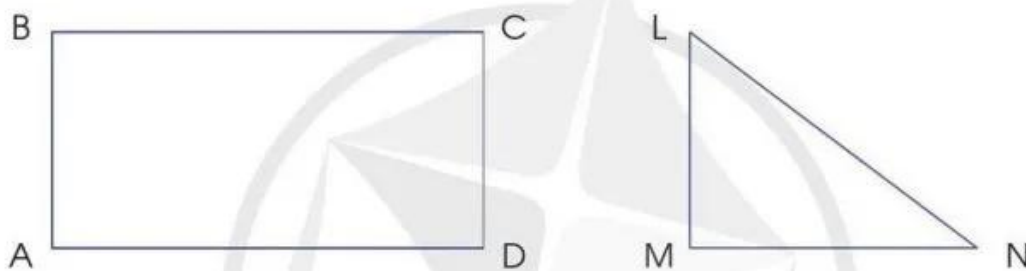


ÔN TẬP VỀ HÌNH HỌC VÀ ĐO LƯỜNG

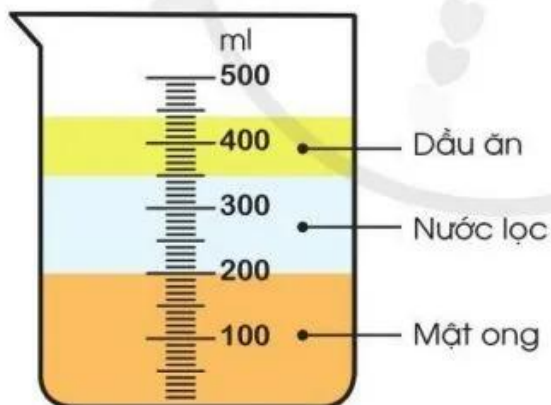
- 1 Dùng ê ke kiểm tra rồi nêu tên góc vuông, góc không vuông trong các hình sau:




- 2 Đo độ dài các cạnh rồi tính chu vi mỗi hình sau:



- 3 Bạn Voi làm thí nghiệm rót lần lượt mật ong, nước lọc và dầu ăn vào bình đo như hình sau:



Có bao nhiêu mi-li-lít mật ong?



- Có bao nhiêu mi-li-lít mật ong?
- Có bao nhiêu mi-li-lít dầu ăn?
- Bình đo đang đựng tất cả bao nhiêu mi-li-lít gồm mật ong, nước lọc và dầu ăn?