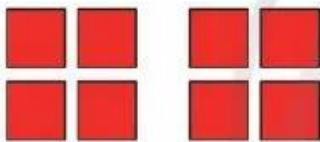


PHÉP CHIA HẾT. PHÉP CHIA CÓ DƯ

9 hình vuông chia đều cho 2 bạn,
mỗi bạn được mấy hình vuông?
Còn dư lại mấy hình vuông?



1. Có 8 hình vuông chia đều cho 2 bạn, mỗi bạn được 4 hình vuông.
Ta có phép chia $8 : 2 = 4$.




Mỗi bạn được 4 hình vuông,
không còn dư hình vuông nào.



Ta nói: Phép chia $8 : 2$ có thương là 4, số dư là 0.
Đây là phép chia hết. Ta viết $8 : 2 = 4$.

2. Có 9 hình vuông chia đều cho 2 bạn, mỗi bạn được 4 hình vuông,
còn dư 1 hình vuông.



Mỗi bạn được 4 hình vuông,
còn dư 1 hình vuông.



Ta nói: Phép chia $9 : 2$ có thương là 4, số dư là 1.
Đây là phép chia có dư. Ta viết $9 : 2 = 4$ (dư 1).
Đọc là: Chín chia hai bằng bốn, dư một.

1 Số ?

a) $11 : 2 = \square$ (dư \square)

Thương là: \square

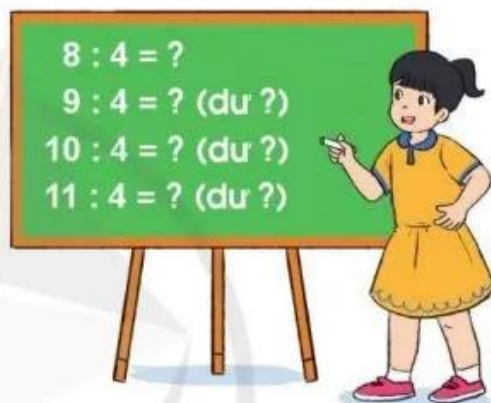
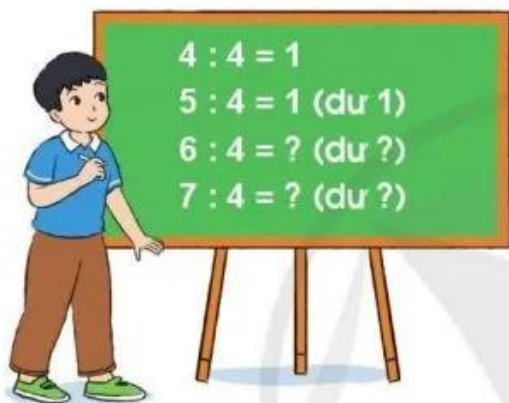
Số dư là: \square

b) $17 : 3 = \square$ (dư \square)

Thương là: \square

Số dư là: \square

2 Số ?



Nhận xét: Số dư trong phép chia bao giờ cũng bé hơn số chia.

- 3 Có 14 người khách cần sang sông, mỗi chuyến thuyền chở được nhiều nhất 4 người khách (không kể người chèo thuyền). Theo em, cần ít nhất mấy chuyến để thuyền chở hết số khách đó?



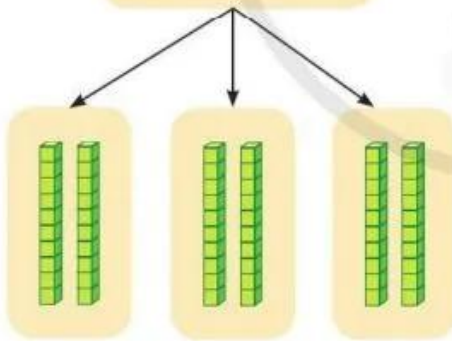
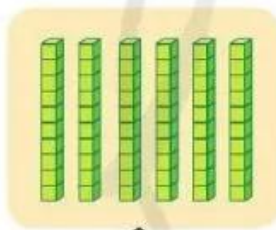
CHIA SỐ TRÒN CHỤC, TRÒN TRĂM CHO SỐ CÓ MỘT CHỮ SỐ



Có 60 tờ giấy màu
chia đều cho 3 bạn.
Hỏi mỗi bạn có bao
nhiêu tờ giấy màu?



Tính $60 : 3 = ?$



6 chục khối lập phương
chia đều thành 3 phần.

Tính nhẩm:

6 chục : 3 = 2 chục

Vậy $60 : 3 = 20$

