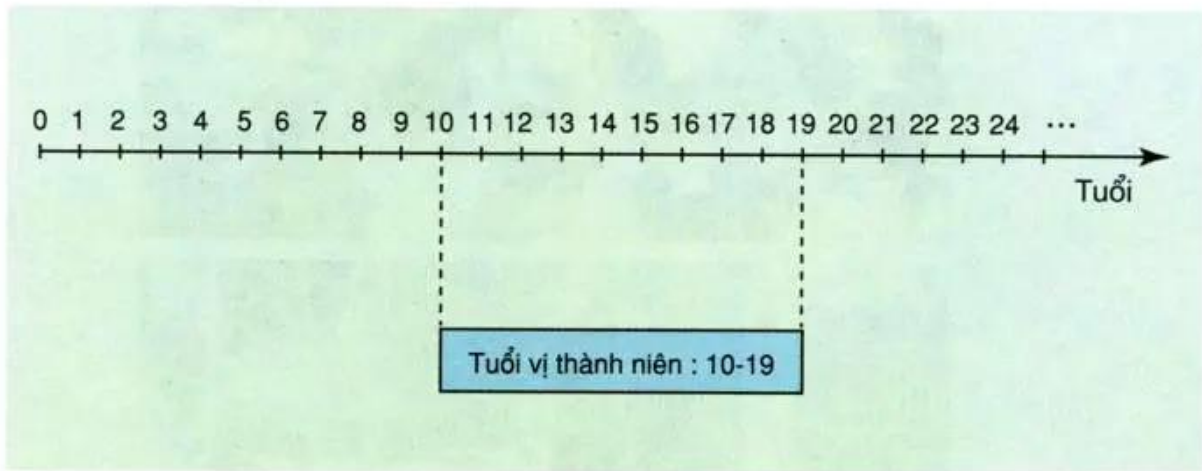




Bài 20-21 Ôn tập : Con người và sức khoẻ



1. Sơ đồ dưới đây thể hiện lứa tuổi vị thành niên. Bạn hãy vẽ một sơ đồ tương tự thể hiện lứa tuổi dậy thì ở con gái và con trai.



2. Chọn câu trả lời đúng nhất.

Tuổi dậy thì là gì ?

- a) Là tuổi mà cơ thể có nhiều biến đổi về mặt thể chất.
- b) Là tuổi mà cơ thể có nhiều biến đổi về mặt tinh thần.
- c) Là tuổi mà cơ thể có nhiều biến đổi về mặt tình cảm và mối quan hệ xã hội.
- d) Là tuổi mà cơ thể có nhiều biến đổi về mặt thể chất, tinh thần, tình cảm và mối quan hệ xã hội.

3. Chọn câu trả lời đúng.

Việc nào dưới đây chỉ có phụ nữ làm được ?

- a) Làm bếp giỏi.
- b) Chăm sóc con cái.
- c) Mang thai và cho con bú.
- d) Thêu, may giỏi.

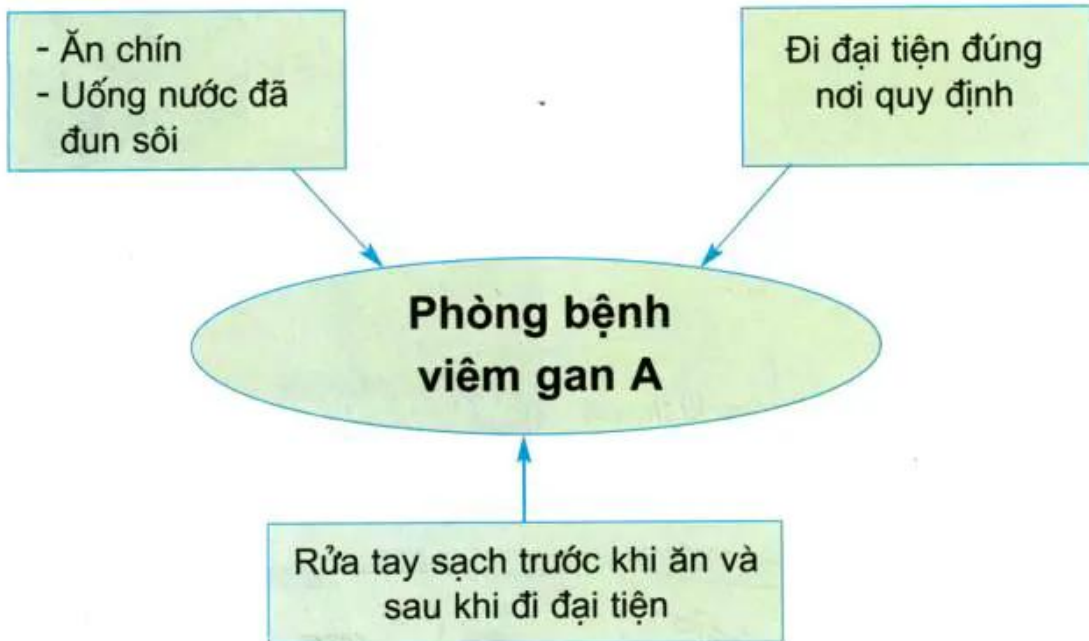


“Ai nhanh, ai đúng ?”

Thi viết (hoặc vẽ) 1 (hoặc 2, 3) sơ đồ có nội dung dưới đây :

- Cách phòng tránh bệnh sốt rét.
- Cách phòng tránh bệnh sốt xuất huyết.
- Cách phòng tránh bệnh viêm não.
- Cách phòng tránh nhiễm HIV / AIDS.

Ví dụ :



①




Vẽ hoặc sưu tầm tranh vận động phòng tránh sử dụng các chất gây nghiện (hoặc xâm hại trẻ em, hoặc HIV/AIDS, hoặc tai nạn giao thông).



②

Không kì thị với người bệnh AIDS.
Tranh của Trần Nghị.

**VÌ MỘT THẾ GIỚI TUỔI THƠ TƯƠI ĐẸP
KHÔNG KÌ THỊ VỚI NGƯỜI BỆNH AIDS**



③

Cương quyết cai thuốc lá.
Tranh của Nguyễn Thế Anh (12 tuổi).