

Bảng các số từ 1 đến 100

1	2	3	4	5	6	7	8	9	10
11	12	13	14	15	16	17	18	19	20
21	22	23	24	25	26	27	28	29	30
31	32	33	34	35	36	37	38	39	40
41	42	43	44	45	46	47	48	49	50
51	52	53	54	55	56	57	58	59	60
61	62	63	64	65	66	67	68	69	70
71	72	73	74	75	76	77	78	79	80
81	82	83	84	85	86	87	88	89	90
91	92	93	94	95	96	97	98	99	100

- 1 Đọc các số theo thứ tự từ 1 đến 100.
- 2 Đọc tiếp: 2, 4, 6, ..., 100.
- 3 Em hãy đọc các số ở ba cột tô màu.



Em chọn một số trong bảng và đọc từ số đó đến 100, đọc từ 1 đến số đó.

1 Số?

a) 72, 73, 74, ?, ?, ?, ?, ?

b) 47, 48, 49, ?, ?, ?, ?, ?

2 Viết các số.

- Mười một.
- Sáu mươi mốt.
- Bảy mươi lăm.
- Tám mươi tư.
- Chín mươi chín.
- Một trăm.

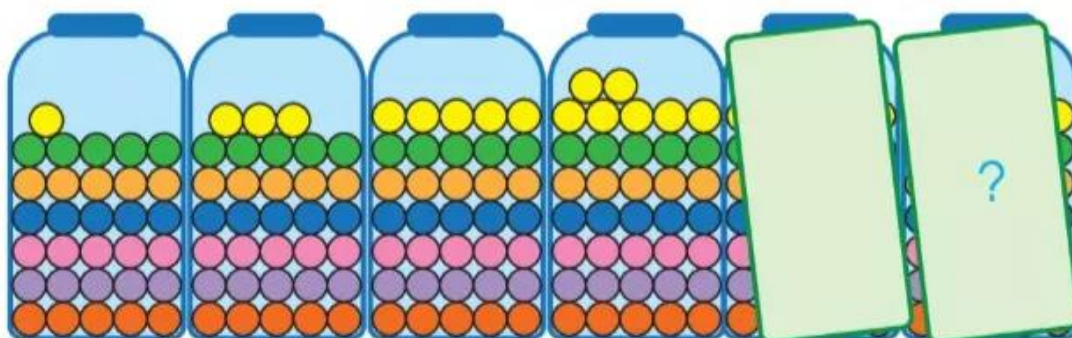


3 Số?


77	?	79	?
?	88	?	90

41	?	?	44
?	52	?	54

4 Bình cuối cùng có bao nhiêu viên kẹo?



5



78 ? 72

36 ? 52

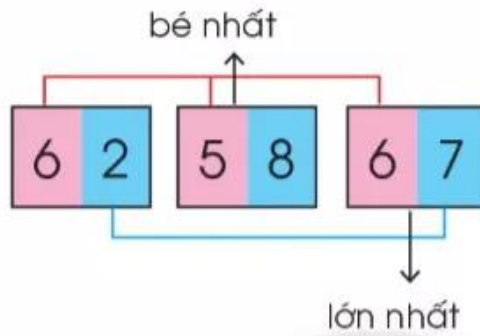
90 + 4 ? 4 + 90

84 ? 90

67 ? 9

40 + 2 ? 40 + 1

6



So sánh số chục trước.



- a) Số nào bé nhất, số nào lớn nhất trong các số sau: 62, 58, 67?
- b) Sắp xếp các số 62, 58, 67 theo thứ tự từ lớn đến bé.

7

Em tìm được tuổi của mỗi người không?



Chân trời sáng tạo

73 tuổi

37 tuổi

7 tuổi

8 Số?

