


Các phép tính dạng $10 + 4$, $14 - 4$

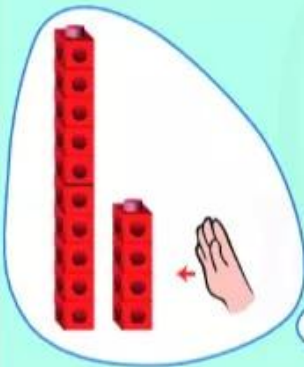
Dùng  thể hiện số:

14



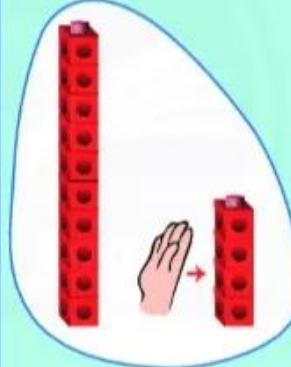
14 gồm 10 và 4

$10 + 4 = ?$



$10 + 4 = 14$

$14 - 4 = ?$



$14 - 4 = 10$



$10 + 7 = ?$

$17 - 7 = ?$

$10 + 5 = ?$

$15 - 5 = ?$

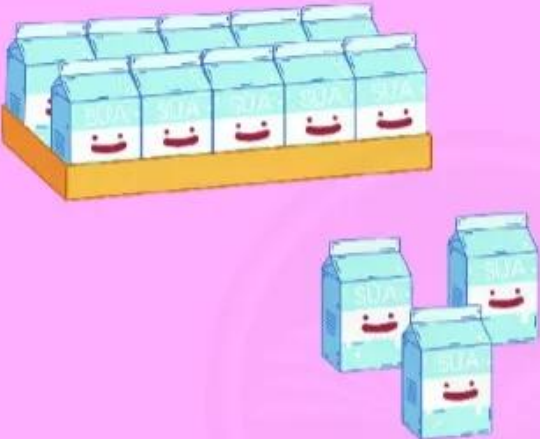
1 Tính:

$$\begin{array}{l} 10 + 8 \\ 18 - 8 \end{array}$$

$$\begin{array}{l} 10 + 9 \\ 16 - 6 \end{array}$$


2 Viết các phép tính theo mẫu.

Mẫu:



10 + 3 = 13

13 - 3 = 10



BỘT SẮP MÀU

10

? ? ? ? ?

? ? ? ? ?