


Các phép tính dạng $12 + 3, 15 - 3$

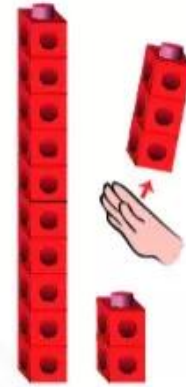
$$12 + 3 = ?$$



2 cộng 3 bằng 5.
10 cộng 5 bằng 15.
Vậy 12 cộng 3 bằng 15.

$$12 + 3 = 15$$

$$15 - 3 = ?$$



5 trừ 3 bằng 2.
10 cộng 2 bằng 12.
Vậy 15 trừ 3 bằng 12.

$$15 - 3 = 12$$



$$13 + 4 = ?$$

$$17 - 4 = ?$$

$$11 + 5 = ?$$

$$16 - 5 = ?$$

1 Tính: $12 + 5$
 $17 - 5$

$13 + 6$
 $18 - 4$

- 2 a Cộng bằng cách **đếm thêm**. b Trừ bằng cách **đếm bớt**.

Mẫu: $14 + 3 = ?$



$14 + 3 = 17$

$15 + 3$







Mẫu: $17 - 3 = ?$



$17 - 3 = 14$

$19 - 3$

- 3 Tính để biết mỗi con vật sống ở đâu.

 $18 - 6$	 $17 - 2$	 $10 + 2$
 $10 + 5$	 $12 + 0$	 $18 - 3$

