



Các phép tính dạng $30 + 20, 50 - 20$

Dùng  thể hiện các số 30 và 20.

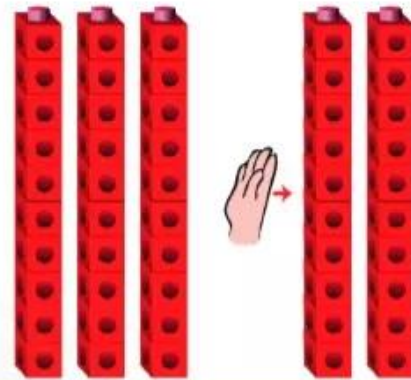
$$30 + 20 = ?$$



$$3 \text{ chục} + 2 \text{ chục} = 5 \text{ chục}$$

$$30 + 20 = 50$$

$$50 - 20 = ?$$



$$5 \text{ chục} - 2 \text{ chục} = 3 \text{ chục}$$

$$50 - 20 = 30$$

1 Tính nhẩm.

$40 + 10$

$60 + 20$

$70 - 40$

$50 - 10$

$20 + 60$

$90 - 20$

2 Tính nhẩm.

$40 + 30 + 10$

$80 - 50 + 10$



- Em đếm từ 1 đến 100.
- Em đếm tất cả các con vật trong hình vẽ sau:

