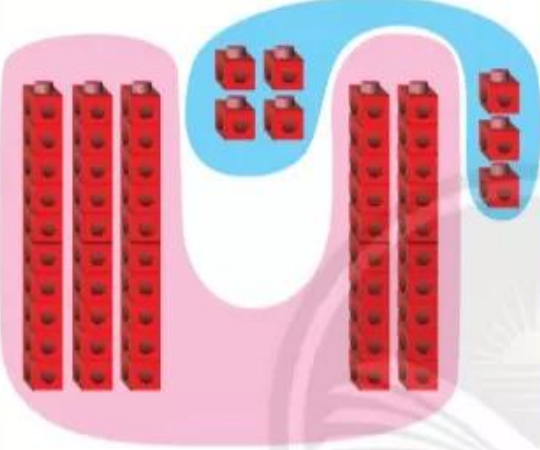



Các phép tính dạng $34 + 23$, $57 - 23$

Dùng  thể hiện các phép tính.

$34 + 23 = ?$	$57 - 23 = ?$
	
$\begin{array}{r} 34 \\ + 23 \\ \hline 57 \end{array}$ <p>4 cộng 3 bằng 7, viết 7. 3 cộng 2 bằng 5, viết 5.</p>	$\begin{array}{r} 57 \\ - 23 \\ \hline 34 \end{array}$ <p>7 trừ 3 bằng 4, viết 4. 5 trừ 2 bằng 3, viết 3.</p>
$34 + 23 = 57$	$57 - 23 = 34$

Đặt tính rồi tính.

$28 + 71$	$48 - 36$	$40 + 50$
$64 + 32$	$95 - 43$	$70 - 60$

1 Tính:

$$\begin{array}{r} 48 \\ + 51 \\ \hline \end{array}$$

$$\begin{array}{r} 53 \\ + 23 \\ \hline \end{array}$$

$$\begin{array}{r} 64 \\ - 12 \\ \hline \end{array}$$

$$\begin{array}{r} 35 \\ - 25 \\ \hline \end{array}$$

2 Tính theo mẫu.

Mẫu:

$\begin{array}{r} 50 \\ + 7 \\ \hline 57 \end{array}$	<p>0 cộng 7 bằng 7, viết 7. Hạ 5, viết 5.</p>
---	---

$\begin{array}{r} 29 \\ - 8 \\ \hline 21 \end{array}$	<p>9 trừ 8 bằng 1, viết 1. Hạ 2, viết 2.</p>
---	--

$$\begin{array}{r} 14 \\ + 3 \\ \hline \end{array}$$

$$\begin{array}{r} 72 \\ + 4 \\ \hline \end{array}$$

$$\begin{array}{r} 86 \\ - 3 \\ \hline \end{array}$$

$$\begin{array}{r} 69 \\ - 9 \\ \hline \end{array}$$

3 Số?

$$\begin{array}{|c|} \hline ? \\ \hline \end{array}$$

$$\begin{array}{|c|} \hline ? \\ \hline \end{array}$$

$$\begin{array}{|c|} \hline ? \\ \hline \end{array}$$

$$?. + ?. = ?.$$

$$?. + ?. = ?.$$

$$?. - ?. = ?.$$

$$?. - ?. = ?.$$

4 Tính nhẩm.

$$\begin{array}{l} 60 + 20 \\ 70 - 60 \end{array}$$

$$\begin{array}{l} 10 + 70 \\ 80 - 70 \end{array}$$

$$\begin{array}{l} 90 - 30 \\ 40 + 30 \end{array}$$

5 Tính nhẩm.

$$6 + 3 + 1$$

$$10 - 3 - 1$$

$$80 - 60 - 10$$

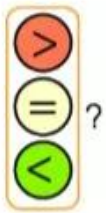
6 Đặt tính rồi tính.

$$\begin{array}{r} 16 + 53 \\ 84 - 22 \end{array}$$

$$\begin{array}{r} 23 + 6 \\ 4 + 75 \end{array}$$

$$\begin{array}{r} 57 - 4 \\ 89 - 5 \end{array}$$

7




$$45 - 5 \quad \boxed{?} \quad 45$$

$$30 + 10 \quad \boxed{?} \quad 30$$

$$20 + 6 \quad \boxed{?} \quad 26$$

8 Số?



$$\boxed{?} + \boxed{?} = \boxed{?}$$