


# Các số đến 100

Đếm:

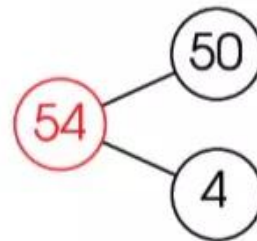


Làm theo mẫu.



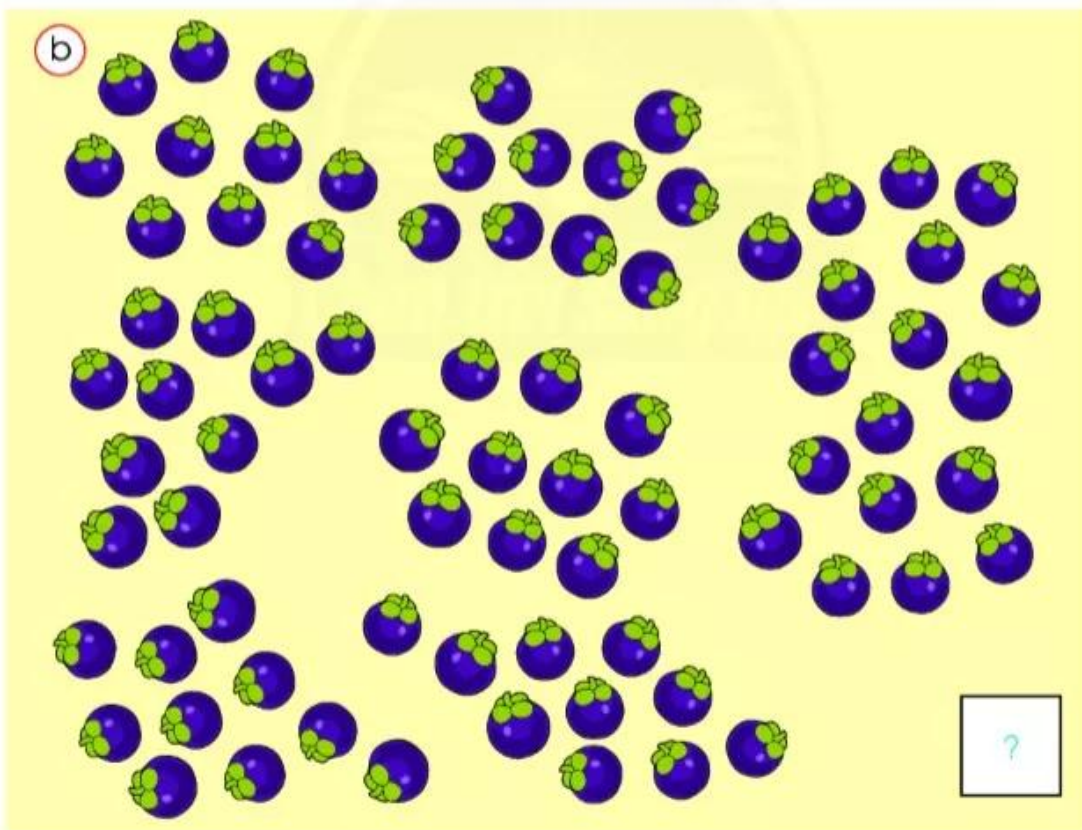

**54**

năm mươi tư  
năm mươi bốn



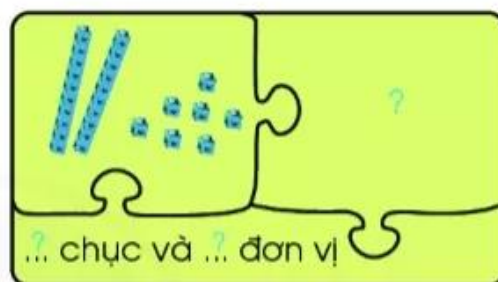
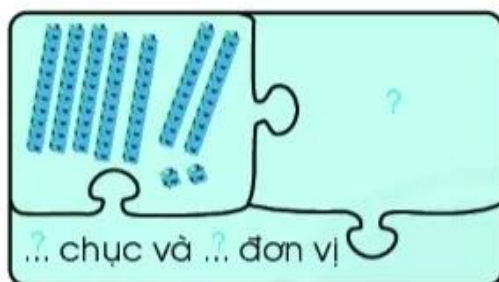
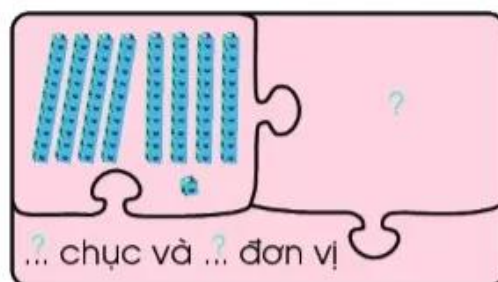
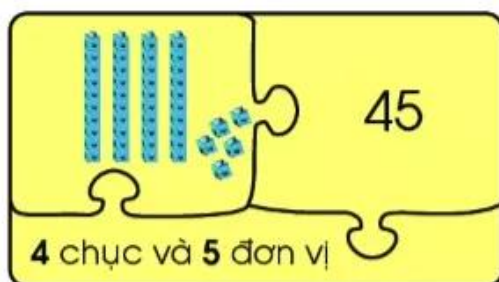
**54** gồm **5 chục** và **4 đơn vị**.  
Gộp **5 chục** và **4 đơn vị** được **54**.

1 Số?



2 Số? (Theo mẫu)

Mẫu:



3 Quả bóng nào có số phù hợp (xem mẫu)?

Mẫu:





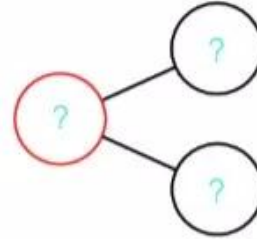
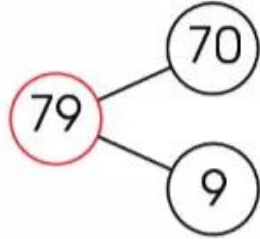
4 Số?

(79)

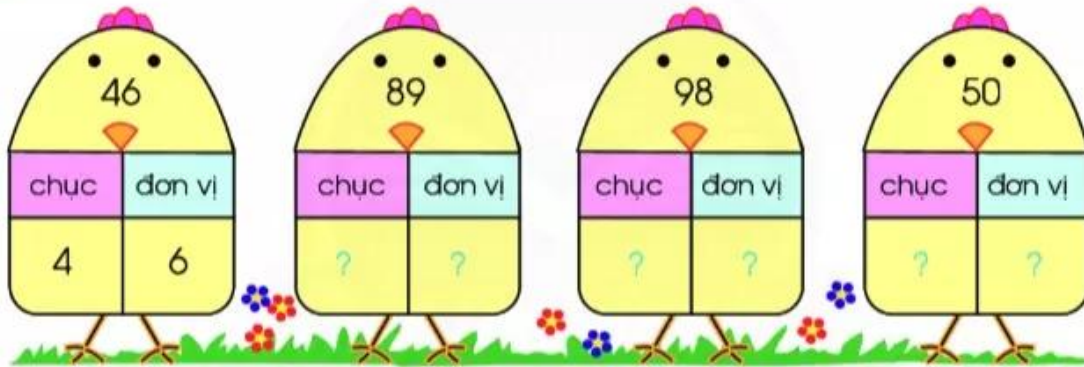
chục	đơn vị
7	9

(95)

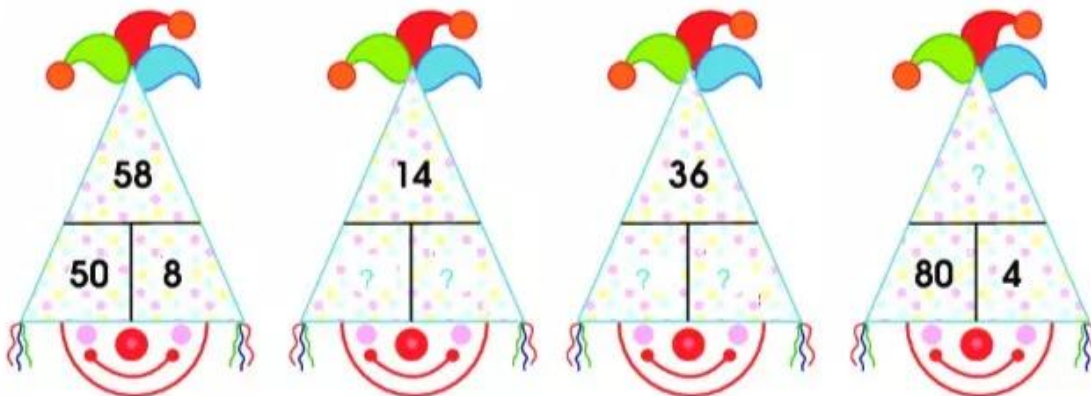
chục	đơn vị
?	?



5 Số?

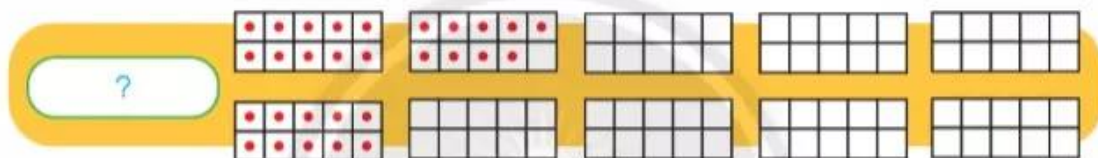
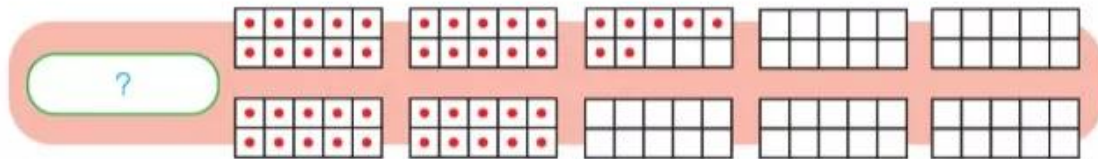
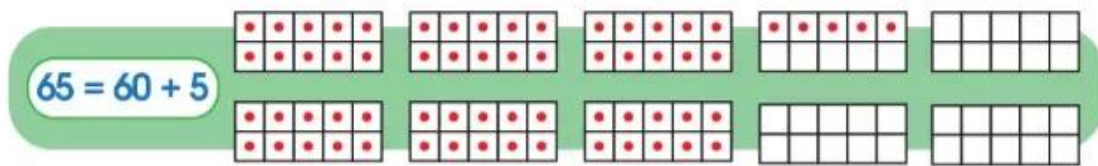


6 Số?



7 Làm theo mẫu.

Mẫu:



8 Tính:

$40 + 2$

$84 - 4$

$42 - 2$

$60 + 6$

9 Đúng (đ) hay sai (s)?

a)  $35 = 3 + 5$

b)  $70 + 9 = 79$

$35 = 30 + 5$

$70 + 9 = 709$

$35 = 5 + 30$

$90 + 7 = 79$

10 Số?

30	+	?	=	80
+	X	+	X	-
60	-	10	=	?
=	X	=	X	=
?	-	60	=	?

Chân trời sáng tạo

11 Số?

$50 + ? = 58$	$94 - ? = 90$	$? - 5 = 40$	$? + 7 = 37$
---------------	---------------	--------------	--------------





Xem hình và đếm số con tem.

**CỘNG ĐỒNG CÁC DÂN TỘC VIỆT NAM**

Họa sĩ thiết kế: NGUYỄN THỊ BÌNH VÀ PHẠM THỊ THÈM - HÀ NỘI - VĨNH DƯƠNG - B. VÕ Đ. LÊ HẢI - T. THÈM - V. LÂN - K. LÂN - H. LÂN - V. LÂN - T. LÂN - B. LÂN - T. LÂN - L. LÂN - T. LÂN - B. LÂN