


Ôn tập cuối năm

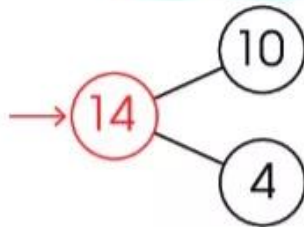
1 Thực hiện theo mẫu.

Mẫu:

hình dạng




14 cái bánh gồm
10 cái bánh có dạng hình
tam giác và 4 cái bánh
có dạng hình chữ nhật.




$$10 + 4 = 14$$

$$14 - 4 = 10$$

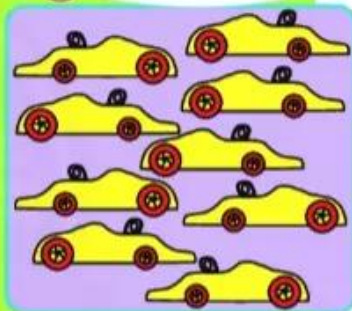
a màu sắc




b kích cỡ (to, nhỏ)



c phương hướng



2 Chọn từng cặp
và giải thích cách chọn.



3 Đồ vật nào cần xếp lại?
Hãy giải thích.




4 Chọn một hình rồi viết phép tính thích hợp theo mẫu.

Mẫu:



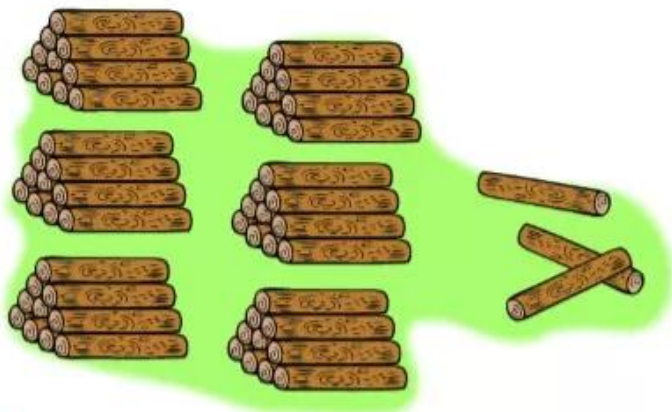
$$5 + 1 = 6$$
$$1 + 5 = 6$$

$$6 - 1 = 5$$
$$6 - 5 = 1$$

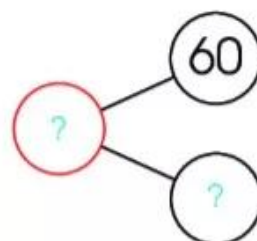


5 Xem tranh.

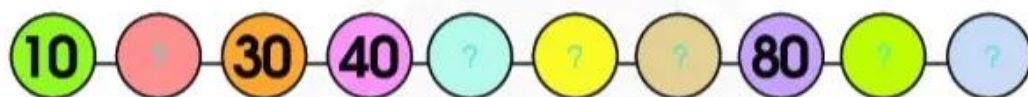
a Có bao nhiêu khúc gỗ?



b Số?



6 Số?



7 a 



b Sắp xếp các số sau theo thứ tự từ lớn đến bé:
20, 9, 47, 41.

8 Xe nào chở nhiều quả dưa hấu nhất?

Số lượng quả dưa hấu trên mỗi xe được ghi trên hình vẽ.



9 Đặt tính rồi tính.

$$87 - 25$$

$$52 + 4$$

$$4 + 65$$

$$43 + 16$$

$$98 - 5$$

$$79 - 20$$

10 Tính nhẩm.

$$9 - 2 + 3$$

$$80 + 10 - 30$$

$$90 - 20 - 30$$

11 Đúng (đ) hay sai (s)?

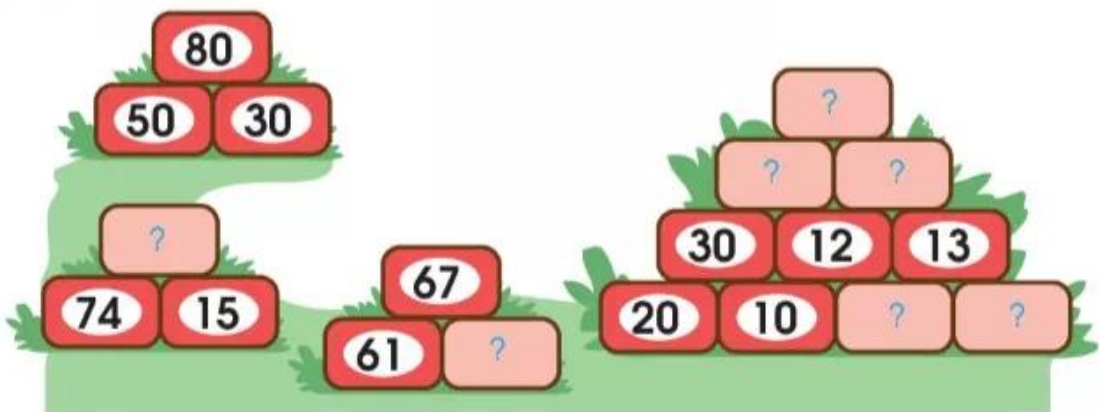
$$\begin{array}{r} 6 \\ + 42 \\ \hline 48 \end{array} \quad ?$$

$$\begin{array}{r} 58 \\ - 21 \\ \hline 79 \end{array} \quad ?$$

$$\begin{array}{r} 94 \\ - 3 \\ \hline 64 \end{array} \quad ?$$

$$\begin{array}{r} 34 \\ + 62 \\ \hline 96 \end{array} \quad ?$$

12 Số?



13 Xem tranh.



Viết phép tính và nói câu trả lời theo mẫu.

Mẫu:

Có **6** bạn đang chơi bóng, thêm **4** bạn tới cùng chơi. Hỏi **có tất cả** bao nhiêu bạn chơi bóng?

$$6 + 4 = 10$$

Trả lời: Có tất cả 10 bạn chơi bóng.

a

Lúc đầu có **5** bạn dưới nước, sau đó **2** bạn lên bờ. Hỏi còn lại mấy bạn dưới nước?

b

An nhật được 5 vỏ ốc, Hoà nhật được 4 vỏ ốc. Hỏi cả hai bạn nhật được bao nhiêu vỏ ốc?



Vịnh Nha Trang (tỉnh Khánh Hoà) là một trong 29 vịnh biển đẹp nhất thế giới.



14 Trò chơi

Bạn A: Nói hai số bất kì trong phạm vi 10.

Bạn B: • So sánh hai số đó.

• Dùng hai số đó viết một phép trừ.

Đổi vai trò: B nói, A viết.



15 Em nhớ được mấy số đo của em?

- Ngón trỏ dài cm.
- Bàn tay dài cm.
- Gang tay dài cm.
- Bước chân dài cm.
- Sải tay dài gang tay.

16 Em đo hộp bút của em.



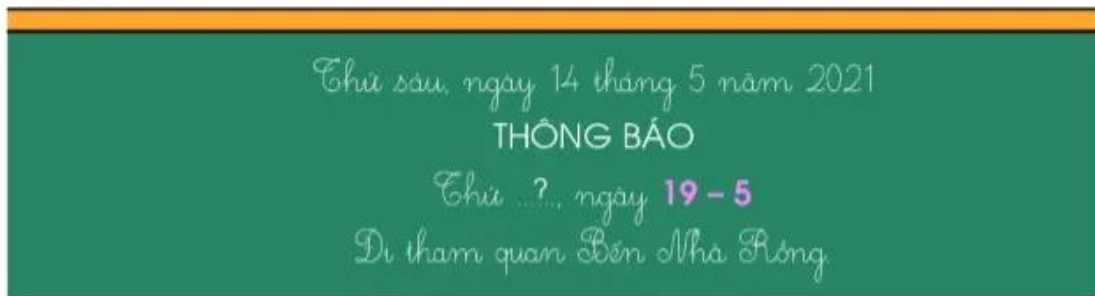
Chiều dài cm.

Chiều rộng cm.

17 a) Đọc các tờ lịch sau (Thứ ... ngày...).



b) Xem THÔNG BÁO, thứ mấy đi tham quan?



c) Quan sát tranh:

Lúc mấy giờ?
Ở đâu?
Làm gì ở đó?



.....?

- Lúc đi: Có mặt tại, trước giờ.
- Lúc 9 giờ em đang ở
- Phụ huynh đón em tại, lúc giờ.