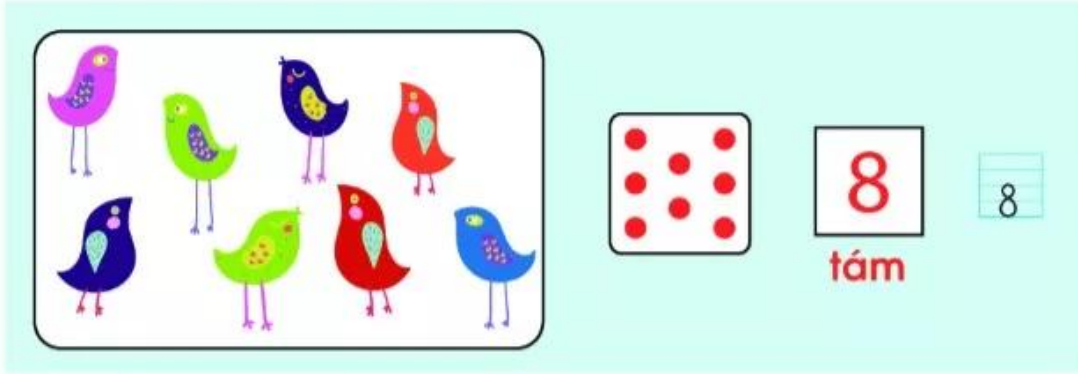
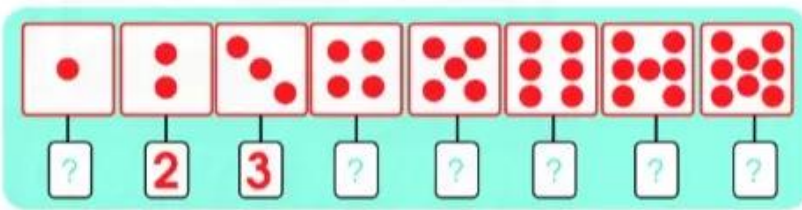


SỐ 8



8	8	8	8
5	6	7	8







1	2	?	?	5	6	?	7	8	4	?	?	7	?	
?	7	?	5	?	6	?	?	3	?	?	?	3	2	?

4 Có bao nhiêu chiếc xe?







1 Nói các cách tách - gộp 8.

8

	7 và 1
	6 và 2
	5 và 3
	4 và 4

2  8 ? 5 4 ? 7 6 ? 6

3 Mỗi con vật có mấy chân?

			
2	?	?	?



Em nói trôi chảy các cách tách - gộp 6, 7, 8, ví dụ:

- 8 gồm 7 và 1.
- Gộp 6 và 2 được 8.

