
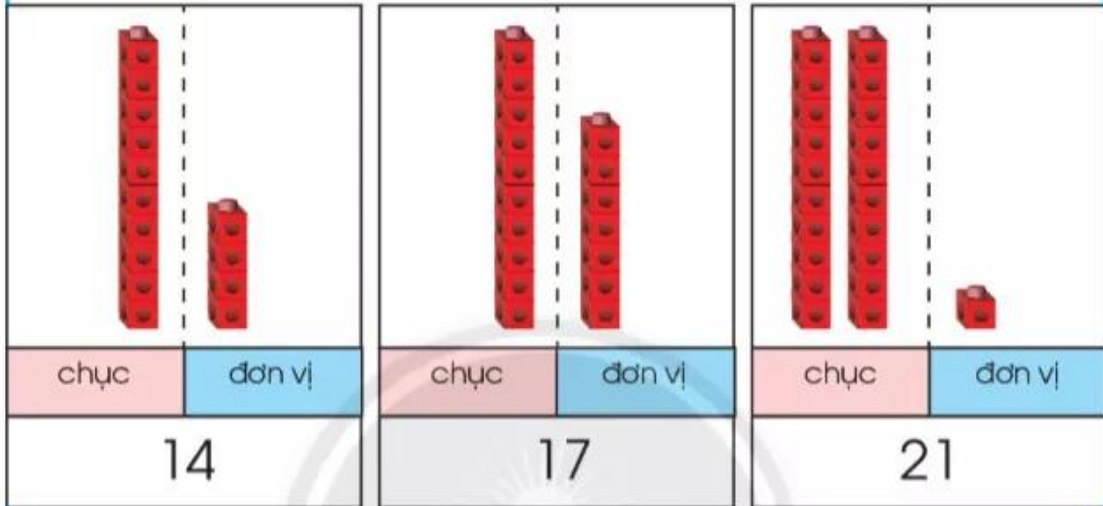


So sánh các số

SO SÁNH SỐ CHỤC, SỐ ĐƠN VỊ

Dùng  thể hiện các số 14, 17, 21.



1 chục = 1 chục
 $4 < 7$

$14 < 17$
 $17 > 14$




1 chục < 2 chục

$17 < 21$
 $21 > 17$



1



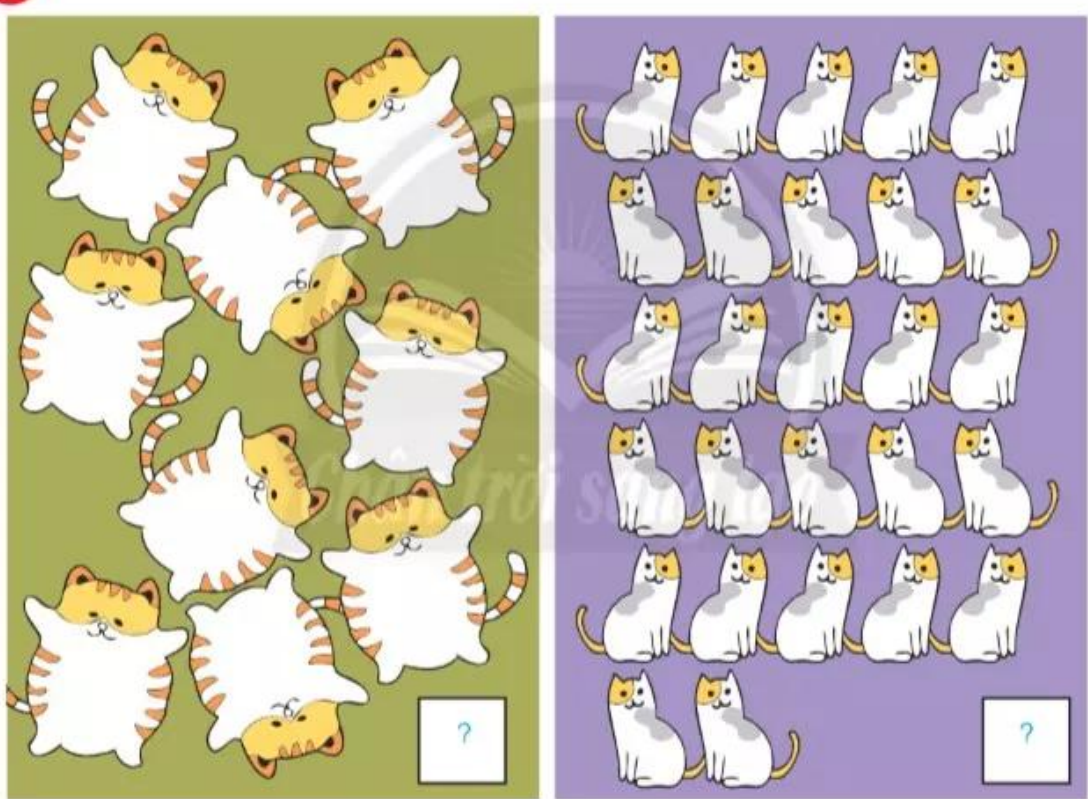
- a) $23 \dots ? \dots 28$ b) $27 \dots ? \dots 37$ c) $38 \dots ? \dots 30 + 8$
? $36 \dots ? \dots 34$ $22 \dots ? \dots 10$ $30 \dots ? \dots 35$
 $19 \dots ? \dots 15$ $32 \dots ? \dots 13$ $6 \dots ? \dots 24$

2

Sắp xếp các số sau theo thứ tự:

- a) Từ bé đến lớn: 37, 21, 28. b) Từ lớn đến bé: 29, 36, 33.

3



- a) Quan sát tranh và nói ngay tranh nào có nhiều mèo hơn.
b) Đếm số con mèo ở mỗi bức tranh.
c) So sánh hai số vừa tìm được.