


Thực hành và trải nghiệm

Em đi bộ theo luật giao thông



- 1** Quan sát các bạn đi trên lễ đường ở bức tranh.
- a) Tính từ phải sang trái, bạn thứ năm mặc áo màu gì?
 - b) Bạn mặc áo đỏ ở vị trí nào trong hàng?

- 2** Thảo luận về các biển báo giao thông dưới đây.
- a) Hình dạng, màu sắc mỗi biển báo.
 - b) Ý nghĩa của mỗi biển báo.



Giao nhau với đường sắt không có rào chắn


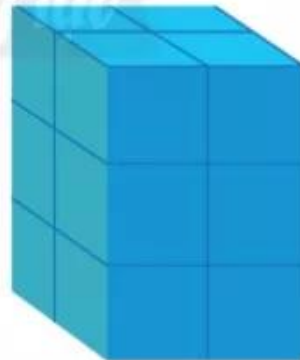
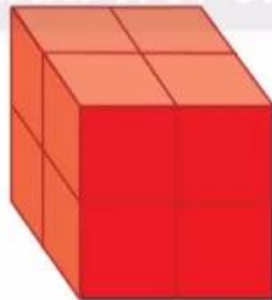


Cầu vượt qua đường cho người đi bộ



Cấm đi xe đạp

- 3** Xếp thành khối lập phương, khối hộp chữ nhật và xếp xe.





Xem tranh, viết một phép cộng và một phép trừ trong phạm vi 10.

