



## BIỂU ĐỒ

Đây là một biểu đồ nói về các con của năm gia đình.

### CÁC CON CỦA NĂM GIA ĐÌNH

Gia đình cô Mai	
Gia đình cô Lan	
Gia đình cô Hồng	
Gia đình cô Đào	
Gia đình cô Cúc	

Biểu đồ này có hai cột :

- Cột bên trái ghi tên các gia đình.
- Cột bên phải cho biết số con, số con trai, số con gái của mỗi gia đình.








Nhìn vào biểu đồ ta biết :

– Năm gia đình được nêu tên trên biểu đồ là : gia đình cô Mai, gia đình cô Lan, gia đình cô Hồng, gia đình cô Đào và gia đình cô Cúc.

- Gia đình cô Mai có 2 con gái, gia đình cô Lan có 1 con trai,...

**1** Biểu đồ dưới đây nói về các môn thể thao khối lớp Bốn tham gia :

**CÁC MÔN THỂ THAO KHỐI LỚP BỐN THAM GIA**




4A				
4B				
4C				

Nhìn vào biểu đồ trên hãy trả lời các câu hỏi sau :

- Những lớp nào được nêu tên trong biểu đồ ?
- Khối lớp Bốn tham gia mấy môn thể thao, gồm những môn nào ?
- Môn bơi có mấy lớp tham gia, là những lớp nào ?
- Môn nào có ít lớp tham gia nhất ?
- Hai lớp 4B và 4C tham gia tất cả mấy môn ? Hai lớp đó cùng tham gia những môn nào ?

**SỐ THÓC GIA ĐÌNH BÁC HÀ ĐÃ THU HOẠCH**

**2** Biểu đồ bên nói về số thóc gia đình bác Hà đã thu hoạch trong ba năm : 2000, 2001 và 2002.

Năm 2000	
Năm 2001	
Năm 2002	

Dựa vào biểu đồ hãy trả lời các câu hỏi dưới đây :

Chú ý : Mỗi  chỉ 10 tạ thóc.

- Năm 2002 gia đình bác Hà thu hoạch được mấy tấn thóc ?
- Năm 2002 gia đình bác Hà thu hoạch nhiều hơn năm 2000 bao nhiêu tạ thóc ?
- Cả ba năm gia đình bác Hà thu hoạch được bao nhiêu tấn thóc ? Năm nào thu hoạch được nhiều thóc nhất ? Năm nào thu hoạch được ít thóc nhất ?