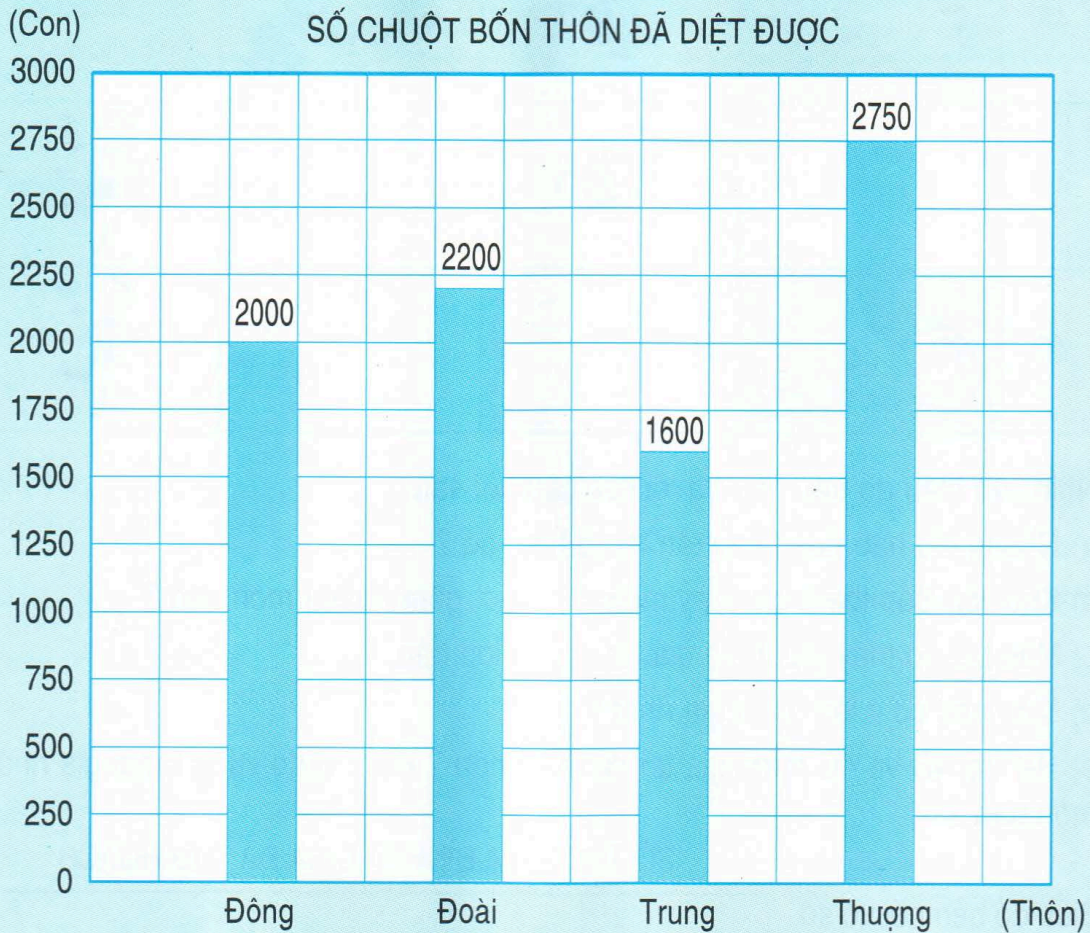




BIỂU ĐỒ (tiếp theo)

Dưới đây là biểu đồ nói về số chuột mà bốn thôn đã diệt được :

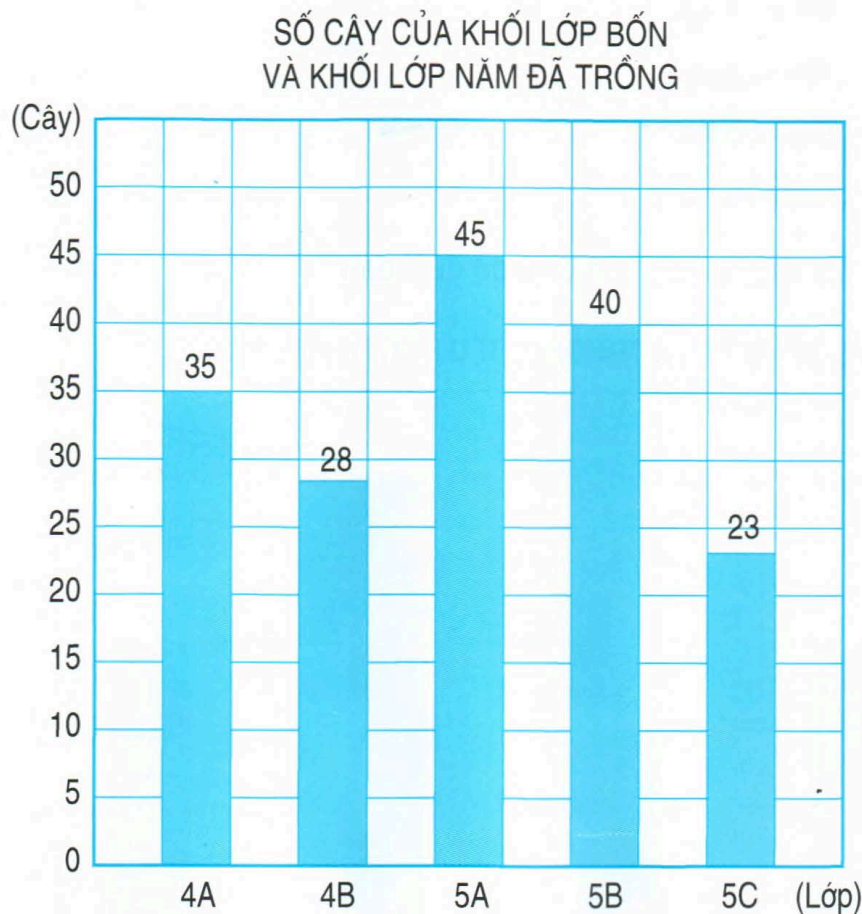


- Hàng dưới ghi tên của các thôn.
- Các số ghi ở bên trái của biểu đồ chỉ số chuột.
- Mỗi cột biểu diễn số chuột của thôn đó đã diệt.
- Số ghi ở đỉnh cột chỉ số chuột biểu diễn ở cột đó.

Biểu đồ trên cho ta biết :

- Bốn thôn được nêu tên trên biểu đồ là : Đông, Đoài, Trung, Thượng.
- Số chuột đã diệt được của thôn Đông là 2000 con, thôn Đoài là 2200 con, thôn Trung là 1600 con và thôn Thượng là 2750 con.
- Cột cao hơn biểu diễn số chuột nhiều hơn. Cột thấp hơn biểu diễn số chuột ít hơn.

1 Biểu đồ dưới đây nói về số cây của khối lớp Bốn và khối lớp Năm đã trồng :



Nhìn vào biểu đồ trên hãy trả lời các câu hỏi sau :

- Những lớp nào đã tham gia trồng cây ?
- Lớp 4A trồng được bao nhiêu cây ? Lớp 5B trồng được bao nhiêu cây ?
Lớp 5C trồng được bao nhiêu cây ?
- Khối lớp Năm có mấy lớp tham gia trồng cây, là những lớp nào ?
- Có mấy lớp trồng được trên 30 cây, là những lớp nào ?
- Lớp nào trồng được nhiều cây nhất ? Lớp nào trồng được ít cây nhất ?

2 Số lớp Một của Trường Tiểu học Hoà Bình trong bốn năm học như sau :

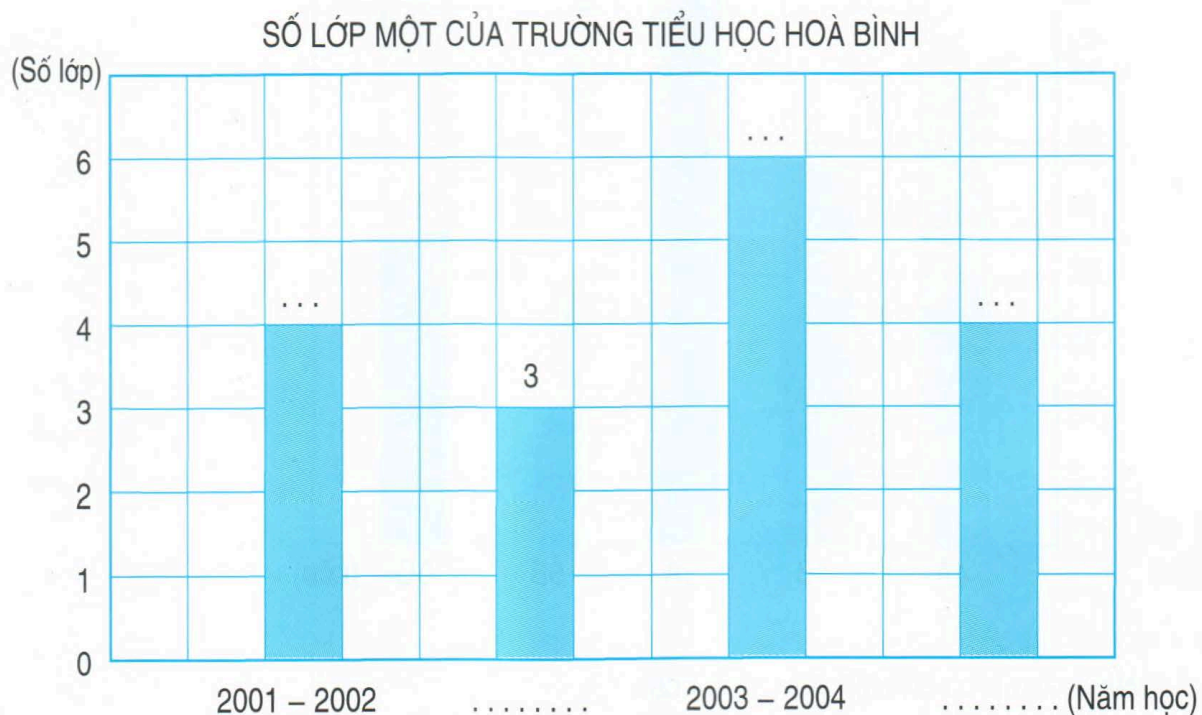
Năm học 2001 – 2002 : 4 lớp

Năm học 2002 – 2003 : 3 lớp

Năm học 2003 – 2004 : 6 lớp

Năm học 2004 – 2005 : 4 lớp.

a) Hãy viết tiếp vào chỗ chấm trong biểu đồ dưới đây :



b) Dựa vào biểu đồ trên hãy trả lời các câu hỏi sau :

- Số lớp Một của năm học 2003 – 2004 nhiều hơn của năm học 2002 – 2003 bao nhiêu lớp ?
- Năm học 2002 – 2003 mỗi lớp Một có 35 học sinh. Hỏi trong năm học đó Trường Tiểu học Hoà Bình có bao nhiêu học sinh lớp Một ?
- Nếu năm học 2004 – 2005 mỗi lớp Một có 32 học sinh thì số học sinh lớp Một năm học 2002 – 2003 ít hơn năm học 2004 – 2005 bao nhiêu học sinh ?