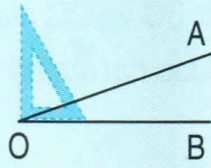




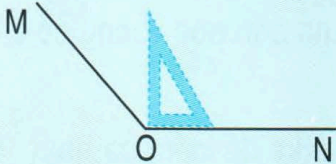
GÓC NHỌN, GÓC TÙ, GÓC BỆT

a)



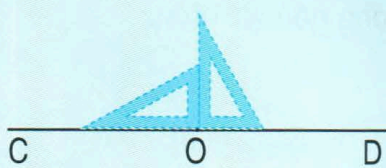
Góc nhọn đỉnh O ; cạnh OA, OB.
Góc nhọn bé hơn góc vuông.

b)



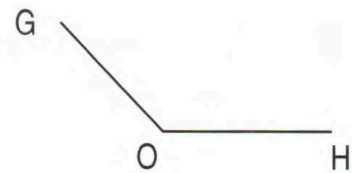
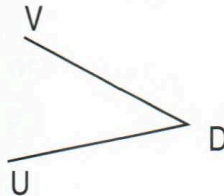
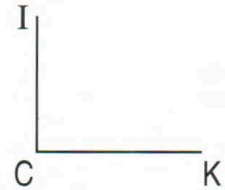
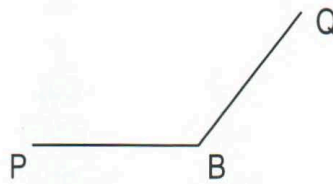
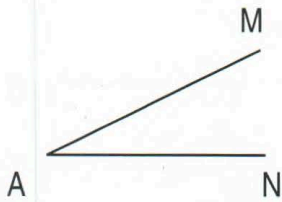
Góc tù đỉnh O ; cạnh OM, ON.
Góc tù lớn hơn góc vuông.

c)



Góc bẹt đỉnh O ; cạnh OC, OD.
Góc bẹt bằng hai góc vuông.

1 Trong các góc sau đây, góc nào là : góc vuông, góc nhọn, góc tù, góc bẹt ?



2 Trong các hình tam giác sau :

- Hình tam giác nào có ba góc nhọn ?
- Hình tam giác nào có góc vuông ?
- Hình tam giác nào có góc tù ?

