




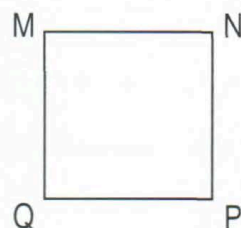

HAI ĐƯỜNG THẲNG SONG SONG



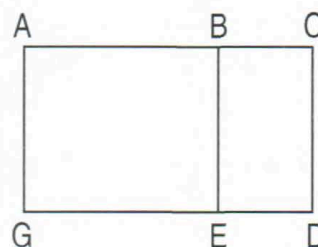
- Kéo dài hai cạnh AB và DC của hình chữ nhật ABCD ta được *hai đường thẳng song song* với nhau.

- Hai đường thẳng song song với nhau không bao giờ cắt nhau.

- 1** a) Cho hình chữ nhật ABCD, AB và DC là một cặp cạnh song song với nhau. Hãy nêu tên từng cặp cạnh song song với nhau có trong hình chữ nhật đó.
b) Nêu tên từng cặp cạnh song song với nhau có trong hình vuông MNPQ.



- 2** Trong hình bên, cho biết các hình tứ giác ABEG, ACDG, BCDE đều là hình chữ nhật. Cạnh BE song song với những cạnh nào ?



- 3** Trong mỗi hình dưới đây :
a) Nêu tên cặp cạnh song song với nhau ;
b) Nêu tên cặp cạnh vuông góc với nhau.

