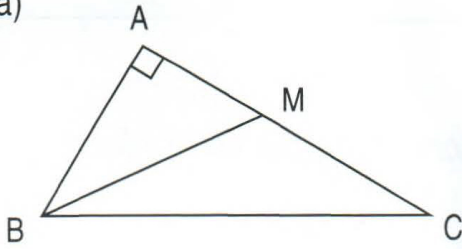




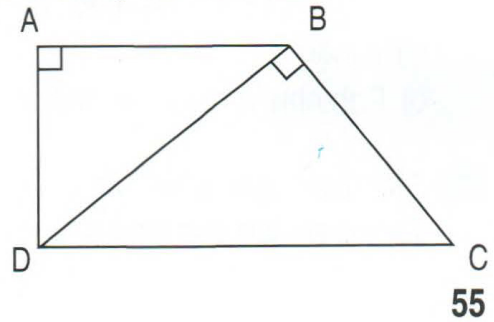
LUYỆN TẬP

1 Nêu các góc vuông, góc nhọn, góc tù, góc bẹt có trong mỗi hình sau :

a)



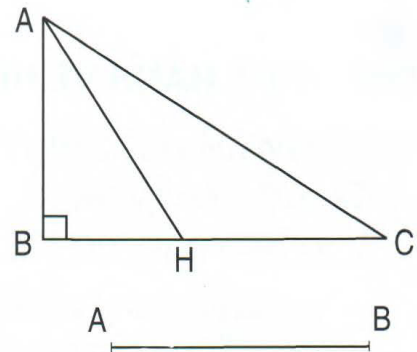
b)



2 Đúng ghi Đ, sai ghi S vào ô trống :

– AH là đường cao của hình tam giác ABC

– AB là đường cao của hình tam giác ABC



3 Cho đoạn thẳng $AB = 3\text{cm}$ (như hình vẽ).
Hãy vẽ hình vuông ABCD (có cạnh là AB).

- 4 a) Hãy vẽ hình chữ nhật ABCD có chiều dài $AB = 6\text{cm}$, chiều rộng $AD = 4\text{cm}$.
b) Xác định trung điểm M của cạnh AD, trung điểm N của cạnh BC. Nối điểm M và điểm N ta được các hình tứ giác đều là hình chữ nhật.
– Nêu tên các hình chữ nhật đó.
– Nêu tên các cạnh song song với cạnh AB.