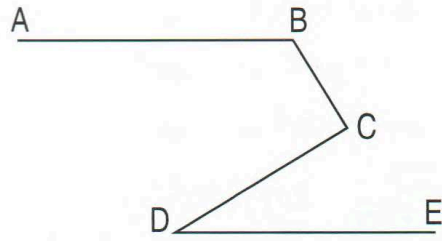



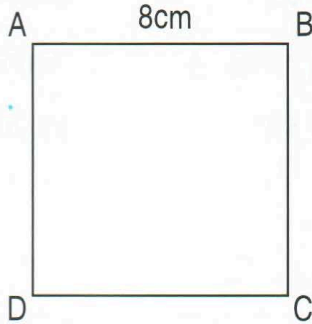


ÔN TẬP VỀ HÌNH HỌC (tiếp theo)

- 1 Quan sát hình bên, hãy chỉ ra :
- Đoạn thẳng song song với AB ;
 - Đoạn thẳng vuông góc với BC.

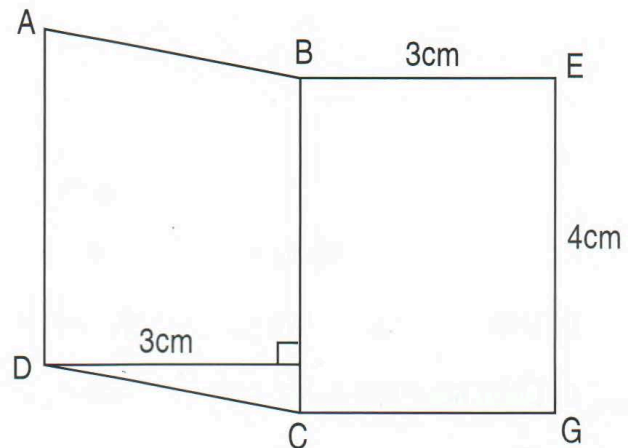


2



Hình vuông ABCD và hình chữ nhật MNPQ có cùng diện tích. Hãy chọn số đo chỉ đúng chiều dài của hình chữ nhật :

- 64cm ;
 - 32cm ;
 - 16cm ;
 - 12cm.
- 3 Hãy vẽ hình chữ nhật có chiều dài 5cm, chiều rộng 4cm. Tính chu vi và diện tích hình chữ nhật đó.
- 4 Cho hình \mathcal{H} tạo bởi hình bình hành ABCD và hình chữ nhật BEGC như hình vẽ bên. Tính diện tích hình \mathcal{H} .



Hình \mathcal{H}