

Bài 133.

HÌNH THOI

1. Nối mỗi tên gọi của hình với hình vẽ tương ứng :



(1)



(2)

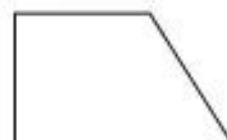
- Hình tam giác
- Hình thoi
- Hình chữ nhật
- Hình vuông



(3)



(4)




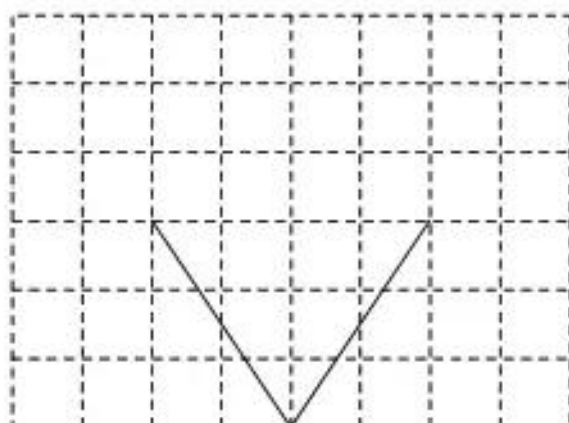
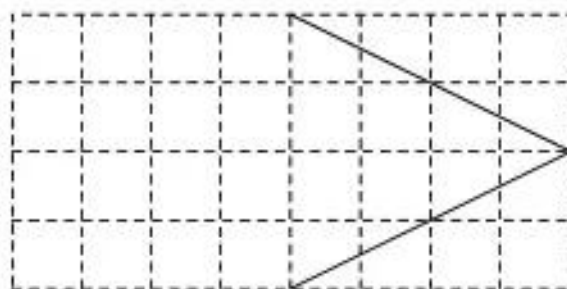
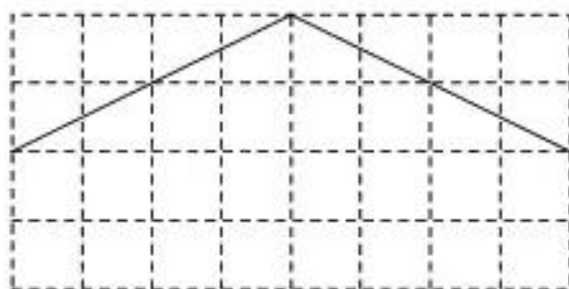
(5)

2. Hãy vẽ hai đường chéo của hình thoi số (2) ở bài 1.

Dùng ê ke để kiểm tra xem hai đường chéo đó có vuông góc với nhau không, rồi viết tiếp vào chỗ chấm :

Hai đường chéo của hình thoi với nhau.

3. Vẽ thêm hai đoạn thẳng để được một hình thoi hoặc một hình vuông :



4. Vẽ theo mẫu :

